



مطالعات اجتماعی نهم

سوالات طبقه بندی شده امتحانات هماهنگ استانها

مؤلف: زینب وندائی



● سوالات و پاسخ امتحانات مطالعات اجتماعی استانها

● منطبق بر آخرین تغییرات کتاب درسی

● ۵ سری آزمون استاندارد پایانی نوبت اول با پاسخ تشریحی

● ۵ سری آزمون استاندارد پایانی نوبت دوم با پاسخ تشریحی

سرشناسه : وندائی اصفهانکی، زینب، ۱۳۵۳ -
 عنوان و نام پدیدآور : سؤالات طبقه‌بندی‌شده امتحانات هماهنگ استانی مطالعات
 اجتماعی، آمادگی دفاعی، املا و انشای فارسی...
 مشخصات نشر : اصفهان: کنکاش، ۱۳۹۵.
 مشخصات ظاهری : ۱۷۴ ص. : : مصور (رنگی).! ۲۲ × ۲۹ س.م.
 شابک : 978-600-136-325-2
 وضعیت فهرست‌نویسی : فیپای مختصر
 یادداشت : فهرست‌نویسی کامل این اثر در نشانی: <http://opac.nlai.ir>
 شماره کتابشناسی ملی: ۴۳۴۰۵۳۵



انتشارات کنکاش ناشر برتر کشور سال ۱۳۹۰ و ناشر برگزیده‌ی استان سال ۱۳۸۸

ناشر دیجیتال مبتنی برخط و مبتنی بر حامل‌های رایانه‌ای
www.gama.ir



نام کتاب : سؤالات طبقه‌بندی شده امتحانات هماهنگ استانی مطالعات اجتماعی نهم
 مؤلف : زینب وندائی
 ویراستار : منوچهر رفیعی
 ناشر : انتشارات کنکاش
 نوبت چاپ : اول (۱۳۹۵)
 تیراژ : ۸۰۰۰ جلد
 قطع : رحلی
 چاپ : کنکاش
 طراح جلد : محمدمامین نادری
 قیمت : ۱۳۵۰۰ تومان

نشانی ناشر: اصفهان - سه راه حکیم نظامی - ابتدای خیابان ارتش - چاپ و نشر کنکاش
 ۰۳۱ - ۳۶۲۵۸۰۴۹

نشانی پخش: اصفهان- خیابان شیخ مفید غربی- ساختمان عقیق واحد ۶

۰۳۱ - ۳۶۶۵۱۴۶۰

۱۰۰۰۹۰۱۳۷۵۱۹۲۹

info@gama.ir

کلیه حقوق چاپ و نشر این اثر برای گاما محفوظ است. هیچ شخص حقیقی یا حقوقی حق چاپ یا انتشار تمام یا بخشی از این اثر را ندارد. متخلفین به‌موجب بند ۵ از ماده ۲ قانون حمایت از ناشران تحت پیگرد قانونی قرار می‌گیرند.

بر اساس سند نقشه جامع علمی کشور، باید الگوی آموزشی حافظه‌مدار جای خود را به الگوی مبتنی بر یادگیری دانش به همراه تربیت انسان‌ها، پرورش مهارت‌ها و پژوهش دهد. کتاب‌های جدید نظام آموزش و پرورش بر اساس همین رویکرد طراحی شده‌اند. ارزشیابی از دانش‌آموزان نیز باید بیشتر جنبه عملکردی داشته باشد و از تمرکز بر حفظ مطالب به درک مفهومی آموخته‌ها تغییر جهت دهد. آزمون‌های هماهنگ استانی، یکی از ارزشیابی‌های استاندارد در سطح آموزش و پرورش کشور است که وب‌سایت گاما با همکاری دبیران محترم عضو سایت برای اولین بار نسبت به جمع‌آوری آزمون‌های استان‌های سراسر کشور اقدام نمود و در نهایت پس از طبقه‌بندی سؤالات و پالایش آن‌ها چند جلد کتاب برای تمرین و افزایش عمق یادگیری دانش‌آموزان پایه نهم آماده نمود. امیدواریم تلاش همکاران ما مورد قبول دبیران، دانش‌آموزان و اولیای محترم واقع شود.

لذا لازم می‌دانیم از دبیران و دانش‌آموزان عزیزی که در ارسال نمونه سؤالات هماهنگ پایه نهم استان‌های سراسر کشور با ما همکاری نمودند، صمیمانه سپاسگزاری کنیم. به خصوص زحمات ارزنده آقایان صادق نیک نظر، خالد قاضی، آیت کریمی، صفدر نادری، محمد ساده، علی مرمرزی، ودود شیخ حسابی، محمد قیاسی، محمدعلی عاشوری، علی عبدی، عبدالرزاق اسدی، یوسف غریبی، عباس نوری، حسین رحمان‌پور، همایون بیگ محمدی و خانم‌ها فاطمه یوسفی مهر، زهرا سیفی پور و ثریا نصرت‌آبادی را هرگز فراموش نخواهیم کرد و پایداری و پیروزی این عزیزان را از خداوند متعال خواستاریم.

گاما در حوزه نشر دیجیتال مبتنی برخط و مبتنی بر حامل‌های رایانه‌ای، بستر حرفه‌ای و بی‌نظیری برای کمک به آموزش و ارزشیابی دانش‌آموزان و معلمان محترم فراهم کرده است. در پورتال گاما خدمات زیر به کاربران عزیز ارائه می‌شود:

۱- امکان جستجوی آسان در بزرگ‌ترین و بی‌نظیرترین بانک نمونه سؤالات امتحانی

۲- بانک پاورپوینت و محتوای آموزشی الکترونیکی

۳- سامانه پرسش و پاسخ تحصیلی و مشاوره‌ای

۴- سامانه آزمون آنلاین با قابلیت برگزاری آزمون‌های تستی و آزمون‌های بنیه علمی و آزمون‌های آزمایشی

۵- امکان مشارکت کلیه دبیران کشور در تولید محتوای آموزشی الکترونیکی اعم از نمونه آزمون، پاورپوینت، نرم‌افزارهای تعاملی، آزمون‌های آنلاین و پاسخ به پرسش‌های دانش‌آموزان و همکاران

۶- امکان عرضه و فروش نسخه‌های آنلاین کتاب‌های آموزشی و کمک‌آموزشی، نرم‌افزارهای آموزشی و محتوای الکترونیکی که توسط دبیران محترم در سراسر کشور تولید می‌شود.

گاما کلید هدف‌های بزرگ

www.gama.ir

کتابی که پیش روی شماست حاصل تلاش چندین ماهه دبیران محترم عضو وب‌سایت گاما است. در این کتاب سؤالات امتحانات هماهنگ دروس مطالعات اجتماعی، آمادگی دفاعی، املا و انشای فارسی پایه نهم در خردادماه سال ۱۳۹۵ در استان‌های سراسر کشور به صورت طبقه‌بندی شده تدوین شده است. شما می‌توانید همزمان با شروع سال تحصیلی در کنار کتاب درسی برای افزایش سطح یادگیری خود از آن استفاده نمایید. دانش‌آموزان عزیز می‌توانند پس از مطالعه کامل و دقیق هر درس از کتاب درسی به بررسی سؤالات آن بپردازند. این سؤالات که بیشتر به صورت مفهومی طراحی شده‌اند به درک عمیق مطالب کتاب درسی کمک زیادی خواهد نمود.

برای آمادگی هر چه بیشتر جهت شرکت در آزمون نوبت اول، تعدادی آزمون نوبت اول از مدارس کشور در اختیار شما قرار داده‌ایم تا با خیال راحت در جلسه امتحان حاضر شوید. همچنین ۵ سری آزمون بسیار خوب از آزمون‌های هماهنگ خرداد ۹۵ را نیز در پایان کتاب قرار داده‌ایم که پیشنهاد می‌کنیم قبل از امتحان نهایی حتماً همه این‌ها را به دقت پاسخ دهید. قطعاً نمره عالی در انتظار شما خواهد بود.

همه سؤالات این کتاب دارای پاسخ‌نامه است و بنابراین دانش‌آموزان به راحتی می‌توانند از درستی یا نادرستی پاسخ‌های خود اطمینان حاصل نمایند.

زینب وندائی

مرداد ۱۳۹۵

مطالبات اجتماعی

فهرست مطالب

صفحه	عنوان
۵	درس ۱: گوی آبی زیبا.....
۸	درس ۲: حرکات زمین.....
۱۱	درس ۳: چهره زمین.....
۱۳	درس ۴: آب فراوان، هوای پاک.....
۱۷	درس ۵: پراکندگی زیست بوم‌های جهان.....
۲۰	درس ۶: زیست بوم‌ها در خطرند.....
۲۲	درس ۷: جمعیت جهان.....
۲۶	درس ۸: جهان نابرابر.....
۲۸	درس ۹: ایرانی متحد و یکپارچه.....
۳۲	درس ۱۰: اوضاع اجتماعی، اقتصادی، علمی و فرهنگی ایران در عصر صفوی.....
۳۴	درس ۱۱: تلاش برای حفظ استقلال و اتحاد سیاسی ایران.....
۳۸	درس ۱۲: در جست‌وجوی پیشرفت و رهایی از سلطه خارجی.....
۴۱	آزمون‌های پایانی نوبت اول.....
۵۴	درس ۱۳: انقلاب مشروطیت: موانع و مشکلات.....
۵۸	درس ۱۴: ایران در دوران حکومت پهلوی.....
۶۰	درس ۱۵: انقلاب اسلامی ایران.....
۶۳	درس ۱۶: ایران در دوران پس از پیروزی انقلاب اسلامی.....
۶۶	درس ۱۷: فرهنگ.....
۶۹	درس ۱۸: هویت.....
۷۳	درس ۱۹: کارکردهای خانواده.....
۷۵	درس ۲۰: آرامش در خانواده.....
۷۸	درس ۲۱: نهاد حکومت.....
۸۱	درس ۲۲: حقوق و تکالیف شهروندی.....
۸۳	درس ۲۳: بهره‌وری چیست؟.....
۸۵	درس ۲۴: اقتصاد و بهره‌وری.....
۸۸	آزمون‌های پایانی نوبت دوم.....



درس ۱: گوی آبی زیبا

سوالات درست و نادرست

ردیف	سؤال	وضعیت
۱	طول جغرافیایی هر مکان عبارت است از فاصله آن مکان با مدار استوا بر حسب درجه.	<input type="checkbox"/> (آذربایجان غربی خرداد ۹۵)
۲	در میان چهار سیاره نزدیک به خورشید، زمین بزرگترین سیاره است.	<input type="checkbox"/> (اردبیل خرداد ۹۵)
۳	سیاره‌های درونی منظومه شمسی، سطوح سنگی و جامد دارند.	<input type="checkbox"/> (اصفهان و زنجان خرداد ۹۵)
۴	در سیارات بیرونی تعداد قمرها بیشتر است.	<input type="checkbox"/> (البرز خرداد ۹۵)
۵	سومین سیاره منظومه خورشیدی مشتری است.	<input type="checkbox"/> (البرز خرداد ۹۵)
۶	زمین در مرکز منظومه خورشیدی قرار دارد.	<input type="checkbox"/> (چهارمحال و بختیاری خرداد ۹۵)
۷	مدارها نیم‌دایره‌های فرضی هستند که از قطب شمال تا قطب جنوب کشیده شده‌اند.	<input type="checkbox"/> (فارس و چهارمحال و بختیاری خرداد ۹۵)
۸	در سیاره‌های گازی یا بیرونی تعداد قمرها کم‌تر است.	<input type="checkbox"/> (قم خرداد ۹۵)
۹	جهت قبله در کشور ما به سمت جنوب شرقی است.	<input type="checkbox"/> (آذربایجان شرقی خرداد ۹۵)
۱۰	نصف‌النهار مبدأ زمین را به دو نیمکره شرقی و غربی تقسیم می‌کند.	<input type="checkbox"/>

سوالات چهارگزینه‌ای (تستی)

- ۱- نصف‌النهار مبدأ (گرینویچ) چند درجه است؟
 الف) ۶۰ درجه ب) ۱۸۰ درجه ج) ۹۰ درجه د) صفر درجه
 (اردبیل خرداد ۹۵)
- ۲- بزرگ‌ترین سیاره نزدیک به خورشید چه نام دارد؟
 الف) تیر ب) بهرام ج) ناهید د) زمین
 (خراسان جنوبی خرداد ۹۵)
- ۳- مدار استوا چند درجه است؟
 الف) ۶۰ درجه ب) ۱۸۰ درجه ج) ۹۰ درجه د) صفر درجه
 (خوزستان خرداد ۹۵)
- ۴- قرار گرفتن هر نقطه از زمین روی یک مدار و یک نصف‌النهار مشخص را چه می‌نامند؟
 الف) طول جغرافیایی ب) مختصات جغرافیایی ج) جهات جغرافیایی د) عرض جغرافیایی
 (گیلان خرداد ۹۵)
- ۵- کدام مورد زیر از سیارات بیرونی منظومه شمسی بوده و از گاز تشکیل شده است؟
 الف) ناهید ب) بهرام ج) برجیس د) زمین
 (همدان خرداد ۹۵)
- ۶- کدام مورد جزو ویژگی‌های سیاره زمین نیست؟
 الف) سطح جامد دارد. ب) جزو سیارات بیرونی منظومه شمسی است.
 ج) سومین سیاره از منظومه شمسی است. د) یک قمر دارد.
 (خراسان رضوی خرداد ۹۵)
- ۷- سیاره بیرونی در منظومه شمسی که بیشترین قمر را دارد است.
 الف) زمین ب) مشتری ج) تیر د) زهره
 (خراسان رضوی خرداد ۹۵)





(خراسان رضوی خرداد ۹۵)

۸- عرض جغرافیایی نقطه قطب شمال چند درجه است؟

(د) ۳۶۰

(ج) ۹۰

(ب) صفر

(الف) ۱۸۰

(فارس خرداد ۹۵)

۹- کدام گزینه در مورد سیاره زمین صحیح نیست؟

(ب) در میان چهار سیاره نزدیک به خورشید، بزرگترین است.

(الف) بخش کوچکی از منظومه خورشیدی است.

(د) فقط یک قمر به نام ماه دارد.

(ج) چهارمین سیاره منظومه و در فاصله ۱۵۰ کیلومتری خورشید است.

سوالات کوتاه پاسخ

(همدان خرداد ۹۵)

۱- به نیم‌دایره‌های فرضی که به دو قطب زمین متصل بوده و طول مساوی دارند، چه می‌گویند؟

(یزد و خوزستان خرداد ۹۵)

۲- به چهار سیاره نزدیک به خورشید که سطوح سنگی و جامد دارند چه می‌گویند؟

(گیلان خرداد ۹۵)

۳- چهار سیاره دورتر از خورشید که از گازهای مختلف تشکیل شده‌اند به چه سیاراتی معروف‌اند؟

(گلستان خرداد ۹۵)

۴- فاصله هر مکان با مدار استوا بر حسب درجه را چه می‌نامند؟

(اصفهان خرداد ۹۵)

۵- مکان دقیق قرار گرفتن یک پدیده روی کره زمین را چه می‌نامند؟

(قم خرداد ۹۵)

۶- جهت قبله در کشور ما «ایران» به کدام سمت است؟

سوالات تشریحی

(پرتکرار ۸ استان)

۱- سیارات درونی و بیرونی منظومه خورشیدی را مقایسه کنید.

ویژگی	سیارات درونی	سیارات بیرونی
مدار گردش	(الف).....	مدار گردش بزرگتر
جنس و ترکیب	سطوح سنگی و جامد	(ب).....
قمر	(ج).....	(د).....

(گلستان خرداد ۹۵)

۲- منظور از سیارات بیرونی چیست؟

(آذربایجان غربی خرداد ۹۵)

۳- سیاره‌های درونی را با ذکر یک مثال، تعریف کنید.

(آذربایجان غربی خرداد ۹۵)

۴- جغرافی‌دانان، به چه دلایلی، خطوط و تقسیمات فرضی را ابداع کرده‌اند؟

(فارس خرداد ۹۵)

۵- موقعیت مکانی هر پدیده چیست و چگونه مشخص می‌شود؟

(فارس و چهارمحال و بختیاری خرداد ۹۵)

۶- طول جغرافیایی هر مکان را تعریف کنید.

(کرمانشاه و یزد خرداد ۹۵)

۷- عرض جغرافیایی هر مکان را تعریف کنید.

(ایلام خرداد ۹۵)

۸- سه مکانی را که روی یک مدار قرار دارند، در نظر بگیرید؛ آیا این سه مکان عرض جغرافیایی یکسانی دارند؟ چرا؟

(ایلام خرداد ۹۵)

۹- مدل یک کره جغرافیایی را ترسیم کنید و طول و عرض جغرافیایی یک مکان را که صفر درجه است روی آن نشان دهید.





(اصفهان خرداد ۹۵)

۱۰- گزینه‌های مربوط به هم را به یکدیگر وصل کنید. (در گزینه‌های سمت چپ یک مورد اضافه است.)

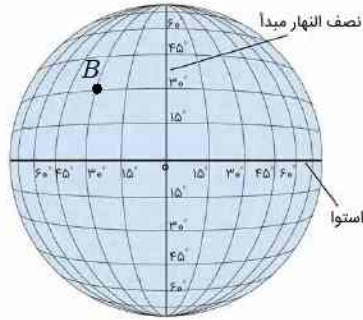
- ۱- مدار نیم‌دایره‌های فرضی که از قطب شمال تا قطب جنوب کشیده شده است.
- ۲- نصف‌النهار دایره‌های فرضی که موازی با خط استوا هستند.
- دایره‌های فرضی که از قطب شمال تا قطب جنوب کشیده شده است.

(پرتکرار ۷ استان)

۱۱- با توجه به هر شکل موارد مشخص شده (طول یا عرض جغرافیایی) نقاط را بنویسید.

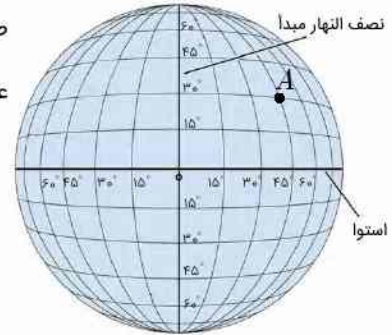
طول جغرافیایی:

عرض جغرافیایی:

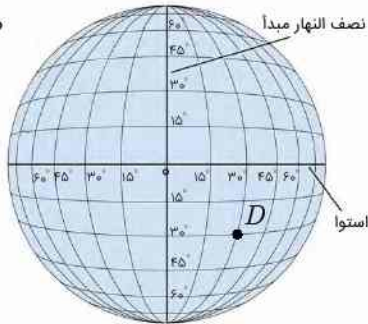


طول جغرافیایی:

عرض جغرافیایی:

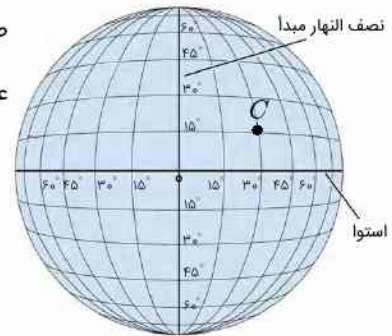


طول جغرافیایی:



طول جغرافیایی:

عرض جغرافیایی:



پاسخ سؤالات درست و نادرست

- ۶- خورشید در مرکز منظومه خورشیدی قرار دارد. صفحه ۳
- ۷- صفحه ۵
- ۸- در سیاره‌های بیرونی تعداد قمرها بیشتر است. صفحه ۳
- ۹- جهت قبله در کشور ما به سمت جنوب غربی است. صفحه ۸

- ۱- صفحه ۶
- ۲- صفحه ۳
- ۳- صفحه ۲
- ۴- در سیارات بیرونی (گازی) تعداد قمرها بیشتر است. صفحه ۳
- ۵- سومین سیاره منظومه خورشیدی زمین است. صفحه ۳

پاسخ سؤالات چهارگزینه‌ای

- ۶- گزینه ب - زمین جزو سیارات درونی منظومه شمسی است نه بیرونی. صفحه ۲ و ۳
- ۷- گزینه ب - بقیه گزینه‌ها سیاره درونی هستند. صفحه ۳
- ۸- گزینه ج - صفحه ۵
- ۹- گزینه ج - زمین سومین سیاره منظومه شمسی است. صفحه ۳
- ۱۰- گزینه د - صفحه ۸

- ۱- گزینه د - نصف‌النهار مبدأ صفر درجه است. صفحه ۵
- ۲- گزینه د - صفحه ۳
- ۳- گزینه د - مدار استوا صفر درجه است. صفحه ۵
- ۴- گزینه ب - صفحه ۶
- ۵- گزینه ج - سایر گزینه‌ها از سیاره‌های درونی هستند. صفحه ۲



پاسخ سؤالات کوتاه پاسخ

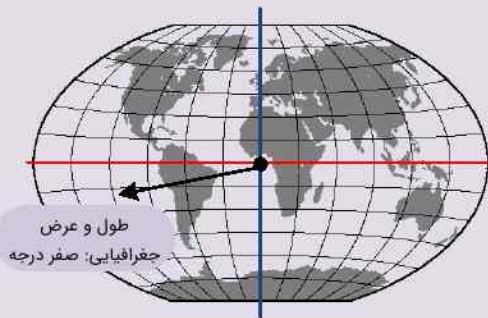
- ۱- نصف‌النهار- صفحه ۵
- ۲- سیاره‌های درونی - صفحه ۲
- ۳- سیاره‌های بیرونی- صفحه ۲

- ۴- عرض جغرافیایی- صفحه ۶
- ۵- موقعیت مکانی- صفحه ۵
- ۶- جنوب غربی- صفحه ۸

پاسخ سؤالات تشریحی

- ۱- الف) مدار گردش کوچکتر (ب) سطوح گازی (ج) تعداد قمرها کم (د) تعداد قمرها زیاد- صفحه ۳ و ۲
- ۲- چهار سیاره دوتر از خورشید که از گازهای مختلفی تشکیل شده‌اند- صفحه ۲
- ۳- منظومه خورشیدی دارای ۸ سیاره است، ۴ سیاره نزدیک به زمین که سطوح سنگی و جامد دارند را سیاره‌های درونی می‌گویند- صفحه ۲
- ۴- ۱- تعیین موقعیت مکانی پدیده‌ها بر روی کره زمین ۲- مطالعه درباره مکان‌ها - صفحه ۵
- ۵- مکان دقیق قرار گرفتن یک پدیده روی زمین - با استفاده از خطوط و تقسیمات فرضی که جغرافیدانان ابداع کرده‌اند- صفحه ۵
- ۶- طول جغرافیایی هر مکان عبارت است از فاصله آن مکان با نصف‌النهار مبدأ برحسب درجه- صفحه ۶
- ۷- عرض جغرافیایی هر مکان عبارت است از فاصله آن مکان با مدار استوا بر حسب درجه- صفحه ۶
- ۸- بله، عرض جغرافیایی فاصله یک نقطه تا مدار استوا بر حسب درجه است چون این سه نقطه روی یک مدار قرار دارند فاصله آن‌ها از مدار استوا به یک اندازه است. - صفحه ۷
- ۹- محل اتصال نصف‌النهار مبدأ و مدار استوا دارای طول و عرض

جغرافیایی صفر است. این نقطه در حاشیه خلیج گینه در غرب قاره آفریقا و در میان آب‌های اقیانوس اطلس قرار دارد. - صفحه ۷



- ۱-۱- مدار: دایره‌های فرضی که موازی با خط استوا هستند- صفحه ۵
- ۲- نصف‌النهار: نیم‌دایره‌های فرضی که از قطب شمال تا قطب جنوب کشیده شده است-۳- سیاره‌های بیرونی- صفحه ۵
- ۱۱- نقطه A: طول: ۴۵ درجه شرقی- عرض: ۳۰ درجه شمالی- صفحه ۶
- نقطه B: طول: ۳۰ درجه غربی- عرض: ۳۰ درجه شمالی
- نقطه C: طول: ۳۰ درجه شرقی- عرض: ۱۵ درجه شمالی
- نقطه D: طول جغرافیایی: ۳۰ درجه شرقی

درس ۲: حرکات زمین

سؤالات درست و نادرست

ردیف	سؤال	وضعیت
۱	سال ۳۶۶ روز را سال کبیسه می‌نامند.	<input type="checkbox"/> (تکرار ۳ استان)
۲	هر منطقه زمانی یک قاچ ۱۵ درجه‌ای است، که یک ساعت را به خود اختصاص می‌دهد.	<input type="checkbox"/> (قم خرداد ۹۵)
۳	مبنای ساعت واقعی، موقعیت خورشید در آسمان است.	<input type="checkbox"/> (مرستان خرداد ۹۵)
۴	عامل پیدایش فصول و نامساوی بودن طول شب و روز، انحراف محور زمین است.	<input type="checkbox"/> (همدان خرداد ۹۵)
۵	از نتایج حرکت انتقالی زمین پیدایش فصول می‌باشد.	<input type="checkbox"/> (زنجان خرداد ۹۵)
۶	در اول تیرماه در نیمکره شمالی طول روزها از شب‌ها بیشتر است.	<input type="checkbox"/> (اردبیل خرداد ۹۵)
۷	حرکت خورشید در آسمان، حرکت ظاهری است.	<input type="checkbox"/>

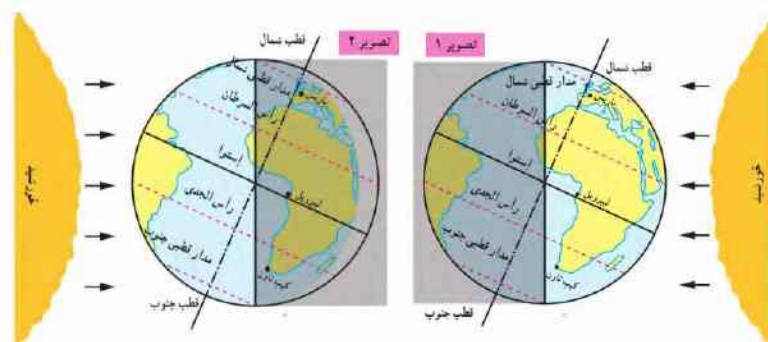


سوالات چهارگزینه‌ای (تستی)

- ۱- اگر نقطه‌ای در فاصله ۷۵ درجه از نصف‌النهار مبدأ باشد، چند ساعت از آن فاصله دارد؟
 الف) ۴ ساعت ب) ۶ ساعت ج) ۲ ساعت د) ۵ ساعت (همدان خرداد ۹۵)
- ۲- مدت زمان واقعی یک دور کامل گردش زمین، به گرد خورشید چه مدت می‌باشد؟
 الف) ۳۶۶ روز ب) ۳۶۵ روز و ۶ ساعت ج) ۳۶۵ روز د) ۳۶۶ روز و ۶ ساعت (اصفهان خرداد ۹۵)
- ۳- سال ۳۶۶ روزه را چه می‌نامند؟
 الف) سال کبیسه ب) سال رسمی ج) سال شمسی د) سال قمری (س. و ب. و هرمزگان خرداد ۹۵)
- ۴- زمین هر چند ساعت یک‌بار به دور محور خود می‌چرخد؟
 الف) ۳۰ ساعت ب) ۲۴ ساعت ج) ۲۵ ساعت د) ۲۷ ساعت (هرمزگان خرداد ۹۵)
- ۵- کدام یک از گزینه‌های زیر از نتایج تمایل محور قطب‌ها بر سطح مدار گردش انتقالی زمین به دور خورشید نیست؟
 الف) پیدایش فصول ب) نامساوی بودن درازی شب و روز
 ج) پدید آمدن شب و روز د) تغییر زاویه تابش آفتاب در طول سال (یزد خرداد ۹۵)
- ۶- هنگامی که خورشید در نیمکره شمالی بر مدار رأس‌السرطان عمود می‌تابد، کدام پدیده به وجود می‌آید؟
 الف) انقلاب تابستانی ب) انقلاب زمستانی ج) اعتدال بهاری د) اعتدال پاییزی (خراسان رضوی خرداد ۹۵)
- ۷- کره زمین به چند قاع ساعتی تقسیم شده و هر قاع، چند درجه پهنا دارد؟
 الف) ۲۴ قاع- ۱۵ درجه ب) ۱۵ قاع- ۲۴ درجه ج) ۲۴ قاع- ۳۶۰ درجه د) ۳۶۰ قاع- ۱۵ درجه (فارس خرداد ۹۵)

سوالات کوتاه پاسخ

- ۱- برای مشخص کردن اوقات شرعی از چه ساعتی استفاده می‌کنیم؟ (البرز خرداد ۹۵)
- ۲- زمین هر ۲۴ ساعت یک‌بار به دور محور خود می‌چرخد، به این حرکت زمین چه می‌گویند؟ (ایلام خرداد ۹۵)
- ۳- زمان واقعی بر مبنای چه چیزی قرار دارد؟ (خوزستان خرداد ۹۵)
- ۴- با توجه به تصاویر به سوالات زیر پاسخ دهید. (فارس خرداد ۹۵)



- الف) کدام تصویر، فصل تابستان را در نیمکره شمالی نشان می‌دهد؟
 ب) در کدام تصویر، طول روز در نیمکره جنوبی بیشتر است؟
 ۵- دلیل تغییر زاویه تابش در طول سال چیست؟



سؤالات تشریحی

(پرتکرار ۱۱ استان)

(البرز و خراسان جنوبی خرداد ۹۵)

(خراسان رضوی خرداد ۹۵)

(همدان خرداد ۹۵)

(تکرار ۴ استان)

(آذربایجان شرقی خرداد ۹۵)

(تکرار ۵ استان)

(تکرار ۳ استان)

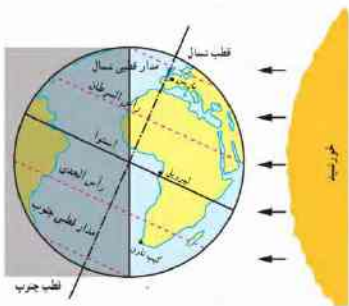
(یزد خرداد ۹۵)

(کرمانشاه خرداد ۹۵)

(خراسان جنوبی و چهارمحال و بختیاری خرداد ۹۵)

(خوزستان خرداد ۹۵)

(پرتکرار ۴ استان)



۱- نتایج حرکت وضعی زمین را بنویسید.

۲- نتایج حرکت انتقالی زمین را بنویسید.

۳- حرکت وضعی زمین را با حرکت انتقالی آن مقایسه کنید.

۴- هر یک از اصطلاحات زیر را تعریف کنید.

الف) سال کبیسه:

ب) حرکت انتقالی زمین:

ج) حرکت وضعی زمین:

۵- از تمایل محور قطبها بر سطح مدار گردش انتقالی زمین، چه نتایج حاصل می‌شود؟

۶- چرا در زندگی روزانه از ساعت واقعی استفاده نمی‌کنیم با ذکر مثال توضیح دهید.

۷- در زندگی روزانه ساعت واقعی چه کاربردی دارد؟

۸- منظور از اعتدالین چیست؟

۹- اگر مسافری از شهر بیرجند به دهلی (هندوستان) سفر کند باید ساعت خود را جلو بکشد یا عقب؟ چرا؟

۱۰- با توجه به اینکه شهر (الف) در موقعیت ۳۰ درجه شرقی و شهر (ب) در موقعیت ۶۰ درجه شرقی قرار دارد:

الف) شما در کدام شهر صدای اذان را زودتر می‌شنوید؟

ب) این دو شهر چند ساعت اختلاف زمانی دارند؟

۱۱- با توجه به شکل مقابل مشخص کنید که در نیمکره شمالی کدام پدیده به وجود آمده است؟ در مورد آن پدیده توضیح دهید. (پرتکرار ۴ استان)

الف) انقلاب تابستانی ب) انقلاب زمستانی

پاسخ سؤالات درست و نادرست

۷- صفحه ۱۲

۵- صفحه ۱۲

۳- صفحه ۱۰

۱- صفحه ۱۲

۶- صفحه ۱۲

۴- صفحه ۱۲

۲- صفحه ۱۰

پاسخ سؤالات چهارگزینه‌ای

۱- گزینه د - هر ۱۵ درجه یک ساعت اختلاف دارد پس ۷۵ را بر ۱۵ تقسیم می‌کنیم. می‌شود ۵ ساعت. - صفحه ۱۰

۲- گزینه ب - صفحه ۱۲

۳- گزینه الف - صفحه ۱۲

۴- گزینه ب - صفحه ۹

۵- گزینه ج - صفحه ۱۲

۶- گزینه الف - صفحه ۱۲

۷- گزینه الف - صفحه ۱۰ و ۱۱





پاسخ سؤالات کوتاه پاسخ

- ۱- ساعت واقعی- صفحه ۱۰
- ۲- حرکت وضعی- صفحه ۹
- ۳- مبنای زمان واقعی موقعیت خورشید در آسمان است- صفحه ۱۰

- ۴- الف) تصویر ۱
- ب) تصویر ۲- صفحه ۱۲
- ۵- مایل بودن محور قطبها - صفحه ۱۲

پاسخ سؤالات تشریحی

- ۱- پدید آمدن شب و روز - اختلاف ساعت- صفحه ۱۰
- ۲- پیدایش فصلها- نامساوی شدن شب و روز- پیدایش سال شمسی - صفحه ۱۲
- ۳- در حرکت وضعی، زمین هر ۲۴ ساعت یکبار به دور محور خود میچرخد اما در حرکت انتقالی زمین به مدت یک سال و یا ۳۶۵ روز به دور خورشید میگردد- صفحه ۹ و ۱۲
- ۴- الف) سال رسمی ۶ ساعت از سال خورشیدی کوتاهتر است. برای جبران کسری این ۶ ساعت، هر ۴ سال یک روز به سال رسمی اضافه می‌شود، سال ۳۶۶ روزه را کبیسه می‌نامند- صفحه ۱۲
- ب) یک دور کامل زمین به گرد خورشید یک سال طول می‌کشد که به آن حرکت انتقالی می‌گویند- صفحه ۱۲
- ج) زمین در هر ۲۴ ساعت یکبار به دور محور خود میچرخد، که به آن حرکت وضعی می‌گویند- صفحه ۱۲
- ۵- ۱- زاویه تابش آفتاب در طول سال تغییر می‌کند و در طی یک سال، زمین در موقعیت‌های مختلفی در برابر خورشید قرار می‌گیرد.
- ۲- درازی شب و روز نامساوی می‌شود ۳- فصل‌های مختلف به وجود می‌آید- صفحه ۱۲
- ۶- زیرا در تعیین قرارهای ملاقات، زمان باز و بسته شدن اداره‌ها و مغازه‌ها و برنامه حرکت قطارها و هواپیماها مشکلات زیادی به وجود خواهد آمد- صفحه ۱۱

- ۷- جهت انجام فرایض دینی - نشان دادن اوقات شرعی مثل نماز خواندن و ... - کاربردهای محلی و مذهبی دیگر مانند: شروع ماه بر اساس استهلال واقعی - صفحه ۱۱
- ۸- در دو موقع از سال، یعنی اول بهار و اول پاییز، درازی روز و شب برابر می‌شود؛ یعنی مسیری که منطقه روشن زمین می‌پیماید با مسیر منطقه تاریک برابر است. به این دو زمان اعتدالین می‌گویند- صفحه ۱۲
- ۹- ساعتش را باید جلو بکشد. زیرا مردم دهلی (هندوستان) که در شرق کشور ایران (بیرجند) قرار دارند خورشید را زودتر دیده‌اند و بنابراین از ظهرشان گذشته است. - صفحه ۱۰
- ۱۰- الف) در شهر (ب) چون آن‌ها خورشید را زودتر دیده‌اند و بنابراین از ظهرشان گذشته است. - صفحه ۱۰
- ب) کره زمین به ۲۴ قاع تقسیم شده است. هر قاع ۱۵ درجه پهنا دارد. هر منطقه زمانی یک قاع است و یک ساعت را به خود اختصاص می‌دهد. این دو شهر $30^\circ - 60^\circ = 30^\circ$ درجه از هم فاصله دارند پس نتیجه می‌گیریم شهر الف) و ب) با یکدیگر ۲ ساعت اختلاف دارند.
- ۱۱- مورد «الف» انقلاب تابستانی: در این پدیده در نیمکره شمالی منطقه وسیع‌تری در معرض نور خورشید قرار می‌گیرد و طول روزها از شب‌ها بیشتر می‌شود یا اشاره به طولانی‌ترین روز در نیمکره شمالی- صفحه ۱۲

درس ۳: چهره زمین

سؤالات درست و نادرست

ردیف	سؤال	وضعیت
۱	در نیمکره جنوبی وسعت خشکی‌های زمین نسبت به آب‌ها بیشتر است.	<input type="checkbox"/> (اصفهان خرداد ۹۵)
۲	هواکره (اتمسفر) شامل گازهایی است که دورتادور کره زمین را فرا گرفته‌اند.	<input type="checkbox"/> (هرمزگان خرداد ۹۵)
۳	کوه‌های مرتفع جزء ناهمواری‌های جوان هستند، شیب تندی دارند و دره‌های آن‌ها به شکل U است.	<input type="checkbox"/>
۴	جلگه‌های پهناور جهان در کنار دریاها یا امتداد رودهای بزرگ تشکیل شده‌اند.	<input type="checkbox"/>





سؤالات چهارگزینه‌ای (تستی)

- ۱- کدام گزینه از عوامل درونی پیدایش و تغییر شکل ناهمواری‌ها بر روی سنگ‌کره است؟
 الف) هوازدگی ب) فرسایش بادی ج) گسل یا شکستگی د) فرسایش یخچالی
 (البرز خرداد ۹۵)
- ۲- کدام عامل از عوامل بیرونی تغییر شکل ناهمواری‌ها نیست؟
 الف) فرسایش بادی ب) کوه‌زایی ج) فرسایش یخچالی د) هوازدگی
 (چهارمحال و بختیاری خرداد ۹۵)
- ۳- بخش خارجی پوسته زمین که جامد است و از سنگ و خاک تشکیل شده است چه نام دارد؟
 الف) اتمسفر ب) هیدرو سفر ج) لیتوسفر د) بیوسفر
 (تکرار ۳ استان)
- ۴- نام دیگر سنگ‌کره چیست؟
 الف) هیدرو سفر ب) بیوسفر ج) اتمسفر د) لیتوسفر
 (گیلان خرداد ۹۵)

سؤالات کوتاه پاسخ

- ۱- بلندترین فلات جهان است.
 ۲- به «گازهایی که دورتادور کره زمین را فرا گرفته‌اند» می‌گویند؟
 ۳- سرزمین‌های مرتفع که از اطراف به سرزمین‌های پست منتهی می‌شود.

سؤالات تشریحی

- ۱- هر یک از ویژگی‌های زیر مربوط به کدام یک از کوه‌هاست؟
 (آذربایجان شرقی خرداد ۹۵)

درهٔ V شکل - درهٔ U شکل - شیب تند دامنه - قله‌های گنبدی

- الف) کوه‌های جوان:
 ب) کوه‌های پیر:
- ۲- انسان چگونه ناهمواری‌های زمین را تغییر می‌دهد؟
 (اصفهان خرداد ۹۵)
- ۳- دو مورد از عوامل بیرونی تغییر چهرهٔ ناهمواری‌ها را بنویسید.
 ۴- کدام عوامل درونی زمین باعث پیدایش ناهمواری‌ها می‌شوند؟
 ۵- زیست‌کره برای حیات خود بر روی زمین به سه محیط نیاز دارد. این سه محیط را نام ببرید.
 ۶- سیاره زمین که ما بر روی آن زندگی می‌کنیم از چهار محیط تشکیل شده است؛ هر یک از گزینه‌های سمت راست را به محیط مربوط به خود در سمت چپ وصل کنید. (در گزینه‌های سمت چپ یک مورد اضافه است.)
 (تکرار ۳ استان)

- الف) بخش خارجی کره زمین که حالت جامد دارد و از سنگ و خاک تشکیل شده‌اند.
 ب) شامل اقیانوس‌ها، دریاها، دریاچه‌ها، رودها و نزولات جوی می‌باشد.
 ج) محیطی که برای زندگی انسان و دیگر موجودات مناسب است.

- ۷- چرا انسان چهرهٔ ناهمواری‌ها را تغییر می‌دهد؟
 ۸- سه مورد از نتایج حرکت ورقه‌ها را بنویسید.
 (س.و.ب خرداد ۹۵)





پاسخ سؤالات درست و نادرست

- ۱- (در نیمکره جنوبی نسبت خشکی ۱۸ درصد و آبها ۸۲ درصد است). - صفحه ۱۶
 ۲- - صفحه ۱۶

- ۳- - صفحه ۱۸
 ۴- - صفحه ۱۷

پاسخ سؤالات چهارگزینه‌ای

- ۱- گزینه ج- سایر گزینه‌ها از عوامل بیرونی تغییر شکل ناهمواری‌ها هستند. - صفحه ۱۸ و ۱۹
 ۲- گزینه ب- کوه‌زایی از عوامل درونی تغییر شکل ناهمواری‌هاست. - صفحه ۱۸ و ۱۹

- ۳- گزینه ج - صفحه ۱۶
 ۴- گزینه د - صفحه ۱۶

پاسخ سؤالات کوتاه پاسخ

- ۱- تبت- صفحه ۱۷
 ۲- هواکره (جو) - صفحه ۱۶

- ۳- فلات- صفحه ۱۷

پاسخ سؤالات تشریحی

- ۱- الف) شیب تند دامنه - دره ۷ شکل - صفحه ۱۸
 ب) قلّه‌های گنبدی شکل - دره ۸ شکل - صفحه ۱۸
 ۲- با احداث شهرها و روستاها- کندن تونل و ساختن جاده‌ها و بزرگ‌راه‌ها- استخراج معادن- فعالیت‌های کشاورزی- ساختن سد و... - صفحه ۲۰
 ۳- هوازدگی- فرسایش آبی- فرسایش بادی- فرسایش یخچالی- صفحه ۱۹
 ۴- ۱- چین‌خوردگی یا (کوهزایی) ۲- شکستگی یا گسل ۳- خروج

- مواد مذاب یا ماگما به سطح زمین (آتش‌فشان) - صفحه ۱۸
 ۵- هواکره- سنگ‌کره- آب‌کره- صفحه ۱۶
 ۶- الف) سنگ‌کره ب) هیدروسفر ج) بیوسفر- صفحه ۱۶
 ۷- انسان‌ها برای رفع نیازهای خود و بهره‌برداری از محیط طبیعی، چهره ناهمواری‌ها را تغییر داده‌اند. - صفحه ۱۹
 ۸- ایجاد چین‌خوردگی‌ها و رشته‌کوه، شکست‌ها (گسل‌ها) و کوه‌های آتش‌فشانی- صفحه ۱۸

درس ۴: آب فراوان، هوای پاک

سؤالات درست و نادرست

ردیف	سؤال	وضعیت
۱	تشکیل ابرها و بسیاری از تغییرات آب‌وهوایی در لایه تروپوسفر اتفاق می‌افتد.	<input type="checkbox"/> (آذربایجان شرقی خرداد ۹۵)
۲	هرچه از مدار استوا (صفر درجه) به سمت عرض‌های جغرافیایی بالاتر حرکت کنیم دمای هوا افزایش می‌یابد.	<input type="checkbox"/> (آذربایجان غربی و خوزستان خرداد ۹۵)
۳	معمولاً شیب قاره از نظر وجود منابع سرشار نفت و گاز و ماهیگیری اهمیت دارد.	<input type="checkbox"/> (خوزستان خرداد ۹۵)
۴	در لایه وردسپهر (تروپوسفر) هر چه از سطح زمین بالاتر رویم دمای هوا زیادتر می‌شود.	<input type="checkbox"/> (گیلان خرداد ۹۵)
۵	باد همیشه از جایی که فشار کمتری دارد به سمت جایی که فشار بیشتری دارد جریان می‌یابد.	<input type="checkbox"/> (هرمزگان خرداد ۹۵)
۶	بیشترین حجم گاز موجود در هوا کره را ابتدا اکسیژن و سپس نیتروژن تشکیل می‌دهند.	<input type="checkbox"/> (همدان خرداد ۹۵)
۷	خشکی‌ها زودتر از آب‌ها گرم می‌شوند و سریع‌تر گرمای خود را از دست می‌دهند.	<input type="checkbox"/> (مرکزی خرداد ۹۵)
۸	از یکسان نتابیدن خورشید به سطح زمین سه منطقه آب‌وهوایی گرم، معتدل و سرد در زمین به وجود آمده است.	<input type="checkbox"/> (زنجان خرداد ۹۵)



سؤالات چهارگزینه‌ای (تستی)

- ۱- دمای هوا در ارتفاع ۲۵۰۰ متری، +۱۲ درجه است، در همان لحظه در ارتفاع ۴۵۰۰ متری دما چقدر است؟
 الف) صفر درجه (ب) +۸ درجه (ج) +۲۴ درجه (د) -۱۲ درجه (همدان خرداد ۹۵)
- ۲- تشکیل ابرها و بسیاری از تغییرات آب‌وهوایی در کدام لایه اتمسفر صورت می‌گیرد؟
 الف) ترموسفر (ب) تروپوسفر (ج) استراتوسفر (د) مزوسفر (یزد و اردبیل خرداد ۹۵)
- ۳- به‌جاهایی که اقیانوس‌ها با خشکی تماس دارند و اغلب ناحیه کم‌عمق با ژرفای کمتر از ۲۰۰ متر می‌سازند چه می‌گویند؟
 الف) دشت اقیانوسی (ب) شیب قاره (ج) فلات قاره (د) گودال اقیانوسی (یزد خرداد ۹۵)
- ۴- عامل مؤثر در پیدایش آب‌وهوای سرد مجاورت قطب‌ها چیست؟
 الف) دوری و نزدیکی به اقیانوس‌ها (ب) ورود گازهای گلخانه‌ای (ج) ارتفاع از سطح زمین (د) عرض جغرافیایی (خراسان رضوی خرداد ۹۵)
- ۵- به ازای هر ۱۰۰۰ متر ارتفاع، دما چند درجه سانتی‌گراد کاهش می‌یابد؟
 الف) ۴ درجه سانتی‌گراد (ب) ۷ درجه سانتی‌گراد (ج) ۶ درجه سانتی‌گراد (د) ۲ درجه سانتی‌گراد (آذربایجان غربی خرداد ۹۵)
- ۶- منابع سرشار نفت و گاز و جزایر ماهی‌گیری در کدام قسمت اقیانوس دیده می‌شود؟
 الف) فلات قاره (ب) شیب قاره (ج) گودال اقیانوسی (د) دشت اقیانوسی (اصفهان خرداد ۹۵)
- ۷- بیشترین گاز موجود در هواکره کدام است؟
 الف) اکسیژن (ب) دی‌اکسید کربن (ج) نیتروژن (د) بخار آب (چهارمحال و بختیاری خرداد ۹۵)
- ۸- کدامیک از پیامدهای ناخوشایند گرم شدن کره زمین نیست؟
 الف) وقوع خشک‌سالی در مناطق گرم (ب) زیر آب رفتن نواحی ساحلی (ج) پایین رفتن آب دریاها (د) ذوب شدن یخ‌های قطبی (چهارمحال و بختیاری خرداد ۹۵)

سؤالات کوتاه پاسخ

- ۱- به پایین‌ترین لایه هواکره که نزدیک به سطح زمین است می‌گویند؟ (مازندران و گیلان خرداد ۹۵)
- ۲- برخی از کشورها با دفن زباله‌های اتمی، موجب بروز چه مشکلی در اقیانوس‌ها می‌شوند؟ (همدان خرداد ۹۵)
- ۳- تشکیل ابرها و بسیاری از تغییرات آب و هوایی در کدام لایه هواکره صورت می‌گیرد؟ (خراسان جنوبی خرداد ۹۵)
- ۴- ناحیه کم‌عمق از اقیانوس که با خشکی‌ها تماس دارند. (خراسان رضوی خرداد ۹۵)
- ۵- از عوامل مهم جریان عمومی هوا و تغییرات آب‌وهوایی در مناطق مختلف است؟

سؤالات تشریحی

- ۱- عوامل مؤثر بر آب‌وهوای جهان را نام ببرید. (پرتکرار ۵ استان)
- ۲- به طور کلی از یکسان نتابیدن خورشید به سطح زمین، سه منطقه در روی زمین پدید می‌آید؛ آن سه منطقه را نام ببرید. (پرتکرار ۴ استان)
- ۳- دوری و نزدیکی به اقیانوس‌ها و دریاها چه تأثیری بر آب‌وهوا دارد؟ توضیح دهید. (اصفهان و لرستان خرداد ۹۵)





(فارس و چهارمحال و بختیاری خرداد ۹۵)

۴- رابطه فشار هوا و ارتفاع را توضیح دهید.

(پرتکرار ۳ استان)

۵- چرا مطالعات در مورد اقیانوس ها و بستر آن ها با دشواری های زیادی روبه رو است؟

(پرتکرار ۳ استان)

۶- فلات قاره (ایوان خشکی) به کجا می گویند؟

(پرتکرار ۴ استان)

۷- فلات قاره (ایوان خشکی) از چه لحاظ دارای اهمیت می باشد؟

(خوزستان خرداد ۹۵)

۸- منظور از هوا کره (اتمسفر) چیست؟

(همدان خرداد ۹۵)

۹- فلات قاره و شیب قاره را در تصویر روبرو مشخص کنید؟



۱۰- متأسفانه دمای کره زمین به دلیل اقدامات نادرست انسان ها در حال افزایش است. به نظر شما این مسئله چه پیامدهایی را به دنبال دارد؟

(پرتکرار ۳ استان)

(البرز خرداد ۹۵)

۱۱- چه کارهایی در محیط زندگی شما موجب آلودگی هوا می شود؟

۱۲- به نظر شما به جای سوخت فسیلی که موجب آلودگی هوا و ورود گازهای گلخانه ای به هوا کره می شود از چه انرژی های دیگری می توان استفاده کرد؟

(س.و.ب خرداد ۹۵)

۱۳- علی دانشجوی دانشگاه یزد در اردوی تفریحی ارتفاعات شیر کوه شرکت نموده است. به نظر شما چرا او با مشکل تنفسی روبه رو شده است؟

(مرکزی خرداد ۹۵)

۱۴- چرا نواحی استوایی گرم تر از مناطق قطبی هستند؟

(مازندران خرداد ۹۵)

۱۵- اهمیت اقیانوس ها را بنویسید.

(اصفهان خرداد ۹۵)

۱۶- فایده لایه ازن چیست؟

۱۷- یکی از مشکلات امروز سیاره ما «گرم شدن کره زمین» است. فرض کنید از شما خواسته اند برای منطقه ای که در آن زندگی می کنید یک پیشنهاد بدهید که به جلوگیری از گرم شدن کره زمین کمک کند. پیشنهاد شما چیست؟

پیشنهاد بدهید که به جلوگیری از گرم شدن کره زمین کمک کند. پیشنهاد شما چیست؟





پاسخ سؤالات درست و نادرست

- ۱- - صفحه ۲۴
- ۲- - هرچه از مدار استوا به سمت عرض‌های جغرافیایی بالاتر حرکت کنیم دمای هوا کاهش می‌یابد. - صفحه ۲۵
- ۳- - فلات قاره از نظر وجود منابع سرشار نفت و گاز و ماهیگیری اهمیت دارند. - صفحه ۲۸
- ۴- - در لایه وردسپهر هر چه از سطح زمین بالاتر رویم دمای هوا کاهش می‌یابد. - صفحه ۲۶
- ۵- - هوا همیشه از جایی که فشار بیشتری دارد به سمت جایی که فشار کمتری دارد جریان می‌یابد. - صفحه ۲۶
- ۶- - هواکره از ۷۸ درصد نیتروژن و ۲۱ درصد اکسیژن تشکیل شده است. - صفحه ۲۴
- ۷- - صفحه ۲۵
- ۸- - صفحه ۲۵

- ۱- - صفحه ۲۴
- ۲- - هرچه از مدار استوا به سمت عرض‌های جغرافیایی بالاتر حرکت کنیم دمای هوا کاهش می‌یابد. - صفحه ۲۵
- ۳- - فلات قاره از نظر وجود منابع سرشار نفت و گاز و ماهیگیری اهمیت دارند. - صفحه ۲۸
- ۴- - در لایه وردسپهر هر چه از سطح زمین بالاتر رویم دمای هوا کاهش می‌یابد. - صفحه ۲۶

پاسخ سؤالات چهارگزینه‌ای

- ۴- گزینه د- صفحه ۲۴ و ۲۵
- ۵- گزینه ج- صفحه ۲۶
- ۶- گزینه الف- صفحه ۲۲
- ۷- گزینه ج- صفحه ۲۴
- ۸- گزینه ج- خشکسالی باعث بالا آمدن آب دریاها می‌شود. - صفحه ۲۶

- ۱- گزینه الف - با توجه به اینکه به ازای هر ۱۰۰۰ متر ۶ درجه کاهش دما داریم. بین ۴۵۰۰ و ۲۵۰۰ متر اختلاف وجود دارد. پس $12 = 6 \times 2$ درجه کاهش دما وجود خواهد داشت. - صفحه ۲۶
- ۲- گزینه ب - صفحه ۲۴
- ۳- گزینه ج- صفحه ۲۲

پاسخ سؤالات کوتاه پاسخ

- ۴- فلات قاره- صفحه ۲۲
- ۵- پراکندگی کانون‌های فشار (مناطق فشار زیاد و مناطق فشار کم) - صفحه ۲۶

- ۱- تروپوسفر- صفحه ۲۴
- ۲- آلودگی- صفحه ۲۲
- ۳- تروپوسفر- صفحه ۲۴

پاسخ سؤالات تشریحی

- ۹- از راست به چپ فلات قاره- شیب قاره- صفحه ۲۱
- ۱۰- پیامدهایی مانند: ۱- ذوب شدن یخ‌های قطبی ۲- بالا آمدن آب دریا ۳- به زیر آب رفتن نواحی ساحلی و جزیره‌ها ۴- افزایش طولانی شدن دوره‌های خشکسالی ۵- افزایش سیلاب و... - صفحه ۲۶
- ۱۱- افزایش فعالیت‌های صنعتی- زیاد شدن خودروها - صفحه ۲۷
- ۱۲- از انرژی باد، خورشید، آب، CNG
- ۱۳- زیرا فشار کمتر و همچنین اکسیژن نیز کمتر است.
- ۱۴- به خاطر اینکه سرزمین‌های نزدیک استوا اشعه عمودی خورشید را دریافت می‌کنند اما هر چه از استوا به طرف قطب‌ها پیش می‌رویم، تابش خورشید مایل‌تر می‌شود. در نتیجه گرمای کمتری به زمین می‌رسد. - صفحه ۲۴
- ۱۵- ۱- تأمین غذا برای انسان ۲- حمل‌ونقل کم‌هزینه ۳- تأمین آب شیرین به صورت غیرمستقیم. - صفحه ۲۲
- ۱۶- لایه ازن یک لایه محافظ در برابر پرتوهای مضر خورشید بر سطح زمین است که بر انسان و محیط زیست تأثیر می‌گذارد. لایه ازن مانع رسیدن بخش بزرگی از اشعه ماورای بنفش به کره زمین است. ورود مقدار زیادی از این اشعه فاجعه بزرگی برای زمین به بار می‌آورد. اگر لایه ازن نبود، زندگی روی کره زمین غیر ممکن بود. - صفحه ۲۵
- ۱۷- استفاده از وسایل حمل‌ونقل عمومی - استفاده از انرژی‌های نو و... - انرژی خورشیدی - استفاده از قطارها و خودروهای برقی و...

- ۱- ۱- زاویه تابش خورشید و عرض جغرافیایی ۲- دوری و نزدیکی به اقیانوس‌ها و دریاها ۳- ارتفاع از سطح زمین ۴- فشار هوا و جریان باد- صفحه ۲۴
- ۲- ۱- منطقه گرم در دو طرف استوا تا مدارهای رأس‌السرطان و رأس‌الجدی ۲- منطقه معتدل شمالی و جنوبی ۳- منطقه سرد در مجاورت قطب‌ها- صفحه ۲۵
- ۳- مناطق مجاور اقیانوس‌ها و دریاها رطوبت بیشتری دریافت می‌کنند و این امر موجب اعتدال دمای نواحی مجاور خود در زمستان و تابستان می‌شوند و گرما و سرمای مناطق را کاهش می‌دهند. - ص ۲۵
- ۴- هر چه از سطح زمین بالاتر برویم (یعنی ارتفاع بیشتر شود) فشار هوا کم می‌شود. - صفحه ۲۶
- ۵- ۱- فشار زیاد آب ۲- تاریکی اعماق آب ۳- عدم وجود تجهیزات کافی- صفحه ۲۲
- ۶- در جاهایی که اقیانوس‌ها با خشکی تماس دارند، اغلب ناحیه‌ای کم‌عمق به ژرفایی کمتر از ۲۰۰ متر دیده می‌شود که به آن فلات قاره (ایوان خشکی) می‌گویند. - صفحه ۲۲
- ۷- از نظر وجود منابع سرشار نفت و گاز و جزایر ماهیگیری اهمیت زیادی دارند. - صفحه ۲۲
- ۸- هواکره لایه‌ای از گاز است که از سطح زمین تا ارتفاع ۱۰۰۰۰ کیلومتری اطراف سیاره زمین را در بر گرفته است. - صفحه ۲۴





درس ۵: پراکندگی زیست‌بوم‌های جهان

سؤالات درست و نادرست

ردیف	سؤال	وضعیت
۱	یک زیست‌بوم فقط بخش کوچکی از یک منطقه را در بر می‌گیرد.	<input type="checkbox"/> (اصفهان خرداد ۹۵)
۲	دو عنصر دما و بارش از عناصر مهم آب‌وهوایی هستند که بر نوع و میزان پوشش گیاهی اثر می‌گذارند.	<input type="checkbox"/> (گیلان خرداد ۹۵)
۳	آب‌وهوای بیابان در طول سال گرم است و در زیست‌بوم آن دو فصل خشک و مرطوب دیده می‌شود.	<input type="checkbox"/> (فارس خرداد ۹۵)
۴	با تغییر دما و بارش از یک ناحیه به ناحیه دیگر، پوشش گیاهی تغییر نمی‌کند.	<input type="checkbox"/> (فارس خرداد ۹۵)

سؤالات چهارگزینه‌ای (تستی)

- ۱- کدام عامل زیر، مهم‌ترین و بیشترین تأثیر را بر تنوع زیست‌بوم‌ها در جهان دارد؟
 الف) شکل ناهمواری‌ها ب) میزان ارتفاع زمین ج) آب‌وهوا د) جنس خاک
 (تکرار ۳ استان)
- ۲- از میان عناصر آب و هوایی در زیست‌بوم‌ها کدام عامل بر نوع و میزان پوشش گیاهی اثر می‌گذارد؟
 الف) ارتفاع و باد ب) باد و دما ج) دما و بارش د) تروپوسفر
 (اردبیل خرداد ۹۵)
- ۳- کدام ناحیه در نزدیکی قطب شمال و حاشیه اقیانوس منجمد شمالی است.
 الف) تایگا ب) توندرا ج) ساوان د) بیابان
 (البرز خرداد ۹۵)
- ۴- کدام زیست‌بوم زیر بیشترین تنوع زیستی جهان را در خود جای داده است؟
 الف) منطقه تایگا ب) توندرا ج) جنگل‌های استوایی د) بیابان
 (همدان و خراسان رضوی خرداد ۹۵)
- ۵- ناحیه وسیع جغرافیایی است که در آن انواع خاصی از گیاهان و جانوران زندگی می‌کنند و ناحیه مشخصی را به وجود می‌آورند؟
 الف) بوم‌سازگان ب) بیوم ج) منطقه حفاظت‌شده د) حیات‌وحش
- ۶- بزرگ جثه‌ترین جانور توندرا، است.
 الف) خرس قطبی ب) گرگ خاکستری ج) گوزن شمالی د) روباه قطبی
- ۷- گسترده‌ترین زیست‌بوم است و به داشتن جنگل‌های مخروطیان و سوزنی‌برگ‌ها معروف است.
 الف) توندرا ب) تایگا ج) ساوان د) جنگل‌های استوایی

سؤالات کوتاه پاسخ

- ۱- بیشترین وسعت ساوان در کدام قاره است؟
 (البرز خرداد ۹۵)
- ۲- سردترین بیابان جهان چه نام دارد؟
 (قم خرداد ۹۵)
- ۳- دو عنصر آب‌وهوایی که بیشترین تأثیر را بر میزان پوشش گیاهی یک منطقه دارند را نام ببرید؟
 (یزد خرداد ۹۵)





سؤالات تشریحی

- ۱- وجود هر زیست‌بوم در یک ناحیه به چه عواملی بستگی دارد؟
(تکرار ۵ استان)
- ۲- توضیح دهید که مهم‌ترین عوامل و عناصر تنوع زیست‌بوم‌ها کدامند؟
(ایلام خرداد ۹۵)
- ۳- ویژگی‌های مهم زیست‌بوم منطقه ساوان را بنویسید.
(ایبزر خرداد ۹۵)
- ۴- زندگی جانوری ساوان چگونه است؟
(گلستان خرداد ۹۵)
- ۵- ویژگی‌های زیست‌بوم ناحیه توندرا را توضیح دهید.
(اردبیل و هرمزگان خرداد ۹۵)
- ۶- من چه زیست بومی هستم:
الف) در این ناحیه فقط گیاهان خزه و گل‌سنگ می‌تواند برآید.
ب) آب‌وهوا در طول سال گرم است و درختان باثواب از گونه‌های مشهور این ناحیه است.
ج) در این منطقه هوا همیشه گرم و رطوبت حدود ۸۰ درصد و میزان بارش سالانه ۲۵۰۰ میلی‌متر است.
۷- اصطلاحات زیر را تعریف کنید:
الف) زیست‌بوم (بیوم):
ب) بیابان:
۸- با استفاده از کلمات داخل کادر نام هر زیست‌بوم را مقابل ویژگی‌های زیر بنویسید.

«تابگا - توندرا - ساوان - بیابان - جنگل‌های بارانی استوایی»

- ۱) دارای درختانی سوزنی‌برگ مانند کاج.
(اصفهان و مرکزی خرداد ۹۵)
- ۲) در نزدیکی قطب شمال با زمستان طولانی، سرمای شدید و پوشش گیاهی کم.
(تکرار ۳ استان)
- ۳) در تمام طول سال، هوا گرم است و در آن دو فصل خشک و مرطوب وجود دارد.
(تکرار ۴ استان)
- ۴) درختان این ناحیه، مانند کاج و سرو همیشه سرسبزند و برگ‌ریزان ندارند.
(تکرار ۴ استان)
- ۵) از نظر تنوع جانوری بسیار غنی است.
(فارس خرداد ۹۵)
- ۶) به دلیل داشتن جنگل‌های مخروطیان معروف است.
(خراسان رضوی خرداد ۹۵)
- ۷) رطوبت در حدود ۸۰ درصد.
(مرکزی خرداد ۹۵)
- ۸) دارای علفزارها با درختان تک و منفرد.
(قم و خوزستان خرداد ۹۵)
- ۹) زمین‌های پوشیده از برف و یخ.
(مرکزی خرداد ۹۵)
- ۱۰) باران کمتر از ۵۰ میلی‌متر در سال و بوته‌های خاردار.
(تکرار ۵ استان)
- ۱۱) بیشترین تنوع زیستی جهان را دارند.
(تکرار ۴ استان)
- ۱۲) بارندگی بین ۲۵۰ تا ۵۰۰ میلی‌متر.
(چهارمحال و بختیاری خرداد ۹۵)





پاسخ سؤالات درست و نادرست

- ۱- یک زیست‌بوم ممکن است بخش وسیعی از یک قاره را در بر گیرد یا ویژگی‌های آن در چند قاره یافت شود. - صفحه ۳۱
- ۲- صفحه ۳۱

پاسخ سؤالات چهارگزینه‌ای

- ۱- گزینه ج - صفحه ۳۱
- ۲- گزینه ج - صفحه ۳۱
- ۳- گزینه ب - صفحه ۳۳
- ۴- گزینه ج - صفحه ۳۴

پاسخ سؤالات کوتاه پاسخ

- ۱- آفریقا - صفحه ۳۴
- ۲- گبی - صفحه ۳۵

پاسخ سؤالات تشریحی

- ۱- آب‌وهوا، شکل ناهمواری‌ها، میزان ارتفاع زمین، جنس خاک - صفحه ۳۱
- ۲- در میان عوامل مؤثر بر تنوع زیست‌بوم‌ها آب‌وهوا مهم‌ترین و بیشترین تأثیر را دارد. از میان عناصر آب و هوایی، دو عنصر «دما» و «بارش» بر نوع و میزان پوشش گیاهی اثر می‌گذارد. به طوری که با تغییر دما و بارش از یک ناحیه به ناحیه دیگر، پوشش گیاهی تغییر می‌کند. - صفحه ۳۱
- ۳- در تمام طول سال گرم است. دارای دو فصل خشک و مرطوب است. در ساوان علف خواران تنومندی زندگی می‌کنند و از درختان معروف آن بائوباب است. - صفحه ۳۴
- ۴- از نظر تنوع جانوری بسیار غنی است ساوان علف خواران تنومند چون گورخر، فیل، زرافه و کرگدن فراوان‌اند و گوشت‌خواران درنده چون شیر از این گیاه‌خواران تغذیه می‌کنند. - صفحه ۳۴
- ۵- این ناحیه زمستان‌های طولانی دارد و سرمای هوا در آن بسیار شدید است به طوری که به ۳۴- درجه نیز می‌رسد. تابستان‌ها نیز

- ۳- این ویژگی مربوط به زیست‌بوم ساوان است. - صفحه ۳۵
- ۴- با تغییر دما و بارش از یک ناحیه به ناحیه دیگر، پوشش گیاهی تغییر می‌کند. - صفحه ۳۱

- ۵- گزینه ب - صفحه ۳۰
- ۶- گزینه الف - صفحه ۳۳
- ۷- گزینه ب - صفحه ۳۳

- ۳- دما و بارش - صفحه ۳۱

- کوتاه و میانگین دما در آن حداکثر ۱۲ درجه سانتی‌گراد است. - زمین‌ها پوشیده از یخ و برف است - خزه و گل‌سنگ می‌رویند - بزرگ‌ترین جاندار توندرا خرس قطبی است
- ۶- الف) توندرا - صفحه ۳۳ (ب) ساوان - صفحه ۳۴ ج) جنگل‌های استوایی - صفحه ۳۴
- ۷- الف) زیست‌بوم یک ناحیه وسیع جغرافیایی است که در آن انواع خاصی از گیاهان و جانوران زندگی می‌کنند و ناحیه مشخصی را به وجود می‌آورند. - صفحه ۳۰
- ب) به سرزمین‌های خشکی که میزان بارندگی سالیانه آن‌ها کمتر از ۵۰ میلی‌متر باشد، بیابان گفته می‌شود. - صفحه ۳۵
- ۸- ۱) تایگا - صفحه ۳۳ (۲) توندرا - صفحه ۳۳ (۳) ساوان - صفحه ۳۴
- ۴) تایگا - صفحه ۳۳ (۵) ساوان - صفحه ۳۴ (۶) تایگا - صفحه ۳۳
- ۷) استوایی - صفحه ۳۴ (۸) ساوان - صفحه ۳۴ (۹) توندرا - صفحه ۳۳
- ۱۰) بیابان - صفحه ۳۵ (۱۱) جنگل‌های استوایی - صفحه ۳۴
- ۱۲) تایگا - صفحه ۳۴





درس ۶: زیست‌بوم‌ها در خطرند

سؤالات درست و نادرست

ردیف	سؤال	وضعیت
۱	در دویست سال اخیر، میزان تغییرات زیست‌بوم‌های جهان از تغییراتی که در تمام مدت عمرشان بر سیاره زمین داشته‌اند، بیشتر بوده است.	<input type="checkbox"/> (آذربایجان غربی خرداد ۹۵)
۲	در صحرای بزرگ آفریقا گونه‌های گیاهی و جانوری در معرض خطر، بسیار کم است.	<input type="checkbox"/> (همدان خرداد ۹۵)
۳	جنگل‌های استوایی از پیچیده‌ترین زیست‌بوم‌های جهان است که غنی‌ترین تنوع گیاهی و جانوری را دارد.	<input type="checkbox"/> (فارس خرداد ۹۵)

سؤالات چهارگزینه‌ای (تستی)

- ۱- دو کشور که بیشترین میزان عاج قاچاق را در جهان وارد می‌کنند کدامند؟
 الف) کنیا، برزیل ب) چین، تایلند ج) هند، تایلند د) کنیا، چین
 (تکرار ۳ استان)
- ۲- در کدام کشور شکار گسترده فیل‌ها باعث کم شدن تعداد این‌گونه جانوری شده است؟
 الف) چین ب) ژاپن ج) تایلند د) کنیا
 (خراسان رضوی و اصفهان خرداد ۹۵)
- ۳- کدام گزینه از مهم‌ترین عواملی که باعث از بین رفتن پوشش گیاهی و جانوری و آلودگی آب‌وخاک و هوای زیستگاه‌ها می‌شوند؛ نیست؟
 الف) ایجاد و گسترش شهرها، ساخت پل‌ها و جاده‌ها همراه با توجه به جنبه‌های زیست‌محیطی
 ب) فعالیت‌های صنعتی و تولید انبوه کالا در کارخانه‌ها
 ج) مصرف‌گرایی و تولید انبوه زباله
 د) شکار و تجارت اعضای بدن حیوانات
 (فارس خرداد ۹۵)

سؤالات کوتاه پاسخ

- ۱- سوزاندن درختان، موجب افزایش چه نوع گازی در اتمسفر زمین می‌شود؟
 (همدان خرداد ۹۵)
- ۲- کدام کشورها بیشترین میزان عاج قاچاق را در جهان وارد می‌کنند؟
 (خراسان جنوبی خرداد ۹۵)
- ۳- این زیست‌بوم به ریه‌های زمین معروف است؟
 (خوزستان خرداد ۹۵) (گلستان خرداد ۹۵)
- ۴- غنی‌ترین تنوع گیاهی و جانوری مربوط به کدام زیست‌بوم است؟
 (مازندران خرداد ۹۵)

سؤالات تشریحی

- ۱- مهم‌ترین عواملی که باعث از بین رفتن پوشش گیاهی، نابودی گونه‌های جانوری و آلودگی آب‌وخاک و هوای زیستگاه‌ها می‌شوند را بنویسید.
 (پرتکرار ۱۳ استان)

- ۲- به نظر شما برای استفاده صحیح و خردمندانه از منابع طبیعی به چه نکاتی باید توجه کرد؟
 (تکرار ۳ استان)





۳- به نظر شما چرا باید از زیستگاه‌ها محافظت شود؟

(لرستان و اصفهان خرداد ۹۵)

۴- در پنجاه سال اخیر، چه عواملی موجب تخریب یا جنگل‌زدایی در جنگل‌های بارانی استوایی شده است؟

(آذربایجان غربی و بزد خرداد ۹۵)

۵- چرا به جنگل‌های استوایی «ریه‌های زمین» می‌گویند؟

(قم خرداد ۹۵)

۶- جنگل‌زدایی یعنی چه؟

(خوزستان و هرمزگان خرداد ۹۵)

۷- در جدول زیر چند مورد از فواید و اهمیت و چند مورد از علل تخریب جنگل‌های استوایی آمازون را بنویسید.

(کرمان خرداد ۹۵)

علل تخریب	فواید و اهمیت
..... (الف) (الف)
..... (ب) (ب)
..... (ج) (ج)
..... (د) (د)

۸- جنگل‌های استوایی از چه نظر دارای اهمیت می‌باشند؟

(تکرار ۳ استان)

۹- اگر حفاظت از زیستگاه جنگل‌های استوایی را به شما واگذار کنند چه راهکاری برای حفاظت آن ارائه می‌دهید؟

(اصفهان خرداد ۹۵)

۱۰- پیشنهاد شما درباره تحریم استفاده از وسایل تزئینی یا اشیایی مثل عاج که در آن‌ها از اعضای بدن جانوران استفاده شده است چیست؟

(البرز خرداد ۹۵)

۱۱- برخی از طرفداران محیط‌زیست، استفاده از وسایل تزئینی یا اشیایی مثل عاج را که در آن‌ها از اعضای بدن جانوران استفاده شده است، تحریم کرده‌اند و آن‌ها را نمی‌خرند؛ نظر شما در این باره چیست؟

(ایلام خرداد ۹۵)

پاسخ سؤالات درست و نادرست

۳- - صفحه ۳۸

۲- - صفحه ۳۷

۱- - صفحه ۳۶

پاسخ سؤالات چهارگزینه‌ای

۳- گزینه الف - ایجاد و گسترش شهرها بدون توجه به جنبه‌های زیست‌محیطی صورت می‌گیرد. - صفحه ۳۸

۱- گزینه ب - صفحه ۴۰

۲- گزینه د - صفحه ۴۰

پاسخ سؤالات کوتاه پاسخ

۳- جنگل‌های استوایی- صفحه ۳۸
۴- جنگل‌های بارانی استوایی- صفحه ۳۸

۱- دی‌اکسید کربن- صفحه ۳۸

۲- چین و تایلند- صفحه ۴۰





پاسخ سؤالات تشریحی

- ۱- ایجاد و گسترش شهرها و روستاها، ساختن پل، جاده، ساختمان‌ها و سدها بدون برنامه‌ریزی و توجه به جنبه‌های زیست‌محیطی - فعالیت‌های صنعتی و تولید انبوه کالاها در کارخانه‌ها - مصرف‌گرایی و تولید انبوه زباله - شکار و تجارت اعضای بدن حیوانات- صفحه ۳۸
- ۲- ۱- باید بین استفاده اقتصادی از منابع جنگل‌ها و فرصت بازسازی آن‌ها تعادل به وجود بیاورد. ۲- کشاورزی و دام‌پروری با روش‌های علمی و جدید، که کمترین آسیب را به محیط‌زیست می‌رسانند، به کشاورزان این منطقه آموزش بدهند. ۳- با ایجاد پارک‌های وحش از گونه‌های جانوری و گیاهی در معرض خطر مراقبت کنند تا نسل آن‌ها منقرض نشود. - صفحه ۴۱
- ۳- اگر جنگل‌ها تخریب شوند مشکلات زیادی برای آب‌وهوای کل کره زمین به وجود می‌آید- نابودی تنوع زیستی به همه ساکنان زمین صدمه می‌زند و...
- ۴- در پنجاه سال اخیر، کشاورزی و دامداری و تجارت الوار و استخراج معادن طلا و بوکسیت (آلومینیم) موجب تخریب یا جنگل‌زدایی در این منطقه شده است. - صفحه ۳۸
- ۵- زیرا این جنگل‌ها حدود ۵۰ درصد اکسیژن سیاره زمین و ۵۰ درصد رطوبت جو را تولید می‌کنند. - صفحه ۳۸
- ۶- از بین بردن کامل جنگل‌ها در یک ناحیه. - صفحه ۳۹
- ۷- فواید و اهمیت: الف) استفاده از درختان در تولید داروهای شیمیایی

- ب) تولید اکسیژن و جذب دی‌اکسید کربن
- ج) وجود تنوع گیاهی با کاربردهای متفاوت د) تهیه محصولات غذایی
- علل تخریب: الف) احداث شهرها و بزرگراه‌ها
- ب) گسترش صنعت الوار و چوب
- ج) استخراج معادن
- د) احداث کارخانه‌ها جهت جلوگیری از بیکاری- صفحه ۳۸ و ۳۹
- ۸- پیچیده‌ترین زیست‌بوم‌های جهان است و غنی‌ترین تنوع گیاهی و جانوری را دارد. $\frac{3}{4}$ تنوع زیستی جهان مربوط به این جنگل‌هاست، جنگل‌های استوایی را ریه‌های زمین می‌نامند. این جنگل‌ها ۵۰ درصد اکسیژن زمین و ۵۰ درصد رطوبت جو را تولید می‌کنند. به همین دلیل بر آب‌وهوای کل زمین اثر می‌گذارند. خاستگاه اولیه بسیاری از درختان میوه است. از این جنگل‌ها انواع محصولات غذایی، دارویی و مواد اولیه صنعتی به دست می‌آید. عصاره گیاهان استوایی در ترکیب بسیاری از داروهای شیمیایی به کار می‌رود. - صفحه ۳۸
- ۹- جلوگیری از قطع درختان - کشت درختان و...
- ۱۰- نخریدن وسایل تزئینی که در آن از اعضای بدن جانوران استفاده شده است. - صفحه ۴۱
- ۱۱- بسیار مناسب است. زیرا باعث می‌شود که شکارچیان از کار خود دست بکشند و این عمل باعث حفظ نسل این موجودات می‌شود و نسل‌های بعدی از دیدن این مخلوقات زیبای خداوند بهره‌مند خواهند شد. - صفحه ۴۱

درس ۷: جمعیت جهان

سؤالات درست و نادرست

وضعیت	سؤال	ردیف
<input type="checkbox"/>	(اصفهان خرداد ۹۵) امروزه کاهش مرگ‌ومیر عامل اصلی رشد جمعیت می‌باشد.	۱
<input type="checkbox"/>	(قم خرداد ۹۵) وقتی میزان مرگ‌ومیر بیشتر از موالید (تولد) می‌شود، جمعیت کاهش می‌یابد.	۲
<input type="checkbox"/>	(فارس خرداد ۹۵) تفاوت میان موالید و مرگ‌ومیر رشد طبیعی جمعیت را نشان می‌دهد.	۳
<input type="checkbox"/>	(فارس خرداد ۹۵) در کشورهای دارای رشد جمعیت منفی، جمعیت سالخورده و از کار افتاده کاهش می‌یابد.	۴
<input type="checkbox"/>	در رشد منفی میزان موالید بیشتر از مرگ‌ومیرها است.	۵





سؤالات چهارگزینه‌ای (تستی)

- ۱- تفاوت میان میزان مولید و میزان مرگ‌ومیر، کدام شاخص را نشان می‌دهد؟
 الف) رشد طبیعی جمعیت ب) تراکم جمعیت ج) میزان پراکندگی جمعیت د) رشد منفی جمعیت
 (خراسان رضوی خرداد ۹۵)
- ۲- اگر درصد رشد جمعیت به کمتر از صفر برسد به آن می‌گویند.
 الف) رشد طبیعی جمعیت ب) تراکم جمعیت ج) میزان پراکندگی جمعیت د) رشد منفی جمعیت
 (اردبیل خرداد ۹۵)
- ۳- علت اصلی افزایش شدید جمعیت زمین در دوپست سال اخیر کدام مورد زیر بوده است؟
 الف) گسترش ارتباطات ب) کاهش مرگ‌ومیرها به‌ویژه کودکان
 ج) افزایش تولید د) افزایش درآمد
 (همدان خرداد ۹۵)
- ۴- به نظر شما افزایش کدام گروه سنی زیر، نعمتی بزرگ و مایه پیشرفت یک کشور خواهد بود؟
 الف) کودکان و نوزادان ب) سالخوردگان ج) نوجوانان د) جوانان
 (همدان خرداد ۹۵)
- ۵- عواملی که موجب جذب جمعیت در یک ناحیه می‌شوند یا طبیعی هستند، یا انسانی. کدام گزینه زیر از عوامل طبیعی جذب جمعیت نیست؟
 الف) نواحی معتدل با باران کافی ب) نواحی صنعتی و دارای کارخانه‌های متعدد
 ج) دشت‌ها و جلگه‌های هموار د) نواحی دارای معادن و ذخایر زیرزمینی
 (فارس خرداد ۹۵)
- ۶- در دو قرن اخیر کدام عامل موجب کاهش چشمگیر مرگ‌ومیرها شده است؟
 الف) مهاجرت از روستا ب) بهبود تغذیه ج) بهبود آموزش د) درآمد زیاد
 (مرکزی خرداد ۹۵)
- ۷- عامل انسانی جذب جمعیت در یک ناحیه چیست؟
 الف) آشوب‌های سیاسی ب) شهرسازی ج) خاک‌های آبرفتی د) معادن
 (خراسان رضوی و یزد خرداد ۹۵)

سؤالات کوتاه پاسخ

- ۱- اگر درصد رشد جمعیت به کمتر از صفر برسد به آنچه می‌گویند؟
 (اصفهان و گلستان خرداد ۹۵)
- ۲- مهاجرت مردم فلسطین جزء کدامیک از انواع مهاجرت‌ها است؟
 (ایلام خرداد ۹۵)
- ۳- مهاجرت در داخل مرزهای یک کشور را چه می‌گویند؟
 (اردبیل خرداد ۹۵)
- ۴- امروزه رفتن آوارگان سوریه به سمت مرزهای اروپا، از نوع مهاجرت اختیاری است یا اجباری؟
 (همدان خرداد ۹۵)
- ۵- عظیم‌ترین مهاجرت اختیاری بشر در قرن نوزدهم و بیستم کدام مورد است؟
- ۶- یکی از تغییرات مهم در الگوی سکونت جمعیت چه بوده است؟

سؤالات تشریحی

- ۱- در دو قرن اخیر چه عواملی موجب کاهش چشمگیر مرگ‌ومیرها شده است؟
 (تکرار ۵ استان)
- ۲- مهاجرت را تعریف کنید و انواع آن را نام ببرید.
 (تکرار ۳ استان)
- ۳- مهاجرت داخلی را با ذکر یک مثال توضیح دهید.
 (کرمان خرداد ۹۵)





(اصفهان خرداد ۹۵)

۴- مهاجرت داخلی و مهاجرت خارجی را با یکدیگر مقایسه کنید.

(تکرار ۳ استان)

۵- مهاجرت اجباری را تعریف کنید و یک مثال بزنید.

(تکرار ۴ استان)

۶- مهاجرت اجباری و اختیاری را با ذکر مثال مقایسه کنید؟

(خراسان رضوی خرداد ۹۵)

۷- توضیح دهید گسترش کشاورزی صنعتی، چه نقشی در افزایش جمعیت جهان در ۲۰۰ سال گذشته داشته است؟

(چهارمحال و بختیاری خرداد ۹۵)

۸- شماره گزینه درست را در کنار عبارت بنویسید.

۱- جمعیت کاهش می‌یابد.

الف) موالید = مرگومیر (.....)

۲- جمعیت ثابت می‌یابد.

ب) موالید < مرگومیر (.....)

۳- جمعیت افزایش می‌یابد.

ج) موالید > مرگومیر (.....)

۴- جمعیت کودکان کاهش می‌یابد.

۹- با توجه به جدول روبرو کدام گزینه رشد منفی جمعیت را نشان می‌دهد؟

الف → مرگومیر = موالید

ب → مرگومیر > موالید

ج → مرگومیر < موالید

(س. و. ب. خرداد ۹۵)

۱۰- رشد منفی جمعیت چرا باعث نگرانی کشورها شده است. دو دلیل بیاورید.

(اردبیل خرداد ۹۵)

۱۱- چه موقع رشد جمعیت و افزایش جمعیت جوان یک نعمت بزرگ و مایه پیشرفت خواهد بود؟

(زنجان خرداد ۹۵)

۱۲- رشد منفی جمعیت چه مشکلاتی در پی دارد؟

(چهارمحال و بختیاری خرداد ۹۵)

۱۳- چه عواملی سبب نگرانی در کشورهای با رشد منفی جمعیت شده است؟

(تکرار ۳ استان)

۱۴- از عوامل انسانی جذب جمعیت دو مورد را نام ببرید.

(تکرار ۳ استان)

۱۵- عوامل طبیعی چگونه می‌تواند مانع جذب جمعیت در یک منطقه شود؟ دو مورد بنویسید.

(فارس خرداد ۹۵)

۱۶- رشد طبیعی جمعیت در یک مکان به چه عواملی بستگی دارد؟

(همدان و گلستان خرداد ۹۵)

۱۷- از مشکلات شهرهای بزرگ امروزی که در اثر مهاجرت و افزایش جمعیت ایجاد شده است چند مورد بنویسید؟

۱۸- دولت‌ها برای جلوگیری از کاهش رشد جمعیت چه برنامه‌هایی را طراحی و اجرا می‌کنند.

۱۹- چگونه بهبود بهداشت باعث کاهش مرگومیرها می‌شود؟

پاسخ سؤالات درست و نادرست

۱- - صفحه ۴۴

۲- - صفحه ۴۵

۳- - صفحه ۴۵

۴- - صفحه ۴۴

۵- - صفحه ۴۴





پاسخ سؤالات چهارگزینه‌ای

- ۱- گزینه الف - صفحه ۴۵
 ۲- گزینه د - صفحه ۴۵
 ۳- گزینه ب - صفحه ۴۴
 ۴- گزینه د - صفحه ۴۴
 ۵- گزینه ب - صفحه ۴۷
 ۶- گزینه ب - صفحه ۴۴

پاسخ سؤالات کوتاه پاسخ

- ۱- رشد منفی- صفحه ۴۵
 ۲- مهاجرت اجباری- صفحه ۴۸
 ۳- مهاجرت داخلی- صفحه ۴۷
 ۴- اجباری

پاسخ سؤالات تشریحی

- ۱- ۱- بهبود بهداشت ۲- بهبود تغذیه- صفحه ۴۴
 ۲- مهاجرت یعنی رفتن از جایی به جای دیگر به منظور کار یا زندگی- انواع آن اجباری- اختیاری- داخلی- خارجی- صفحه ۴۷
 ۳- گاهی مهاجرت در داخل مرزهای یک کشور صورت می‌گیرد که به آن مهاجرت داخلی می‌گویند؛ مانند مهاجرت روستاییان به شهرها یا مهاجرت کارگران فصلی در داخل یک کشور. - صفحه ۴۷
 ۴- مهاجرت در داخل مرزهای یک کشور را مهاجرت داخلی و مهاجرت از یک کشور به کشور دیگر یا عبور از مرزهای بین‌المللی را مهاجرت خارجی می‌گویند. - صفحه ۴۷
 ۵- در مهاجرت اجباری افراد بدون میل خود و به دلایلی مانند قحطی، خشک‌سالی و دیگر حوادث طبیعی و یا جنگ‌ها و درگیری‌های سیاسی مجبور به ترک محل زندگی خود می‌شوند. - مانند: مهاجرت اجباری مردم فلسطین از سرزمین‌های اشغالی یا مهاجرت گروهی از افغان‌ها یا عراقی‌ها به کشورهای همسایه به دلیل جنگ و اشغال نظامی کشورشان. - صفحه ۴۸
 ۶- در مهاجرت اختیاری، افراد با میل و تصمیم خود برای دستیابی به زندگی بهتر به جای دیگری مهاجرت می‌کنند. یکی از عظیم‌ترین مهاجرت‌های بشر در قرن نوزدهم و بیستم مهاجرت اختیاری بیش از صد میلیون نفر از مردم قاره اروپا به سرزمین‌های جدید، یعنی آمریکای شمالی و جنوبی و استرالیا و سکونت در آنجا برای دستیابی به منابع بیشتر و فرصت‌های بهتر زندگی بوده است. در مهاجرت اجباری، افراد بدون میل خود و به دلیل عواملی چون قحطی، خشک‌سالی و دیگر حوادث طبیعی و یا جنگ‌ها و درگیری‌های سیاسی مجبور به ترک محل زندگی خود می‌شوند؛ مانند مهاجرت اجباری مردم فلسطین از سرزمین‌های اشغالی یا مهاجرت گروهی از افغان‌ها یا عراقی‌ها به کشورهای همسایه به دلیل شرایط جنگ و اشغال نظامی
 صفحه ۴۷ و ۴۸
 ۷- با پیشرفت و گسترش کشاورزی صنعتی، تولید مواد غذایی - افزایش یافت و با بهبود تغذیه میزان مرگ‌ومیر کاهش یافته و جمعیت افزایش چشمگیری پیدا کرد. - صفحه ۴۴
 ۸- الف ← جمعیت ثابت می‌ماند. ب ← جمعیت افزایش می‌یابد. ج ← جمعیت کاهش می‌یابد. - صفحه ۴

- ۷- گزینه ب - گزینه‌های ج و د عوامل طبیعی هستند و گزینه الف نیز باعث عدم جذب جمعیت می‌شود. - صفحه ۴۷

- ۵- مهاجرت اختیاری بیش از ۱۰۰ میلیون نفر از مردم اروپا به سرزمین‌های جدید آمریکا و استرالیا ۶- گسترش شهرنشینی- ص ۴۸

- ۹- گزینه «ج»- صفحه ۴۴
 ۱۰- جمعیت سالخورده و از کار افتاده افزایش می‌یابد و چون زادوولد کم است جامعه از نیروی جوان برای تحصیل و علم‌آموزی و کار و پیشرفت محروم می‌شود و جمعیت کم می‌شود. - صفحه ۴۵
 ۱۱- چنانچه در یک کشور برای آموزش صحیح و کار و تأمین شغل جوانان برنامه‌ریزی مناسب و سرمایه‌گذاری صورت بگیرد، رشد جمعیت و افزایش جمعیت جوان یک نعمت بزرگ و مایه پیشرفت خواهد بود. - صفحه ۴۴
 ۱۲ و ۱۳- در کشورهایی که رشد منفی جمعیت دارند سالخورده و ازکارافتاده افزایش می‌یابد چون زاد و ولد کم است جامعه از نیروی جوان برای تحصیل و علم‌آموزی و کار و پیشرفت محروم می‌شود و جمعیت نیز کاهش می‌یابد به همین دلیل آینده این کشورها نگران‌کننده است. - صفحه ۴۵
 ۱۴- شهرهای بزرگ و پایتخت‌ها (سیاسی- اداری)، نواحی صنعتی و مکان‌های گردشگری (اقتصادی) و زیارتی (فرهنگی) و یا مکان‌هایی که امکانات مناسب مانند بیمارستان (امکانات و تسهیلات)، دانشگاه (فرهنگی)، وسایل حمل‌ونقل کافی و... دارند جمعیت را به خود جذب می‌کنند. - صفحه ۴۷
 ۱۵- نواحی معتدل با باران کافی یا نواحی دارای آب‌وهوای موسمی و دشت‌ها و جلگه‌های آبرفتی و حاصلخیز و نواحی دارای منابع آب کافی، جمعیت زیادی را به خود جذب می‌کنند. - صفحه ۴۷
 ۱۶- به دو عامل میزان مولید و میزان مرگ‌ومیرها در یک دوره زمانی وابسته است. - صفحه ۴۴
 ۱۷- مشکلاتی چون ترافیک سنگین - آلودگی هوا - زاغه‌نشینی در حومه شهرها - افراد بی‌خانمان (کارتن‌خواب‌ها) - صفحه ۴۹
 ۱۸- از جمله برنامه‌هایی که برای تشویق به فرزند آوری توسط دولت‌ها طراحی می‌شود: اعطای جایزه و کمک‌های مالی به خانواده‌هایی که صاحب فرزند می‌شوند- واگذاری مسکن- معافیت از پرداخت مالیات- افزایش مرخصی تحصیلی و کاری مادران- صفحه ۴۴
 ۱۹- با پیشرفت در پزشکی و تولید واکسن‌ها و آنتی‌بیوتیک‌ها و کنترل بیماری‌های واگیردار چون وبا و طاعون و... مرگ‌ومیرها کاهش یافت. - صفحه ۴۴



درس ۸: جهان نابرابر

سؤالات درست و نادرست

ردیف	سؤال	وضعیت
۱	در کشورهای مالی، نپال و بنگلادش میانگین سال‌های تحصیل زیاد است.	<input type="checkbox"/> (قم خرداد ۹۵)
۲	دخالت و نفوذ استعمارگران در امور داخلی کشورهای دیگر و جلوگیری از استقلال آن‌ها از جمله علل داخلی نابرابری در جهان محسوب می‌شود.	<input type="checkbox"/> (کرمان خرداد ۹۵)
۳	امروزه از نظر ملاک‌های توسعه انسانی، تمام مردم جهان در وضعیت یکسانی قرار دارند.	<input type="checkbox"/> (همدان خرداد ۹۵)
۴	یکی از ملاک‌های توسعه انسانی، امید به زندگی یا متوسط طول عمر می‌باشد.	<input type="checkbox"/> (زنجان خرداد ۹۵)
۵	آمار و ارقام مربوط به وضعیت و رشد اقتصادی کشورها در طی زمان ثابت است.	<input type="checkbox"/>

سؤالات چهارگزینه‌ای (تستی)

- ۱- میزان طول عمر یا امید به زندگی در یک جامعه نشان دهنده چیست؟
 الف) وضعیت درآمد و رفاه
 ب) وضعیت بهداشت و سلامت
 ج) وضعیت سواد و آموزش
 د) وضعیت ثروت و رشد اقتصادی
 (اردبیل و اصفهان خرداد ۹۵)
- ۲- کدامیک گزینه‌های زیر جزء ملاک‌های اصلی توسعه انسانی نیست؟
 الف) درآمد و رفاه
 ب) آزادی
 ج) امید به زندگی
 د) سواد و آموزش
 (آذربایجان شرقی خرداد ۹۵)
- ۳- با توجه به شاخص «توسعه انسانی» در سال ۲۰۱۴ میلادی، ایران در کدامیک از کشورها قرار می‌گیرد؟
 الف) توسعه انسانی خیلی بالا
 ب) توسعه انسانی بالا
 ج) توسعه انسانی متوسط
 د) توسعه انسانی پایین
 (قم خرداد ۹۵)
- ۴- کدامیک از موارد زیر، از علل و عوامل خارجی نابرابری جمعیت است؟
 الف) حکومت‌های ستمگر وابسته
 ب) اشغال نظامی
 ج) نبود وحدت و مشارکت بین مردم
 د) فرهنگ و باورهای غلط
 (فارس خرداد ۹۵)
- ۵- ملاک‌های شاخص توسعه انسانی را در ذهن خود مرور کرده و بگویید کدام عامل «جنبه اقتصادی داشته و به معنای سطح مطلوب زندگی» است؟
 الف) امید به زندگی
 ب) متوسط طول عمر
 ج) سواد و آموزش
 د) درآمد و رفاه
 (فارس خرداد ۹۵)

سؤالات کوتاه پاسخ

- ۱- مردم کدام کشورها در فقر مطلق زندگی می‌کنند؟
 (هرمزگان خرداد ۹۵)
- ۲- علل و عوامل نابرابری در جهان به چند گروه تقسیم می‌شود نام ببرید.
 (هرمزگان و همدان خرداد ۹۵)
- ۳- میزان ثروت مادی و رشد اقتصادی کشورها را چگونه اندازه‌گیری می‌کنند؟
 (هرمزگان خرداد ۹۵)
- ۴- کدام عامل همواره در سنجش نابرابری کشورها با یکدیگر مورد توجه قرار گرفته است؟






سوالات تشریحی

- ۱- مهم‌ترین ملاک‌های «شاخص توسعه انسانی» را نام ببرید. (تکرار ۱۰ استان)
- ۲- «امید به زندگی یا متوسط طول عمر» در یک کشور، یعنی چه؟ (تکرار ۳ استان)
- ۳- جملات زیر در ارتباط با کدام ملاک‌های توسعه انسانی است. آن‌ها را درون پرانتز بنویسید. (خوزستان خرداد ۹۵)

سواد و آموزش - امید به زندگی یا متوسط طول عمر - میزان درآمد و رفاه

- الف) کمبود پزشک و دارو: (.....)
- ب) وجود ذخایر نفت و گاز: (.....)
- ج) تعداد معلم به ازای دانش‌آموز: (.....)
- ۴- برای پی بردن به وضع آموزش در کشورها چه معیارهایی در نظر گرفته می‌شود؟ (اصفهان خرداد ۹۵)
- ۵- منظور از میانگین سال‌های تحصیلی چیست؟ (گلستان خرداد ۹۵)
- ۶- علل و عوامل داخلی نابرابری در جهان امروز را بنویسید. (تکرار ۴ استان)
- ۷- عوامل خارجی که باعث نابرابری در جهان شده را بنویسید. (خراسان جنوبی خرداد ۹۵)
- ۸- جدول زیر را در رابطه با نابرابری در جهان کامل کنید. (خراسان رضوی خرداد ۹۵)



- ۹- دو دلیل برای این‌که قاره آفریقا بیشترین کشورهای دارای متوسط عمر پایین را دارند بیان کنید. (البرز و بزد خرداد ۹۵)
- ۱۰- به نظر شما کشورهایی که اقتصاد و درآمد آن‌ها بر پایه فروش مواد اولیه و خام مانند نفت است در آینده با چه مشکلاتی روبه‌رو می‌شدند؟ (البرز و ایلام خرداد ۹۵)
- ۱۱- چرا بالا بودن میزان امید به زندگی یا متوسط عمر یکی از عوامل بالا بودن توسعه انسانی کشورها محسوب می‌شود؟
- ۱۲- چرا صاحب‌نظران بر این عقیده بودند که تنها توجه به عامل اقتصادی برای مقایسه کشورها کافی نیست؟

پاسخ سوالات درست و نادرست

- ۱- - صفحه ۵۵ ۳- - صفحه ۵۱
- ۲- - صفحه ۵۵ ۴- - صفحه ۵۰
- ۵- - صفحه ۵۳

پاسخ سوالات چهارگزینه‌ای

- ۱- گزینه ب - صفحه ۵۴
- ۲- گزینه ب - صفحه ۵۰
- ۳- گزینه ب - صفحه ۵۱
- ۴- گزینه ب - صفحه ۵۵
- ۵- گزینه د - صفحه ۵۲





پاسخ سؤالات کوتاه پاسخ

- ۱- موزامبیک - تانزانیا - اتیوپی و نپال - صفحه ۵۲
- ۲- عوامل داخلی - عوامل خارجی - صفحه ۵۵

- ۳- با تولید ناخالص داخلی و درآمد سرانه - صفحه ۵۲
- ۴- عامل اقتصادی - صفحه ۵۰

پاسخ سؤالات تشریحی

- ۱- ۱- درآمد و رفاه ۲- امید به زندگی یا متوسط طول عمر ۳- سواد و آموزش - صفحه ۵۰
- ۲- تعداد سال‌هایی که انتظار می‌رود کودکی که در آن کشور به دنیا آمده است، عمر کند و زنده بماند. - صفحه ۵۴
- ۳- الف) امید به زندگی یا متوسط طول عمر ب) میزان درآمد و رفاه ج) سواد و آموزش - صفحه ۵۴
- ۴- میزان باسوادی بزرگسالان، میانگین سال‌های تحصیل در یک کشور، تعداد معلم به ازای دانش‌آموز - صفحه ۵۴
- ۵- متوسط تعداد سال‌هایی است که دانش‌آموزان یک کشور در مدرسه حضور پیدا کرده و تحصیل کرده‌اند. - صفحه ۵۴
- ۶- ۱) حکومت‌های وابسته و ستمگر (۲) جنگ‌ها و کشمکش‌های داخلی (۳) فرهنگ و باورهای غلط (۴) بی‌سوادی و ناآگاهی مردم (۵) غفلت از استعدادها و فرهنگ خود (۶) نداشتن ایمان و پشتکار و اراده برای تغییر وضع (۷) نبودن وحدت و مشارکت بین مردم - صفحه ۵۵
- ۷- ۱) مستعمره کردن کشورها در گذشته (۲) اشغال نظامی کشورها یا دخالت و نفوذ در امور داخلی آن‌ها (۳) جلوگیری از استقلال سیاسی و اقتصادی آن‌ها - صفحه ۵۵

- ۸- داخلی: جنگ‌ها و کشمکش‌های داخلی، فرهنگ و باورهای غلط و... خارجی: استعمارگری کشورهای قدرتمند و سلطه‌گر، اشغال نظامی و... - صفحه ۵۵
- ۹- جنگ‌های تحمیلی داخلی - سوءتغذیه - کمبود آب آشامیدنی - کمبود پزشک و دارو - صفحه ۵۵
- ۱۰- با کاهش منابع نفتی آن‌ها درآمدهای کشور کاهش می‌یابد و دولت در انجام فعالیت‌های اقتصادی و کشاورزی و صنعتی و... با مشکل مواجه خواهد شد و در انجام خدمات رفاهی و آموزشی و درمانی ناتوان می‌شود. - صفحه ۵۳
- ۱۱- داشتن غذای کافی، آب سالم، امکانات بهداشتی و درمانی مجهز و... نشان‌دهنده توسعه است. - صفحه ۵۴
- ۱۲- به عقیده آنان، درآمد اقتصادی هدف نیست بلکه وسیله‌ای است برای آنکه انسان به هدف‌های والاتر دست یابد و اینکه عوامل زیاد دیگری می‌تواند بر زندگی افراد در یک جامعه اثر بگذارد مانند: هویت، عزت، امنیت، آزادی، احساس شادی و رضایت زندگی - صفحه ۵۰

درس ۹: ایرانی متحد و یکپارچه

سؤالات درست و نادرست

ردیف	سؤال	وضعیت
۱	از اقدامات مهم شاه اسماعیل صفوی، رسمی کردن مذهب شیعه بود.	<input type="checkbox"/> (اصفهان و مرکزی خرداد ۹۵)
۲	در جنگ چالدران ایرانیان به علت استفاده از سلاح آتشین پیروز شدند.	<input type="checkbox"/> (برستان خرداد ۹۵)
۳	قبل از به قدرت رسیدن صفویان کشور ما حکومت واحد و قدرتمندی داشت.	<input type="checkbox"/> (چهارمحال و بختیاری خرداد ۹۵)
۴	از علل برقراری ارتباط ایران با بعضی از کشورهای اروپایی در دوره صفویه حمله پیایی عثمانی به ایران و اروپا بود.	<input type="checkbox"/> (چهارمحال و بختیاری خرداد ۹۵)
۵	انگلیسی‌ها بیشتر به خاطر حفظ منافع خود، در بیرون راندن پرتغالی‌ها از خلیج فارس، به شاه‌عباس کمک کردند.	<input type="checkbox"/> (همدان خرداد ۹۵)
۶	در دوره صفوی، پس از شاه وزیر بزرگ قرار داشت که به او اعتمادالدوله نیز می‌گفتند.	<input type="checkbox"/>
۷	شاه اسماعیل صفوی توانست پرتغالی‌ها را از سواحل و جزایر ایران دور کند.	<input type="checkbox"/>





سؤالات چهارگزینه‌ای (تستی)

- ۱- کدام گزینه زیر به‌عنوان «پنجمین پادشاه صفوی» محسوب می‌شود؟
 الف) شاه عباس دوم (ب) شاه سلیمان (ج) شاه عباس اول (د) شاه صفی
 (آذربایجان غربی خرداد ۹۵)
- ۲- کدام شهر پایتخت حکومت صفوی نبود؟
 الف) قزوین (ب) تهران (ج) تبریز (د) اصفهان
 (اردبیل خرداد ۹۵)
- ۳- در زمان کدام پادشاه صفوی شیعه به‌عنوان مذهب رسمی کشور اعلام شد.
 الف) شاه‌عباس اول (ب) شاه سلطان حسین (ج) شاه اسماعیل (د) شاه‌عباس سوم
 (تکرار ۳ استان)
- ۴- اوج قدرت سلسله صفویان در زمان کدام پادشاه زیر بود؟
 الف) شاه عباس اول (ب) شاه اسماعیل (ج) شاه تهماسب (د) شاه سلطان حسین
 (همدان و زنجان خرداد ۹۵)
- ۵- کدام پادشاه صفوی پایتخت را از قزوین به اصفهان انتقال داد؟
 الف) شاه تهماسب (ب) شاه اسماعیل (ج) شاه عباس اول (د) شاه سلطان حسین
 (خوزستان و سیستان و بلوچستان خرداد ۹۵)
- ۶- در آستانه تأسیس سلسله صفوی، کدام کشور جزایر و سواحل جنوبی ایران را تصرف کرد؟
 الف) اسپانیا (ب) پرتغال (ج) انگلستان (د) فرانسه
 (خراسان جنوبی خرداد ۹۵)
- ۷- کدام شاه صفوی با کمک انگلیسی‌ها، توانست پرتغالی‌ها را از سواحل و جزایر جنوبی ایران بیرون راند؟
 الف) شاه صفی‌الدین (ب) شاه عباس اول (ج) شاه تهماسب (د) شاه سلطان حسین
 (خراسان رضوی و قم خرداد ۹۵)
- ۸- یکی از علل تمایل پادشاهان اروپایی به داشتن رابطه با صفویان، کاستن از حملات کدام کشور به اروپا بود؟
 الف) مصر (ب) روسیه (ج) هند (د) عثمانی
 (همدان خرداد ۹۵)
- ۹- قرون جدید در تاریخ اروپا همزمان با به قدرت رسیدن کدام دوره در ایران بود؟
 الف) زندیه (ب) افشاریه (ج) قاجاریه (د) صفویه

سؤالات کوتاه پاسخ

- ۱- پیشگامان استعمار چه کشورهایی بودند؟
 (کرمانشاه خرداد ۹۵)
- ۲- اوج قدرت صفویان در دوره کدام پادشاه صفوی اتفاق افتاد؟
 (گلستان و یزد خرداد ۹۵)
- ۳- مهم‌ترین طرفداران خانقاه شیخ صفی، ایل‌های ترک بودند که به چه چیز شهرت داشتند.
 (همدان خرداد ۹۵)
- ۴- مؤسس سلسله صفوی که بود و به کمک چه گروهی توانست حکومت صفوی را تشکیل دهد؟

سؤالات تشریحی

- ۱- دلایل سیاسی و نظامی ضعف و فروپاشی حکومت صفوی را بنویسید.
 (تکرار ۴ استان)
- ۲- چرا ایرانیان در جنگ چالدران از سپاه عثمانی شکست خوردند؟
 (تکرار ۳ استان)
- ۳- انگیزه و هدف‌های سیاسی و اقتصادی اروپاییان از برقراری ارتباط با ایران در دوره صفوی چه بود؟
 (تکرار ۵ استان)





۴- اقدامات مهم شاه اسماعیل صفوی پس از تاج‌گذاری در جهت یکپارچه‌سازی ایران چه بود؟ (تکرار ۳ استان)

۵- شاه‌عباس صفوی برای تقویت حکومت مرکزی و جلوگیری از نافرمانی و بی‌نظمی سران قزلباش چه کرد؟ (فارس خرداد ۹۵)

۶- به چه دلیل شاه‌عباس اول حکومت ولایت‌ها را از سران ایل‌های قزلباش گرفت؟ (خراسان رضوی خرداد ۹۵)

۷- چرا شاه تهماسب پایتخت را از تبریز به قزوین انتقال داد؟ (کرمانشاه خرداد ۹۵)

۸- نقش هر یک از مقامات زیر را در چگونگی اداره کشور در دوره صفوی توضیح دهید؟ (خراسان جنوبی خرداد ۹۵)

الف) شاه:

ب) وزیر:

ج) فرماندهان نظامی:

۹- در دوره صفویه چه کسانی در اداره کشور نقش داشتند؟ به ترتیب فقط نام ببرید. (فارس خرداد ۹۵)

۱۰- چرا سلسله صفوی بعد از شاه عباس صفوی از داشتن پادشاه لایق محروم بودند؟ (چهارمحال و بختیاری خرداد ۹۵)

۱۱- اوضاع سیاسی ایران، هنگام تأسیس حکومت صفوی چگونه بود؟

۱۲- با روی کار آمدن حکومت صفوی چه تغییرات مهمی در ایران به وجود آمد؟

۱۳- علت اصلی دشمنی دولت عثمانی با حکومت صفوی چه بود؟

۱۴- حوادث و رخداد‌های زیر، مربوط به دوران کدام پادشاه است. با خط به هم وصل کنید. (فارس خرداد ۹۵)

- | | | |
|-------------------------------------|---|-------------|
| الف) جنگ چالدران | ○ | سلطان حسین |
| ب) شورش افغان‌ها | ○ | شاه اسماعیل |
| ج) انتقال پایتخت از قزوین به اصفهان | ○ | شاه تهماسب |
| | ○ | شاه‌عباس |

۱۵- از بین شهرهای زیر، کدام شهرها پایتخت صفویان بوده است؟ «دور آن‌ها دایره بکشید.» (سه شهر) (قم خرداد ۹۵)

(اردبیل - تبریز - مشهد - قزوین - شیراز - اصفهان - کاشان)

۱۶- من کدام پادشاه صفوی هستم؟ (اصفهان و آذربایجان غربی خرداد ۹۵)

زمانی که قدرت را در حکومت صفوی به دست گرفتم، با کاهش قدرت قزلباش‌ها و مجهز کردن سپاه به تفنگ و توپ، توانستم عثمانی‌ها، ازبکان و پرتغالی‌ها را از ایران و سواحل جنوبی بیرون برانم.

۱۷- من کیستم؟ (فارس خرداد ۹۵)

«پس از پدرم به حکومت صفویان رسیدم. در آن هنگام ازبکان و عثمانی‌ها مجدداً حملات خود به ایران را آغاز کرده بودند که موفق شدم ضمن سر و سامان دادن به اوضاع داخلی و دفع حمله ازبکان و عثمانی‌ها حکومت صفوی را تثبیت و تحکیم بخشم. همچنین پایتخت خود را از تبریز به قزوین انتقال دهم.»





پاسخ سؤالات درست و نادرست

- ۱- - صفحه ۵۹
- ۲- - ایرانیان در این جنگ به دلیل استفاده دشمن از سلاح آتشین شکست خوردند. - صفحه ۵۹
- ۳- - هنگام به قدرت رسیدن صفویان، کشور ما حکومت واحد و قدرتمندی نداشت. - صفحه ۵۸

- ۴- - صفحه ۶۳
- ۵- - صفحه ۶۲
- ۶- - صفحه ۶۱
- ۷- - این کار را شاه عباس انجام داد - صفحه ۶۲

پاسخ سؤالات چهارگزینه‌ای

- ۱- گزینه ج - صفحه ۵۹
- ۲- گزینه ب - صفحه ۵۹
- ۳- گزینه ج - صفحه ۵۹
- ۴- گزینه الف - صفحه ۵۹
- ۵- گزینه ج - صفحه ۵۹
- ۶- گزینه ب - صفحه ۶۲

- ۷- گزینه ب - صفحه ۶۲
- ۸- گزینه د - صفحه ۶۹
- ۹- گزینه د - صفحه ۶۲

پاسخ سؤالات کوتاه پاسخ

- ۱- پرتغال، اسپانیا، انگلستان، فرانسه- صفحه ۶۲
- ۲- شاه عباس- صفحه ۵۹

- ۳- قزلباش- صفحه ۵۸
- ۴- شاه اسماعیل به کمک قزلباش‌ها- صفحه ۵۹

پاسخ سؤالات تشریحی

- ۱- (۱) پس از مرگ شاه عباس اول چهار پادشاه دیگر بر تخت شاهی تکیه زدند که بعضی از آن‌ها توانایی و لیاقت اداره کشور را نداشتند. (۲) سیاست کشتن و کور کردن شاهزادگان و یا بازداشتن آن‌ها از حکومت ولایت‌ها و آموختن شیوه کشورداری، موجب شد سلسله صفوی پس از شاه عباس اول از داشتن پادشاه لایق و توانمند محروم بماند. (۳) مقام‌های کشوری و لشکری دچار اختلاف و درگیری شدند و از انجام مسئولیت‌های مهم خود بازماندند- صفحه ۶۱
- ۲- در این جنگ شاه اسماعیل و سربازانش شجاعت زیادی نشان دادند اما سپاه عثمانی به کمک سلاح‌های آتشین مانند توپ و تفنگ که سپاه ایران از آن‌ها بی‌بهره بود، پیروز شد. - صفحه ۵۹
- ۳- وجود دشمن مشترک یعنی دولت عثمانی بین ایران و اروپا (سیاسی)-شرکت‌های بزرگ تجاری اروپایی تمایل داشتند که روابط تجاری خود را با ایران گسترش دهند. (اقتصادی) - صفحه ۶۳
- ۴- رسمی کردن مذهب شیعه پس از تاج‌گذاری- به وجود آوردن حکومتی نیرومند و یکپارچه در ایران - شکست ازبکان- صفحه ۵۹
- ۵- (۱) حکومت ولایت‌ها را از آنان گرفت و به افرادی غیر از قزلباش سپرد. (۲) در کنار سپاه قزلباش، سپاه جدیدی از افراد غیر قزلباش تشکیل داد. (۳) با کمک گرفتن از اروپائیان سپاه را به تفنگ و توپ مجهز کرد. - صفحه ۶۲
- ۶- تقویت حکومت مرکزی و جلوگیری از نافرمانی و بی‌نظمی آن‌ها- صفحه ۶۲
- ۷- زیرا تبریز همواره در معرض هجوم سپاه عثمانی بود. - صفحه ۵۹
- ۸- الف) شاهان صفوی همچون فرمانروایان پیش از خود، اختیارات زیادی داشتند و با استبداد بر کشور حکومت می‌کردند. همه مقامات

- کشوری و لشکری مطیع فرمان شاه بودند و اجازه نداشتند مخالف خواست و اراده او عمل کنند. ب) مسئول امور اداری و مالی کشور بود اما در مقابل شاه قدرت و اختیار چندانی نداشت. ج) علاوه بر فرماندهی سپاه، معمولاً حاکم ولایات مهم نیز بودند. - صفحه ۶۱
- ۹- (۱) پادشاه (۲) وزیر بزرگ یا اعتمادالدوله (۳) فرماندهان نظامی
 - ۱۰- سیاست کشتن و کور کردن شاهزادگان و یا بازداشتن آن‌ها از حکومت ولایت‌ها و آموختن شیوه کشورداری، موجب شد سلسله صفوی پس از شاه عباس اول از داشتن پادشاه لایق و توانمند محروم بماند. - صفحه ۶۰
 - ۱۱- کشور ما حکومت واحد و قدرتمندی نداشت و دچار تفرقه و تجزیه شده بود. در آن زمان، حاکمان بخش‌های مختلف ایران باهم در جنگ بودند. به همین دلیل، امنیت و آرامش شهرها و روستاها از بین رفته و امور کشور مختل شده بود. همزمان نیز امپراتوری عثمانی و ازبک‌ها به مرزهای ایران می‌تاختند. - صفحه ۵۸
 - ۱۲- رسمی شدن مذهب شیعه - یکپارچه شدن کشور - رسیدن قلمرو به حدود قلمرو دوره ساسانیان- همبستگی و اتحاد بیشتر ایرانیان- صفحه ۵۹
 - ۱۳- شکل‌گیری سلسله قدرتمند و شیعه‌مذهب صفویه- صفحه ۵۹
 - ۱۴- جنگ چالدران (شاه اسماعیل) - صفحه ۵۹ شورش افغان‌ها (سلطان حسین) - صفحه ۶۱ انتقال پایتخت از قزوین به اصفهان (شاه‌عباس) - صفحه ۵۹
 - ۱۵- تبریز- قزوین- اصفهان- صفحه ۵۹
 - ۱۶- شاه عباس
 - ۱۷- شاه تهماسب صفوی





درس ۱۵: اوضاع اجتماعی، اقتصادی، علمی و فرهنگی ایران در عصر صفوی

سؤالات درست و نادرست

ردیف	سؤال	وضعیت
۱	در دوره صفوی پر سودترین کالای صادراتی، «قالی» بود که در اختیار شاه عباس بود.	<input type="checkbox"/> (چهارمخال و بختیاری خرداد ۹۵)
۲	یکی از منابع عمده درآمد حکومت صفوی، مالیات بود.	<input type="checkbox"/> (آذربایجان شرقی خرداد ۹۵)
۳	برپایی جشن‌ها و آیین‌ها در دوره صفوی تأثیر مهمی در افزایش همدلی و همبستگی مردم داشت.	<input type="checkbox"/> (لرستان خرداد ۹۵)
۴	آیین سوگواری امام حسین (ع) به طور گسترده در سراسر کشور در زمان حکومت افشاریه باشکوه برگزار می‌شد.	<input type="checkbox"/> (زنجان خرداد ۹۵)
۵	در دوره صفویه، شعر و ادب فارسی مانند دیگر رشته‌ها پر رونق نبود.	<input type="checkbox"/> (مرکزی خرداد ۹۵)
۶	در دوره صفویه وضع زندگی دهقانان و روستائیان ایرانی بهتر از دهقانان اروپایی بود.	<input type="checkbox"/> (همدان خرداد ۹۵)
۷	در دوره صفویه، روستاییان و کوچ‌نشینان به ترتیب بیشترین ساکنان ایران را تشکیل می‌دادند.	<input type="checkbox"/>

سؤالات چهارگزینه‌ای (تستی)

- ۱- شیخ بهایی از عالمان بزرگ کدام سلسله بود؟
 الف) افشاریه ب) زندیه ج) صفویان د) قاجاریه
 (اصفهان خرداد ۹۵)
- ۲- صنعت یکی از صنایع پر رونق ایران در دوره صفوی بود، که با اروپا رقابت می‌کرد.
 الف) فلزکاری ب) نظامی ج) کاشی‌سازی د) بافندگی
 (خراسان رضوی خرداد ۹۵)

سؤالات کوتاه پاسخ

- ۱- پرسودترین کالای صادراتی ایران در دوره صفویه چه نام داشت؟
 (قم و یزد خرداد ۹۵)
- ۲- پادشاهان صفوی ضمن بی‌توجهی به شعر و شاعری به کدام علم توجه خاصی داشتند؟
 (همدان خرداد ۹۵)

سؤالات تشریحی

- ۱- چرا دوره صفویه شرایط مناسبی برای رونق زندگی اجتماعی و اقتصادی ایران پدید آمد؟
 (اصفهان خرداد ۹۵)
- ۲- منابع عمده درآمد در حکومت صفویه را بنویسید.
 (تکرار ۳ استان)
- ۳- عوامل گسترش تجارت داخلی و خارجی در عصر صفوی را بنویسید.
 (پرتکرار ۱۹ استان)
- ۴- فیلسوفان نامدار و عالمان بزرگ روزگار صفوی را نام ببرید؟
 (یزد و گلستان خرداد ۹۵)
- ۵- در دوره صفوی، آیین سوگواری حضرت امام حسین (ع) به چه شیوه‌هایی برگزار می‌شد؟
 (آذربایجان غربی خرداد ۹۵)
- ۶- جشن‌ها و آیین‌هایی که در دوره صفوی مورد توجه قرار گرفت را بنویسید.
 (مازندران خرداد ۹۵)
- ۷- بیشتر شهر نشینان در دوره صفوی چه کسانی بودند؟
 (اردبیل خرداد ۹۵)
- ۸- فرهنگ ایران در عصر صفوی چه وضعیتی داشته است؟
 (ابرز خرداد ۹۵)





(هرمزگان خرداد ۹۵)

۹- کدام محصولات ایرانی در دوره صفوی به کشورهای همسایه و برخی کشورهای اروپایی صادر می‌شد؟

۱۰- در دوره صفوی چه فعالیت‌هایی در زمینه توسعه علم و دانش انجام شد؟

۱۱- توجه به علم تاریخ در زمان صفویه چه نتایجی به همراه داشت؟

۱۲- صنعت بافندگی در گذشته در بیشتر شهرهای ایران از جمله در اصفهان و مشهد رواج داشته است. به نظر شما، امروزه علت کاهش رونق این صنعت چیست؟

(خوزستان خرداد ۹۵)

(اردبیل و البرز خرداد ۹۵)

۱۳- من کیستم؟

برای گسترش تجارت خارجی حکومت صفوی به شرکت‌های اروپایی اجازه فعالیت داد. صادرات ابریشم در انحصار من بود.

پاسخ سؤالات درست و نادرست

- ۱- در دوره صفوی پر سودترین کالای صادراتی ابریشم بود. - صفحه ۶۷
- ۲- صفحه ۶۴
- ۳- صفحه ۶۹
- ۴- در زمان حکومت صفوی - صفحه ۶۹

- ۵- صفحه ۶۸
- ۶- صفحه ۶۴
- ۷- صفحه ۶۴

پاسخ سؤالات چهارگزینه‌ای

- ۱- گزینه ج - صفحه ۶۸

- ۲- گزینه د - صفحه ۶۵

پاسخ سؤالات کوتاه پاسخ

- ۱- ابریشم - صفحه ۶۷

- ۲- تاریخ - صفحه ۶۸

پاسخ سؤالات تشریحی

- ۱- ۱- به دلیل وجود حکومت مرکزی نیرومند ۲- برقراری نظم و امنیت در سراسر کشور - صفحه ۶۴
- ۲- ۱- مالیاتی که از کشاورزان و دامداران می‌گرفتند. ۲- عوارضی که از کاروان‌های تجاری گرفته می‌شد. ۳- صادرات ابریشم که در انحصار شاه‌عباس بود. - صفحه ۶۷
- ۳- ۱- یکپارچه بودن سرزمین ایران ۲- وجود نظم و امنیت ۳- ایجاد شبکه وسیعی از راه‌ها و کاروان‌سراها در سراسر ایران ۴- اقامت رایگان بازرگانان و مسافران در کاروانسراها ۵- رفتار پسندیده مأموران راهداری با مسافران و ... - صفحه ۶۷
- ۴- میرداماد - ملاصدرا - شیخ بهایی - علامه محمدباقر مجلسی - صفحه ۶۸
- ۵- روضه‌خوانی، سینه‌زنی و تعزیه - صفحه ۶۹
- ۶- جشن نوروز و دیگر جشن‌های باستانی، اعیاد اسلامی مانند قربان، فطر و غدیر و آیین سوگواری امام حسین (ع) - صفحه ۶۹
- ۷- شهرنشینان بیشتر مقام‌های حکومتی، نظامیان، روحانیون،

- بازرگانان، پیشه‌وران و صنعتگران بودند. - صفحه ۶۴
- ۸- به علت کم‌توجهی پادشاهان به شاعران شعر و ادب فارسی پررونق نبود. در زمان صفویان ذوق هنری شکوفا شد و علم تاریخ مورد توجه قرار گرفت و کتاب‌های تاریخی زیادی نوشته شد. - صفحه ۶۸
- ۹- محصولات باکیفیت مانند خشکبار - پارچه‌های مخملی ابریشمی و حریر - قالی‌های نفیس - صفحه ۶۵
- ۱۰- پادشاهان، مقام‌های کشوری و لشگری و دیگر بزرگان، مدرسه‌ها و کتابخانه‌های عظیمی به‌ویژه در پایتخت‌های صفوی ساختند و اموال و املاک بسیاری را وقف آن‌ها کردند. - صفحه ۶۸
- ۱۱- افراد زیادی به ثبت و نگارش وقایع تاریخی پرداختند و کتاب‌های ارزشمندی از این دوره به‌جای مانده است. - صفحه ۶۸
- ۱۲- نوسانات قیمت مواد اولیه، نبود سیستم برنامه‌ریزی شده در خصوص بازاریابی، عدم حمایت از قشر تولیدکننده، ماشینی شدن زندگی و ...
- ۱۳- شاه‌عباس اول - صفحه ۶۷





درس ۱۱: تلاش برای حفظ استقلال و اتحاد سیاسی ایران

سؤالات درست و نادرست

ردیف	سؤال	وضعیت
۱	انقلاب صنعتی رقابت‌های استعماری را در جهان افزایش داد.	<input type="checkbox"/> (خراسان رضوی خرداد ۹۵)
۲	بر اساس قرارداد گلستان، سرزمین‌های ایرانی شمال رود ارس، به تصرف روسیه درآمد.	<input type="checkbox"/> (خراسان جنوبی خرداد ۹۵)
۳	کریم‌خان به‌جای عنوان شاه لقب «وکیل‌الرعایا» یعنی نماینده مردم را برای خود برگزید.	<input type="checkbox"/> (پرتکرار ۸ استان)
۴	سلسله قاجاریه در حفظ قلمرو ایران و همچنین ندادن امتیازات به بیگانگان بسیار موفق بودند.	<input type="checkbox"/> (همدان خرداد ۹۵)
۵	انگلیسی‌ها محمد شاه قاجار را وادار کردند که با جدایی قسمت شرقی سیستان و بلوچستان از ایران موافقت کند.	<input type="checkbox"/> (خراسان جنوبی خرداد ۹۵)

سؤالات چهارگزینه‌ای (تستی)

- پایتخت زندیه کدام شهر بود؟
الف) اصفهان (ب) مشهد (ج) تهران (د) شیراز
(اردبیل خرداد ۹۵)
- طبق کدام عهدنامه زیر ایالت‌های گرجستان و داغستان و شهرهای باکو و گنجه از حاکمیت ایران خارج شد؟
الف) گلستان (ب) مفصل (ج) ترکمانچای (د) پاریس
(مرکزی و اصفهان خرداد ۹۵)
- کدام یک از موارد زیر از اقدامات نادرشاه نیست؟
الف) تأسیس سلسله افشار (ب) تأسیس نیروی دریایی در خلیج فارس
ج) بستن قرارداد صلح با روسیه (د) لشکرکشی به هندوستان
(چهارمحال و بختیاری خرداد ۹۵)
- اهداف استعماری روسیه در زمان پتر کبیر، فرمانروای این کشور کدام مورد است؟
الف) تصرف هندوستان و زیر فشار قرار دادن انگلستان (ب) رسیدن به آب‌های خلیج فارس
ج) انعقاد قراردادهای گلستان و ترکمن‌چای با ایران (د) ایجاد پایگاه‌های نظامی در ایران و افغانستان
(چهارمحال و بختیاری خرداد ۹۵)
- کدام پادشاه لقب وکیل‌الرعایا را برای خود برگزید؟
الف) نادر (ب) آقا محمدخان (ج) کریم‌خان زند (د) فتحعلی‌شاه
(س. و ب. و هرمزگان خرداد ۹۵)
- عهدنامه گلستان در زمان کدام پادشاه قاجار به ایران تحمیل شد؟
الف) آقا محمدخان (ب) محمد شاه (ج) فتحعلی شاه (د) ناصرالدین شاه
(لرستان و خراسان رضوی خرداد ۹۵)
- کدام فرد زیر توانست پس از ضعف و سقوط صفویان، با غلبه بر دشمنان خارجی سلسله افشاریه را تأسیس کند؟
الف) کریم‌خان زند (ب) نادر (ج) آقا محمدخان (د) شاه طهماسب
(همدان خرداد ۹۵)
- حاکمیت گرجستان، داغستان، باکو و گنجه در زمان کدام سلسله، به روسیه واگذار گردید؟
الف) صفویه (ب) افشاریه (ج) قاجاریه (د) زندیه
(همدان خرداد ۹۵)
- نفوذ و دخالت‌های گسترده کشورهای روسیه، انگلستان و فرانسه در ایران همزمان با به قدرت رسیدن کدام پادشاه قاجار بود؟
الف) آقا محمدخان (ب) فتحعلی شاه (ج) محمد شاه (د) ناصرالدین شاه
(همدان خرداد ۹۵)





سؤالات کوتاه پاسخ

- ۱- آرامش و آسایش گذرا عبارت مناسبی برای سلسله کدام پادشاه می باشد؟ (البرز خرداد ۹۵)
- ۲- هدف انگلستان از برقراری رابطه با قاجاریه، ممانعت از حمله رقبای خود به کدام کشور از طریق خاک ایران بود؟ (همدان خرداد ۹۵)
- ۳- جدایی قسمت شرقی سیستان و بلوچستان در زمان این پادشاه اتفاق افتاد؟ (یزد خرداد ۹۵)
- ۴- آخرین فرمانروای زندیه چه کسی بود؟ (یزد خرداد ۹۵)
- ۵- قرارداد ترکمن چای میان کدام کشورها بسته شد؟ (تکرار ۳ استان)
- ۶- عهدنامه گلستان بین ایران و کدام کشور بسته شد؟ (فارس و ایلام خرداد ۹۵)
- ۷- بنیان گذار سلسله زندیه که بود و چه لقبی داشت؟ (تکرار ۶ استان)
- ۸- آقا محمدخان کدام سلسله را پایه گذاری نمود؟ (خوزستان خرداد ۹۵)
- ۹- چه کسی افغان ها را شکست داد و سلسله افشاریه را تأسیس کرد؟ (اصفهان خرداد ۹۵)

سؤالات تشریحی

- ۱- با توجه به اهداف و برنامه های استعماری انگلستان در ایران به سؤالات زیر پاسخ دهید.
 - الف) مهم ترین مستعمره انگلستان چه نام داشت؟ (خراسان رضوی خرداد ۹۵)
 - ب) یکی از هدف های اصلی انگلستان از برقراری رابطه با حکومت قاجار چه بود؟ (آذربایجان غربی و خراسان رضوی خرداد ۹۵)
 - ج) به موجب کدام عهدنامه بین ایران و انگلستان، افغانستان از کشور ما جدا شد؟ (خراسان رضوی خرداد ۹۵)
- ۲- هدف دولت انگلستان از جدا کردن افغانستان و بخش شرقی سیستان بلوچستان از ایران چه بود؟ (البرز خرداد ۹۵)
- ۳- به موجب عهدنامه گلستان چه بخش هایی از ایران جدا و تحت حاکمیت روسیه قرار گرفتند؟ (تکرار ۸ استان)
- ۴- در عهدنامه ترکمن چای چه مفادی به ضرر ایران گنجانده شد؟ (تکرار ۳ استان)
- ۵- انقلاب صنعتی چه نتایجی برای اروپاییان به دنبال داشت؟ توضیح دهید. (اردبیل خرداد ۹۵)
- ۶- انقلاب صنعتی اروپا توجه کشورهای اروپایی را به سوی چه مناطقی جلب کرد؟ (اصفهان خرداد ۹۵)
- ۷- به چه دلیل با انقلاب صنعتی کشورهای اروپایی رقابت های استعماری خود را افزایش دادند؟ (مرکزی خرداد ۹۵)
- ۸- تعهدات ایران و انگلستان در عهدنامه های دوره فتحعلی شاه را بنویسید. (اردبیل خرداد ۹۵)
 - ۱- تعهد ایران:
 - ۲- تعهد انگلستان:
- ۹- کریم خان زند چگونه پادشاهی بود؟ و کدام بناها در زمان او ساخته شده است؟ (هرمزگان خرداد ۹۵)
- ۱۰- وضعیت عمومی و آرامش کشور در دوره نادرشاه افشار و کریم خان زند را باهم مقایسه کنید. (خوزستان خرداد ۹۵)





۱۱- علت تحمیل عهدنامه گلستان از طرف روسیه به ایران چه رویدادی بود؟

۱۲- واکنش مردم ایران پس از عهدنامه گلستان چه بود؟ نتیجه آن چه شد؟

۱۳- انگلیسی‌ها چگونه حکومت قاجار را مجبور کردند به جدایی افغانستان از ایران رضایت دهد؟

۱۴- علل و عوامل نابسامانی اوضاع اجتماعی و اقتصادی ایران در دوران افشاریه را بنویسید.

۱۵- هر کدام از وقایع ذکر شده در زمان پادشاهی کدام‌یک از افراد زیر، به وقوع پیوست؟ موارد مرتبط را با کشیدن یک خط به یکدیگر وصل کنید. (یک مورد اضافه است)

(خراسان رضوی خرداد ۹۵)

- | | |
|---|---------------|
| الف) تعقیب افغان‌های شورشی تا خاک هندوستان | • کریم‌خان |
| ب) جلوگیری از شورش‌های داخلی با روش‌های مسالمت‌آمیز | • آقا محمدخان |
| | • نادرشاه |

(البرز خرداد ۹۵)

۱۶- رابطه بین گزینه‌ها را پیدا کرده و با خطی به هم متصل کنید. (از گزینه‌های سمت چپ یک مورد اضافی است.)

- | | |
|-----------------------------|---------------------|
| الف) باکو و گنجه | • عهدنامه ترکمن‌چای |
| ب) سرزمین‌های شمالی رود ارس | • عهدنامه گلستان |
| | • عهدنامه پاریس |

(زنجان خرداد ۹۵)

۱۷- من کیستم؟

«بیشتر دوره ۱۲ ساله پادشاهی‌ام را به نبرد با بیگانگان و فرونشاندن شورش‌های داخلی گذرانده‌ام. کوشیدم ایران را به کشوری یکپارچه و قدرتمند مبدل سازم که بتواند از استقلال و تمامیت سرزمین خود در برابر دشمنان کشور دفاع کند. از موقعیت حساس خلیج فارس و اهمیت نیروی دریایی آگاه بودم و برای تأسیس نیروی دریایی در خلیج فارس کارهایی را انجام دادم که با پایان عمرم نتوانستم آن‌ها را به پایان برسانم.»

(البرز خرداد ۹۵)

۱۸- من کیستم؟

من در شهر شیراز زندگی می‌کردم. بناهای چون حمام وکیل، مسجد وکیل به دستور من ایجاد شده است.

پاسخ سؤالات درست و نادرست

۴- ۵- صفحه ۷۷

۱- صفحه ۷۶ ۲- صفحه ۷۶ ۳- صفحه ۷۳

پاسخ سؤالات چهارگزینه‌ای

۷- گزینه ب - صفحه ۷۲

۱- گزینه د - صفحه ۷۴ ۴- گزینه ب - صفحه ۷۶

۸- گزینه ج - صفحه ۷۶

۲- گزینه د - صفحه ۷۶ ۵- گزینه ج - صفحه ۷۳

۹- گزینه ب - صفحه ۷۵

۳- گزینه ج - صفحه ۷۲ ۶- گزینه ج - صفحه ۷۶





پاسخ سؤالات کوتاه پاسخ

- ۱- دولت زندیه- صفحه ۷۳
 ۲- هند- صفحه ۷۷
 ۳- ناصرالدین شاه- صفحه ۷۷
 ۴- لطفعلی خان زند- صفحه ۷۴
 ۵- ایران و روسیه- صفحه ۷۷
 ۶- روسیه- صفحه ۷۴

- ۷- کریم خان - وکیل‌الرعايا- صفحه ۷۳
 ۸- قاجاریه- صفحه ۷۴
 ۹- نادرشاه- صفحه ۷۲

پاسخ سؤالات تشریحی

- ۱- الف) هندوستان - صفحه ۷۷
 ب) عدم دسترسی کشورهای رقیب از طریق ایران به هند - صفحه ۷۷
 ج) پاریس - صفحه ۷۶
 ۲- با تشکیل دولت افغانستان بهتر بتواند از مستعمره خود یعنی هندوستان حفاظت کند و مانع نفوذ کشورهای رقیب (روسیه و فرانسه) از طریق ایران به هندوستان شوند. - صفحه ۷۷
 ۳- ایالت‌های گرجستان و داغستان و شهرهای باکو و گنجه از حاکمیت ایران خارج شدند. - صفحه ۷۶
 ۴- بر اساس آن سرزمین‌های شمال رود ارس به تصرف روسیه درآمد- ایران از داشتن کشتی جنگی در دریای مازندران محروم شد و مجبور به غرامت شدند. صفحه ۷۶
 ۵- در نتیجه این انقلاب، نیروی ماشین و ابزارهای صنعتی جای نیروی انسان و ابزارهای دستی را در تولید گرفت. سرعت و میزان تولید افزایش یافت. موجب شکوفایی اقتصادی و افزایش قدرت نظامی و سیاسی کشورهای اروپایی شد و توجه آن‌ها را به کشورهایی که مواد اولیه یا بازار مصرف مناسبی داشتند جلب کرد. - صفحه ۷۶
 ۶- توجه آن‌ها را به کشورهایی که مواد اولیه یا بازار مصرف مناسبی داشتند جلب کرد. - صفحه ۶۴
 ۷- انقلاب صنعتی موجب شکوفایی اقتصادی و افزایش قدرت نظامی و سیاسی کشورهای اروپایی شد و توجه آن‌ها را به کشورهایی که مواد اولیه یا بازار مصرف مناسبی داشتند جلب کرد به این ترتیب کشورها فعالیت‌ها و رقابت‌های استعماری خود را افزایش دادند. - صفحه ۷۶
 ۸- ایران: به هیچ کشوری اجازه ندهد از خاک ایران به هندوستان لشکرکشی کند. - انگلیس: در صورت حمله کشورهای دیگر به ایران به حکومت قاجار کمک‌های مالی و نظامی کنند. - صفحه ۷۷
 ۹- او با ملایمت و مهربانی با مردم رفتار می‌کرد به صلح و آسایش و آرامش عمومی اهمیت می‌داد و از شورش‌های داخلی جلوگیری می‌کرد - بازار وکیل و مسجد وکیل- حمام وکیل- ارگ کریم‌خان همه در شیراز - صفحه ۷۳

۱۰- بیشتر دوره دوازده‌ساله پادشاهی نادر به نبرد با بیگانگان و فرونشاندن شورش‌های داخلی گذشت. نادرشاه کوشید ایران را به کشوری یکپارچه و قدرتمند تبدیل کند. در سال‌های پایانی حکومت نادر، نافرمانی و شورش‌های فراوانی رخ می‌داد. پس از قتل نادرشاه ایران بار دیگر به صحنه جنگ حاکمان محلی و سران ایل‌ها تبدیل شد. کریم‌خان به صلح، آسایش و آرامش عمومی اهمیت می‌داد و می‌کوشید از بروز ناامنی و شورش‌های داخلی جلوگیری کند. در دوران سی‌ساله فرمانروایی وی ثبات و آرامش نسبی در سراسر کشور به وجود آمد و در نتیجه اوضاع اجتماعی و اقتصادی بهتر شد. - صفحه ۷۲ و ۷۳

۱۱- زیرا ایران در جنگ‌های پی‌درپی از روسیه شکست‌خورده بود. - صفحه ۷۶

۱۲- مردم ایران که از عهدنامه گلستان ناخشنود بودند، با فتوای علما برای آزاد کردن سرزمین‌های اشغالی بسیج شدند. سپاه ایران که از جنگاوران ایل‌ها و نیروهای داوطلب مردمی تشکیل شده بود، به سرعت مناطق اشغال‌شده را آزاد کرد. - روسیه با تمام قوا و تجهیزات خود وارد جنگ شد و با شکست دادن سپاه ایران، عهدنامه ترکمن‌چای را به کشور ما تحمیل کرد. - صفحه ۷۶ و ۷۷

۱۳- با لشکرکشی به خلیج فارس و حمله به جزایر و بنادر ایران- صفحه ۷۸

۱۴- ۱- نبرد با دشمنان داخلی و بیگانگان خارجی ۲- نافرمانی و وجود شورش‌های داخلی ۳- بدگمانی نادر به اطرافیان و سرداران خود و انجام رفتارهای خشونت‌آمیز ۴- عدم توجه به معیشت و اشتغال مردم - صفحه ۷۲ و ۷۳

۱۵- الف) ← نادرشاه- صفحه ۷۲ ب) ← کریم‌خان- صفحه ۷۴

۱۶- الف) باکو و گنجه ← عهدنامه گلستان- صفحه ۷۶

ب) سرزمین‌های شمالی رود ارس ← عهدنامه ترکمن‌چای- صفحه ۷۷

۱۷- نادرشاه افشار- صفحه ۷۲

۱۸- کریم‌خان زند- صفحه ۷۴





درس ۱۲: در جست‌وجوی پیشرفت و رهایی از سلطهٔ خارجی

سوالات درست و نادرست

ردیف	سؤال	وضعیت
۱	یکی از نتایج آشنایی ایرانیان با تمدن‌های اروپایی در دوره قاجار، ایجاد مدرسه‌های جدید بود.	<input type="checkbox"/> (خراسان جنوبی خرداد ۹۵)
۲	عباس میرزا، ولیعهد ناصرالدین شاه و فرماندهٔ سپاه ایران در جنگ با روس‌ها بود.	<input type="checkbox"/> (قم و س. و ب خرداد ۹۵)
۳	امیرکبیر دستور استخدام معلمانی از کشورهای اتریش و روسیه را برای تدریس در دارالفنون صادر کرد.	<input type="checkbox"/> (خ رضوی خرداد ۹۵)
۴	نهضت تنباکو یکی از گسترده‌ترین جنبش‌های اجتماعی بود که در اعتراض به واگذاری امتیازهای اقتصادی به بیگانگان شکل گرفت.	<input type="checkbox"/>

سوالات چهارگزینه‌ای (تستی)

- در جریان نهضت تنباکو، کدام‌یک از مراجع استفاده از توتون و تنباکو را حرام اعلام کردند؟
الف) آیت‌الله بهبهانی ب) میرزا حسن شیرازی ج) شیخ فضل‌الله نوری د) شیخ محمد خیابانی
(آذربایجان شرقی و کرمان خرداد ۹۵)
- اوج رقابت اقتصادی روسیه و انگلستان برای نفوذ در ایران در زمان کدام پادشاه بود؟
الف) احمدشاه ب) فتحعلی شاه ج) آقا محمدخان د) ناصرالدین شاه
(چهارمحال و بختیاری خرداد ۹۵)
- نهضت تنباکو در زمان کدام پادشاه شکل گرفت؟
الف) امیرکبیر ب) عباس میرزا ج) نادر شاه د) ناصرالدین شاه
(هرمزگان خرداد ۹۵)
- نخستین حرکت جدی مردم ایران برای رهایی از نفوذ و سلطه خارجی و ایستادگی در برابر ستم داخلی در دوره قاجاریه کدام مورد زیر بود؟
الف) مخالفت با امتیاز رویترز ب) اتحاد در جنگ با روسیه ج) ایستادگی در برابر انگلیس د) نهضت تنباکو
(مرکزی خرداد ۹۵)

سوالات کوتاه پاسخ

- یکی از مهم‌ترین اقدامات امیرکبیر چه بود؟
(همدان خرداد ۹۵)
- چه کسانی در دوره قاجاریه جهت پیشرفت و اصلاح امور اقدام نمودند؟
(تکرار ۳ استان)
- نخستین حرکت جدی مردم ایران برای رهایی از نفوذ و سلطه خارجی و ایستادگی در برابر ستم داخلی چه بود؟
(اصفهان خرداد ۹۵)
- نهضت تنباکو برای رهایی از سلطهٔ خارجی در زمان پادشاهی او رخ داد؟

سوالات تشریحی

- اقدامات عباس میرزا در جهت اصلاح کشور و پیشرفت ایران را بنویسید.
(تکرار ۵ استان)
- چرا عباس میرزا به فکر نوسازی و اصلاح کشور افتاد؟
(مازندران خرداد ۹۵)
- چرا امیرکبیر مدرسه دارالفنون را تأسیس کرد؟
(فارس خرداد ۹۵)





(انبرز و خوزستان خرداد ۹۵)

۴- به نظر شما چرا امیرکبیر بر استخدام نکردن معلمان و استادان روسی و انگلیسی در مدرسه دارالفنون اصرار می‌کرد؟

(تکرار ۴ استان)

۵- اقدامات امیرکبیر را بنویسید.

(آذربایجان غربی خرداد ۹۵)

۶- اقدامات اصلاحی امیرکبیر، در حوزه سیاست خارجی، را بیان کنید.

(مرکزی خرداد ۹۵)

۷- انگیزه و اهداف امیرکبیر از اقدامات اصلاحی چه بود؟

(تکرار ۵ استان)

۸- موفقیت نهضت تنباکو از نظر سیاسی و اجتماعی چه اهمیتی داشت؟

(کرمانشاه خرداد ۹۵)

۹- تعهد ایران و تالوت در قرارداد تنباکو چه بود؟

(چهارمحال و بختیاری خرداد ۹۵)

۱۰- مهم‌ترین نتایجی که نهضت تنباکو داشت چه بود؟

(همدان خرداد ۹۵)

۱۱- با ذکر یک مثال بیان کنید روحانیت در دوره قاجاریه چه نقشی در بیداری مردم و دفاع از منافع کشور داشتند؟

۱۲- شکست‌های نظامی و سیاسی ایران از روسیه و انگلستان در دوره قاجار، چه پیامدهای مثبتی برای ایران داشت؟

۱۳- چرا ناصرالدین شاه مجبور شد امتیاز تنباکو را که به شرکت انگلیسی واگذار کرده بود، لغو کند؟ توضیح دهید.

۱۴- به نظر شما دلیل اصلی شکل‌گیری نهضت تنباکو چه بود؟

(خراسان رضوی و یزد خرداد ۹۵)

۱۵- من کیستم؟

در جریان فرماندهی جنگ با روسیه متوجه پیشرفت‌های علمی و صنعتی و نظامی کشورهای اروپایی شدم و افرادی را برای فراگیری آن به انگلستان فرستادم. برای آگاهی از اوضاع کشورهای اروپایی، دستور ترجمه کتب تاریخی آن‌ها را دادم.

(تکرار ۳ استان)

۱۶- من کیستم؟

در دوره قاجار به سمت صدراعظمی منصوب شدم. در آن زمان، حکومت قاجار با مشکلات بسیاری از قبیل شورش در ایالت‌ها و اختلال در امور کشوری و لشکری و خالی بودن خزانه روبرو بود. من اقدامات اصلاحی گسترده‌ای با هدف مبارزه با مفاسد اداری و اقتصادی آغاز کردم. از مهم‌ترین اقدامات من تأسیس مدرسه دارالفنون بود.

پاسخ سؤالات درست و نادرست

۴- صفحه ۸۲

۳- صفحه ۷۹

۲- صفحه ۷۸

۱- صفحه ۸۱

پاسخ سؤالات چهارگزینه‌ای

۴- گزینه د - صفحه ۸۲

۳- گزینه د - صفحه ۸۲

۲- گزینه د - صفحه ۸۲

۱- گزینه ب - صفحه ۸۲





پاسخ سؤالات کوتاه پاسخ

- ۱- تأسیس مدرسه دارالفنون - ۲- عباس میرزا - امیر کبیر-
صفحه ۷۹ و ۷۸

- ۳- نهضت تنباکو- صفحه ۸۲ -۴- ناصرالدین شاه- صفحه ۸۲

پاسخ سؤالات تشریحی

- ۱- (۱ اصلاح و نوسازی ارتش ۲) فرستادن افرادی به انگلستان برای فراگیری علوم و فنون جدید (۳) دستور داد برای آگاهی از اوضاع کشورهای اروپایی کتاب‌هایی را در موضوع تاریخ آن کشورها به فارسی ترجمه کنند. - صفحه ۷۸
- ۲- چون در جریان جنگ با روسیه متوجه پیشرفت‌های آن کشور و دیگر کشورهای اروپایی شد و به اهمیت صنایع نظامی پی برد. - صفحه ۷۸
- ۳- زیرا امیرکبیر فرستادن دانشجویان به اروپا را کافی نمی‌دانست و تصمیم گرفت مدرسه‌ای به سبک مدارس اروپایی در ایران تأسیس کند تا تعداد بیشتری از ایرانیان علوم و فنون جدید را در داخل کشور بیاموزند. - صفحه ۸۱
- ۴- زیرا او خواستار قطع نفوذ دخالت‌های روسیه و انگلستان در ایران بود. - صفحه ۸۱
- ۵- ۱- برقراری امنیت و آرامش ۲- مبارزه با مفاسد اداری و اقتصادی ۳- تأسیس مدرسه دارالفنون ۴- استخدام و به‌کارگیری معلمان از خارج به‌جز روسیه و انگلستان ۵- توجه ویژه به حفظ استقلال کشور و جلوگیری از نفوذ و دخالت‌های روسیه و انگلستان- صفحه ۷۹
- ۶- ۱- توجه ویژه به حفظ استقلال کشور ۲- قطع نفوذ روسیه و انگلستان- صفحه ۷۹
- ۷- حکومت قاجار با مشکلات بزرگی از قبیل شورش در ایالت‌ها، دخالت‌های خارجی، بی‌نظمی و اخلال امور کشوری و لشکری و خالی بودن خزانه مواجه بود. او برای مبارزه با این مشکلات به نوسازی در امور و تشکیلات حکومتی، اداری و اقتصادی پرداخت. - صفحه ۸۱
- ۸- نهضت تنباکو نخستین حرکت جدی مردم ایران برای رهایی از

- نفوذ و سلطه خارجی و ایستادگی در برابر ستم داخلی بود. پیروزی این نهضت، حس اعتماد به نفس و روحیه مقاومت و مبارزه را در مردم تقویت کرد. - صفحه ۸۲
- ۹- ایرانیان به مدت ۵۰ سال محصول توتون و تنباکوی خود را فقط به تالبوت بفروشدند. تالبوت نیز تعهد کرده بود هر سال ۱۵۰۰۰ لیره انگلیسی و یک‌چهارم سود سالانه به حکومت ایران بپردازد. - صفحه ۸۲
- ۱۰- ۱- تقویت روحیه مقاومت و مخالفت با استبداد حکومت پادشاهی در میان مردم ۲- قطع شدن دست بیگانگان از منابع و ثروت کشور - صفحه ۸۲
- ۱۱- آنان در بیشتر موارد مانع از اقدامات خودسرانه پادشاهان قاجار می‌شدند. مانند نهضت تنباکو و...
- ۱۲- ایرانیان را متوجه پیشرفت‌های علمی و صنعتی کشورهای اروپایی کرد. به‌علاوه برخی از سیاستمداران، اندیشمندان و عالمان دینی برای جبران عقب‌ماندگی ایران به چاره‌جویی پرداختند و برای حفظ استقلال کشور خود کارهایی انجام دادند. - صفحه ۷۸
- ۱۳- زیرا مردم و بازرگانان در شهرهای مختلف شروع به اعتراض و مخالفت کردند، آیت‌الله میرزای شیرازی شیرازی استفاده از توتون و تنباکو را حرام اعلام کرد. مردم و حتی کارکنان کاخ ناصرالدین شاه قلیان‌ها را شکستند و از مصرف توتون و تنباکو خودداری کردند. - صفحه ۸۲
- ۱۴- زیرا واگذاری این امتیاز موجب از بین رفتن منابع ثروت و بازار کشورمان و وابستگی شدید به بیگانگان می‌شد. - صفحه ۸۲
- ۱۵- عباس میرزا- صفحه ۷۸
- ۱۶- امیرکبیر- صفحه ۷۹





ردیف	سؤال	بارم
آزمون پایانی نوبت اول - نمونه ۱		
۱	وضعیت زندگی دهقانان ایرانی در دوره صفویه به مراتب بدتر از وضعیت دهقانان اروپایی بوده است.	۲
۲	پایین‌ترین لایه هوا کره که نزدیک به سطح زمین است، ترومسفر نام دارد.	
۳	چین و تایلند، بیشترین میزان عاج قاچاق را در جهان وارد می‌کنند.	
۴	انقلاب صنعتی از کشور انگلستان آغاز شد و در دیگر کشورهای اروپایی گسترش یافت.	
۵	کدام مورد از نتایج حرکت وضعی زمین است؟ الف) نامساوی شدن درازی شب و روز ب) تغییر زاویه تابش آفتاب ج) اختلاف ساعت د) پیدایش فصل‌های مختلف	۲
۶	کدام یک جزو ملاک‌های توسعه انسانی محسوب نمی‌شود. الف) درآمد و رفاه ب) رشد سالانه جمعیت ج) متوسط طول عمر د) سواد و آموزش	
۷	کدام سلسله، مذهب شیعه را در ایران رسمیت بخشید؟ الف) افشاریه ب) زندیه ج) قاجاریه د) صفویه	
۸	بر اساس عهدنامه گلستان الف) ایران از کش یرانی در دریای مازندران محروم شد. ب) سرزمین‌های ایرانی شمال رود ارس به تصرف روسیه درآمد. ج) ایالت‌های گرجستان و داغستان و شهرهای باکو و گنجه تحت حمایت حاکمیت روسیه قرار گرفت. د) ایران مجبور به پرداخت غرامت به روسیه شد.	
۹	سال ۳۶۶ روزه را سال می‌نامند.	
۱۰	مساحت کره زمین میلیون کیلومتر مربع است.	
۱۱	بزرگ‌ترین سیاره درونی منظومه شمسی است.	
۱۲	متوسط تعداد سال‌هایی که دانش آموزان در مدرسه حضور پیدا کرده‌اند را می‌گویند.	
به سؤالات زیر پاسخ مناسب دهید.		
۱۳	مهاجرت یعنی چه؟	۰/۵
۱۴	دو مورد از کشورهای اروپایی پیشگام در استعمارگری را نام ببرید؟	۰/۵
۱۵	چرا در دوره صفوی، شعر و ادب فارسی مانند دیگر رشته‌ها پر رونق نبود؟	۰/۵
۱۶	عرض جغرافیایی را تعریف کنید؟	۱
۱۷	دو مورد از مهم‌ترین عواملی که باعث از بین رفتن پوشش گیاهی و جانوری و آلودگی زیستگاه‌ها می‌شوند را بنویسید؟	۱
۱۸	دو عاملی که در دو قرن اخیر موجب کاهش چشمگیر مرگ‌ومیرها شده است را نام ببرید؟	۰/۵
۱۹	زیست‌بوم (بیوم) را تعریف کنید؟	۱





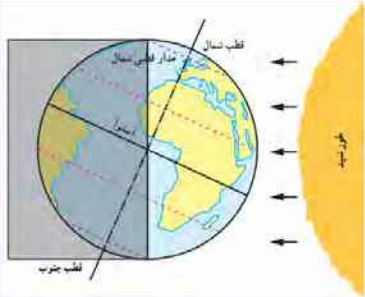
۱	۲۰	من چه زیست بومی هستم: الف) در این ناحیه فقط گیاهان خزه و گل‌سنگ می‌توانند بروید: ب) آب‌وهوا در طول سال گرم است و رطوبت در حدود ۸۰ درصد است:
۱	۲۱	دو مورد از عوامل داخلی نابرابری بین کشورهای جهان را بنویسید.
۱	۲۲	چرا امیرکبیر مدرسه دارالفنون را تأسیس کرد؟
۱	۲۳	دو مورد از عوامل مؤثر بر آب‌وهوای جهان را نام ببرید؟
۲	۲۴	رابطه بین گزینه‌ها را پیدا کرده و با خطی به یکدیگر وصل نمایید. (یک مورد اضافه است) الف) نهضت تنباکو ب) وکیل‌الرعايا ج) اخراج پرتغالی‌ها از ایران د) جنگ چالدران ● شاه عباس اول ● ناصرالدین شاه قاجار ● کریم‌خان زند ● فتحعلی شاه قاجار ● شاه اسماعیل صفوی
۲	۲۵	با توجه به توضیحات داده شده، کلمه مناسب را انتخاب و روبروی هر عبارت بنویسید؟ (یک کلمه اضافی است) لیتوسفر - هیدروسفر - استراتوسفر - بیوسفر - اتمسفر الف) این بخش شامل گازهایی است که دورتادور کره زمین را فرا گرفته است. ب) این بخش اقیانوس، دریاها، دریاچه‌ها و بقیه آب‌های کره زمین را تشکیل می‌دهند. ج) این بخش محیط زندگی انسان و دیگر موجودات را شامل می‌شود. ه) بخش خارجی کره زمین یا پوسته که حالت جامد دارد و از سنگ و خاک تشکیل شده است.
۱	۲۶	چه عواملی سبب نگرانی در کشورهای با رشد منفی جمعیت شده است؟





آزمون پایانی نوبت اول - نمونه ۲

بارم	سؤال	ردیف
۱	<p>درست یا نادرست بودن هر یک از عبارتهای زیر را مشخص کنید.</p> <p>تفاوت میان میزان مولید و میزان مرگومیر، رشد طبیعی جمعیت را نشان می‌دهد. ۱</p> <p>همه نقاطی که در یک عرض جغرافیایی قرار دارند ساعت واقعی آنها یکسان است. ۲</p> <p>کوه‌های بسیار مرتفع جزء ناهمواری‌های جوان هستند. ۳</p> <p>زیست‌بوم توندرا از گسترده‌ترین زیست‌بوم‌هاست و در جنوب تایگا دیده می‌شود. ۴</p>	
۱	<p>جملات زیر را با کلمات مناسب کامل کنید.</p> <p>مهم‌ترین طرفداران خانقاه شیخ صفی ایل‌های مختلف ترک بودند که به شهرت داشتند. ۵</p> <p>تشکیل ابرها و بسیاری از تغییرات آب و هوایی در لایه صورت می‌گیرد. ۶</p> <p>کریم‌خان به‌جای عنوان شاه، لقب را برای خود برگزید. ۷</p> <p>هر نقطه از کره زمین روی یک مدار و یک نصف‌النهار مشخص قرار دارد که به آن می‌گویند. ۸</p>	
۱	<p>گزینه صحیح را در هر مورد با علامت (X) مشخص کنید.</p> <p>انگلستان کدام پادشاه را وادار کرد با جدایی قسمت شرقی سیستان و بلوچستان از ایران موافقت کند؟ ۹</p> <p>الف) محمد شاه ب) مظفرالدین شاه ج) آقا محمدخان د) ناصرالدین شاه</p> <p>اگر درصد رشد جمعیت به کمتر از صفر برسد به آن می‌گویند. ۱۰</p> <p>الف) رشد طبیعی جمعیت ب) تراکم جمعیت ج) میزان پراکندگی جمعیت د) رشد منفی جمعیت</p> <p>درختان این زیست‌بوم مانند کاج و سرو همیشه سبزند و برگ‌ریزان ندارند؟ ۱۱</p> <p>الف) توندرا ب) ساوان ج) تایگا د) جنگل‌های بارانی استوایی</p> <p>کدام گزینه زیر به‌عنوان «پنجمین پادشاه صفوی» محسوب می‌شود؟ ۱۲</p> <p>الف) شاه تهماسب ب) شاه اسماعیل ج) شاه عباس اول د) شاه سلطان حسین</p>	
۰/۵	<p>به سؤالات زیر پاسخ مناسب دهید.</p> <p>از عوامل انسانی جذب جمعیت دو مورد را نام ببرید. ۱۳</p>	
۱	<p>طول جغرافیایی را تعریف کنید. ۱۴</p>	
۱	<p>عهدنامه ترکمان‌چای بین چه دولت‌هایی بسته شد و مفاد آنچه بود؟ ۱۵</p>	
۱	<p>از عوامل بیرونی تغییر دهنده شکل ناهمواری‌های سطح زمین چهار مورد را نام ببرید. ۱۶</p>	
۱	<p>نکات مهم استفاده صحیح و خردمندانه از منابع طبیعی چیست؟ (دو مورد) ۱۷</p>	
۱	<p>علت اصلی شکست ایران در جنگ چالدران چه بود؟ ۱۸</p>	
۱	<p>با توجه به تصویر مشخص نمایید در نیمکره شمالی کدام پدیده را نشان می‌دهد. ۱۹</p> <p>انقلاب تابستانی <input type="checkbox"/> انقلاب زمستانی <input type="checkbox"/></p> <p>درباره آن توضیح دهید.</p>	





۱	۲۰	موفقیت نهضت تنباکو از نظر سیاسی و اجتماعی چه اهمیتی داشت؟
۱/۵	۲۱	جملات زیر در ارتباط با کدام ملاک‌های توسعه انسانی است. ملاک‌های مناسب را از انتخاب و روبروی آن بنویسید. سواد و آموزش - امید به زندگی یا متوسط طول عمر - میزان درآمد و رفاه الف) کمبود پزشک و دارو: ب) وجود ذخایر نفت و گاز: ج) تعداد معلم به ازای دانش‌آموز:
۱	۲۲	با توجه به این‌که شهر A در موقعیت ۱۵ درجه شرقی و شهر B در موقعیت ۴۵ درجه شرقی قرار دارند: الف) نماز ظهر اول وقت در کدام شهر زودتر اقامه می‌شود؟ چرا؟ ب) این دو شهر چند ساعت با یکدیگر اختلاف دارند؟
۱	۲۳	در عصر صفوی به چه دلایلی تجارت داخلی و خارجی پر رونق بود؟ ۲ مورد
۱	۲۴	دو مورد از عوامل خارجی که باعث نابرابری در جهان شده را بنویسید.
۱	۲۵	تنوع زیست‌بوم‌ها به چه عواملی بستگی دارد؟ (۴ مورد)
۱	۲۶	عوامل مؤثر بر آب‌وهوای جهان را نام ببرید. (۴ مورد)
۱	۲۷	انسان چگونه ناهمواری‌های زمین را تغییر می‌دهد؟
۰/۵	۲۸	دو مورد از اقدامات شاه اسماعیل را بنویسید.
۱	۲۹	رضا عاشق سفر کردن است و تصمیم دارد به یک منطقه که دارای علفزارها با درختان تک و منفرد است برود لطفاً او را در موارد زیر راهنمایی کنید: الف) این درختان در کدام زیست‌بوم دیده می‌شوند؟ ب) دو مورد از خصوصیات این ناحیه را بنویسید؟
۰/۵	۳۰	یکی از اقدامات عباس میرزا چه بود؟





ردیف	سؤال	بارم
آزمون پایانی نوبت اول - نمونه ۳		
۱	به سال ۳۶۵ روز سال کبیسه می‌گویند.	۲
۲	بیشتر آب‌های زمین در نیمکره شمالی قرار دارند.	
۳	با مرگ‌ومیر زیاد و موالید کم جمعیت کشور کاهش می‌یابد.	
۴	نفوذ روسیه و انگلستان و فرانسه در زمان فتحعلی‌شاه قاجار در ایران زیاد بود.	
۵	پایین‌ترین لایه که نزدیک سطح زمین است نام دارد.	۲/۵
۶	چرخش زمین به دور خود، هر ۲۴ ساعت یک‌بار را حرکت می‌گویند.	
۷	عامل مهم در رویش گیاهان می‌باشد.	
۸	یکی از مهم‌ترین اقدامات امیرکبیر تأسیس بود.	
۹	یکی از تغییرات مهم در الگوی سکونت جمعیت بوده است.	
۱۰	پهناورترین و عمیق‌ترین اقیانوس جهان چه نام دارد؟	۲
۱۱	تغییر زاویه تابش خورشید موجب بروز چه عاملی در زمین می‌شود؟	
۱۲	پرسودترین کالای صادراتی ایران در زمان شاه عباس صفوی بود.	
۱۳	انقلاب صنعتی در اروپا از کدام کشور شروع شد؟	
۱۴	کدام جنگل ربه‌های زمین است؟	
۱۵	نخستین حرکت جدی مردم ایران برای رهایی از نفوذ و سلطه خارجی و ایستادگی در برابر ظلم و ستم داخلی چه بود؟	
۱۶	ناحیه ساوان از نظر آب‌وهوا و پوشش گیاهی چگونه است؟	
۱۷	چرا شاه تهماسب پایتخت را از تبریز به قزوین انتقال داد؟	
۱۸	تفاوت سیارات درونی و بیرونی را بنویسید. (ذکر دو مورد)	۱
۱۹	دو مورد از اهمیت اقیانوس‌ها را بنویسید.	۱
۲۰	آیا در زندگی روزانه می‌توان از ساعت واقعی استفاده کرد؟ چرا؟	۱
۲۱	فلات قاره (ایوان خشکی) را توضیح دهید.	۱
۲۲	زیست‌بوم را تعریف کنید.	۱
۲۳	استفاده خردمندان از محیط زیست در جنگل‌های استوایی با چه عواملی بهتر است؟ (دو مورد)	۱





۰/۵	۲۴	رشد بی‌رویه شهرها چه مشکلاتی را ایجاد کرده است؟ (دو مورد)
۱	۲۵	مهاجرت را تعریف کنید.
۱	۲۶	ملاک‌های توسعه انسانی را نام ببرید و یکی را به‌دلخواه توضیح دهید.
۱	۲۷	جنگ چالدران میان چه کشورهایی رخ داد و پایان آنچه شد؟
۱	۲۸	عهدنامه گلستان میان چه کشورهایی منعقد شد، مفاد قرارداد چه بود؟
۱	۲۹	مهم‌ترین منابع عمده درآمد حکومت صفوی را نام ببرید. (دو مورد)

آزمون پایانی نوبت اول - نمونه ۴

بارم	سؤال	ردیف																				
۰/۷۵	<p>درست یا نادرست بودن هر یک از عبارتهای زیر را مشخص کنید.</p> <p>۱ بیشترین حجم گاز موجود در هواکره را ابتدا نیتروژن و سپس اکسیژن تشکیل می‌دهند.</p> <p>۲ تایگا ناحیه‌ای در نزدیکی قطب شمال و حاشیه اقیانوس منجمد شمالی است.</p> <p>۳ در اوایل دوره قاجار مهم‌ترین مستعمره انگلستان هندوستان بود.</p>	۱ ۲ ۳																				
۱/۵	<p>جملات زیر را با کلمات مناسب کامل کنید.</p> <p>۴ طول جغرافیایی هر مکان عبارت است از فاصله آن مکان تا بر حسب درجه.</p> <p>۵ ناحیه کم‌عمق اقیانوس‌ها با ژرفای کمتر از ۲۰۰ متر را می‌گویند.</p> <p>۶ میزان طول عمر یا امید به زندگی در یک جامعه نشان‌دهنده وضعیت در آن جامعه است.</p>	۴ ۵ ۶																				
۱/۵	<p>گزینه صحیح را در هر مورد با علامت (X) مشخص کنید.</p> <p>۷ اگر شهر شما بر روی مدار رأس‌السرطان قرار داشته باشد در چه روزی خورشید بر شهر شما عمود می‌تابد؟ الف) اول فروردین ب) اول تیرماه ج) اول مهرماه د) اول دی‌ماه</p> <p>۸ کدامیک از عوامل زیر از علل خارجی نابرابری در جهان است؟ الف) فرهنگ و باورهای غلط ب) مستعمره کردن کشورها ج) وجود حکومت‌های وابسته د) بی‌سوادی و ناآگاهی مردم</p> <p>۹ کدامیک از پیامدهای ناخوشایند گرم شدن زمین نیست؟ الف) ذوب شدن یخ‌ها ب) خشک‌سالی در نواحی گرم و خشک ج) اعتدال دمای مجاور اقیانوس‌ها د) بالا آمدن آب دریاها</p>	۷ ۸ ۹																				
۱	<p>جملات زیر را کامل کنید.</p> <p>۱۰ موقعیت مکانی یعنی:</p> <p>۱۱ جنگل‌زدایی یعنی:</p>	۱۰ ۱۱																				
۱	<p>جدول زیر را کامل کنید:</p> <table border="1" style="display: inline-table; vertical-align: middle;"> <tr><td>ب</td><td></td><td></td><td></td><td></td></tr> <tr><td>ت</td><td></td><td></td><td></td><td></td></tr> <tr><td>ق</td><td></td><td></td><td></td><td></td></tr> <tr><td>ل</td><td></td><td></td><td></td><td></td></tr> </table> <p>۱- یکی از عوامل تأثیرگذار بر میزان پوشش گیاهی یک منطقه</p> <p>۲- جنگل‌های مخروطیان و سوزنی‌برگ‌ها پوشش گیاهی این زیست‌بوم است.</p> <p>۳- مهم‌ترین طرفداران صفویه</p> <p>۴- بخش خارجی کره زمین که حالت جامد دارد.</p>	ب					ت					ق					ل					۱۲
ب																						
ت																						
ق																						
ل																						





به سوالات زیر پاسخ کامل دهید:	
۱	زمین ما بخش کوچکی از منظومه خورشیدی است: الف) این منظومه در کدام کهکشان قرار دارد؟ ب) جنس و ترکیب سیاره‌های بیرونی منظومه را بنویسید.
۱	با توجه به شکل مقابل به سوالات زیر پاسخ دهید. الف) محور قطب‌ها بر مدار گردش انتقالی زاویه چند درجه می‌سازد؟ ب) در اثر تمایل زاویه تابش خورشید چه نتایج حاصل می‌شود؟ (یک مورد)
۰/۷۵	سه مورد از عوامل گسترش تجارت داخلی و خارجی در عصر صفوی را بنویسید.
۱	دوری و نزدیکی به اقیانوس‌ها و دریاها چه تأثیری بر آب‌وهوا دارد؟ توضیح دهید.
۱	کوه‌های کم ارتفاع و مرتفع را از نظر دره باهم مقایسه کنید.
۱	دو گروه گردشگر هم‌زمان به دو بیابان بزرگ ربع‌الخالی و گبی سفر می‌کنند، نوع لباس این دو گروه در این دو مکان چه تفاوتی دارد، چرا؟
۰/۵	چندی پیش تصویری از یک کودک اهل سوریه که به همراه خانواده‌اش به دلیل شرایط سیاسی کشورش در حال مهاجرت به کشورهای اروپایی در دریا غرق شده بود منتشر شد. با توجه به شرایط سیاسی سوریه نوع و علت این مهاجرت را بنویسید.
۱	برای پی بردن به وضع آموزش در کشورها چه معیارهایی در نظر گرفته می‌شود؟ (دو مورد)
۱	توضیح دهید گسترش کشاورزی صنعتی، چه نقشی در افزایش جمعیت جهان در ۲۰۰ سال گذشته داشته است؟
۱/۲۵	جنگ چالدران که بین ایران و عثمانی در عصر صفویان روی داد با شکست ایران و اشغال تبریز توسط عثمانی‌ها خاتمه یافت. الف) این جنگ در زمان کدام شاه صفوی اتفاق افتاد؟ ب) چرا سلطان عثمانی به ایران لشکر کشی کرد؟ ج) علت شکست ایران در این جنگ چه بود؟
۱/۵	سه مورد از مهم‌ترین عواملی که باعث از بین رفتن زیستگاه‌ها می‌شوند را نام ببرید.
۱	به نظر شما چرا امیرکبیر بر استخدام نکردن معلمان و استادان روسی و انگلیسی در مدرسه دارالفنون اصرار می‌کرد؟
۱/۵	کریم‌خان زند چگونه پادشاهی بود؟ کدام بناها در زمان او ساخته شده است؟
۰/۷۵	هر یک از اقدامات زیر توسط کدام شاه صفوی انجام شده است. الف) شاه اسماعیل ب) شاه تهماسب ج) شاه عباس د) شاه سلطان حسین
	<ul style="list-style-type: none"> ○ بیرون راندن پرتغالی‌ها از ایران ○ تثبیت و تحکیم حکومت صفوی ○ رسمی کردن مذهب شیعه





ردیف	سؤال	بارم
	آزمون پایانی نوبت اول - نمونه ۵	
۱	به دلیل بحران‌های سیاسی یا جنگ کدام کشور رشد اقتصادی مطلوبی ندارد؟	۲/۵
۲	خزه و گل‌سنگ از گیاهان کدام نواحی زیر می‌باشد؟	
۳	دمای هوا در ارتفاع ۲۵۰۰ متری، +۱۲ درجه است، در همان لحظه در ارتفاع ۴۵۰۰ متری دما چقدر است؟	
۴	بخش خارجی زمین که حالت جامد دارد چه نامیده می‌شود؟	
۵	اعتدالین در کدام مورد زیر اتفاق می‌افتد؟	
۶	جملات زیر را با کلمات مناسب کامل کنید.	۳
۷	جنگل‌های استوایی را زمین می‌نامند.	
۸	حرکت خورشید در آسمان حرکت است.	
۹	هر نقطه از کره زمین روی یک مدار و یک نصف‌النهار مشخص قرار دارد که به آن‌ها آن نقطه می‌گویند.	
۱۰	اگر فشار بر لایه‌های رسوبی زمین به‌گونه‌ای باشد که پوسته زمین را دچار شکستگی کند به وجود می‌آید.	
۱۱	معمولاً میزان ثروت مادی و رشد اقتصادی کشورها را با و اندازه‌گیری می‌کنند.	
۱۱	درست یا نادرست بودن هر یک از عبارتهای زیر را مشخص کنید.	۱/۵
۱۲	دما و بارش دو عنصر مهم اندازه‌گیری آب‌وهوا هستند.	
۱۳	هرگاه میزان مرگ‌ومیر از میزان مولید کمتر باشد رشد جمعیت منفی است.	
۱۴	از یکسان نتابیدن خورشید به سطح زمین سه منطقه آب و هوایی گرم، معتدل و سرد در زمین به وجود آمده است.	
۱۴	به پرسش‌های زیر پاسخ کامل دهید.	۱
۱۵	انقلاب زمستانی و انقلاب تابستانی را توضیح دهید.	
۱۵	طول و عرض جغرافیایی را تعریف کنید.	۱
۱۶	انسان چگونه ناهمواری‌های زمین را تغییر می‌دهد؟	۱
۱۷	عوامل مؤثر بر آب‌وهوای جهان را فقط نام ببرید.	۱
۱۸	تنوع زیست‌بوم‌ها به چه عواملی بستگی دارد؟ (دو مورد)	۰/۵
۱۹	دو مورد از استفاده خردمندان از منابع طبیعی را بنویسید.	۱
۲۰	دو عامل چشمگیر کاهش مرگ‌ومیرها در دو قرن اخیر را بنویسید.	۰/۵
۲۱	مهاجرت اجباری و اختیاری را با ذکر مثال مقایسه کنید؟	۱





۱	گزینه صحیح را در هر مورد با علامت (X) مشخص کنید. از اقدامات مهم این پادشاه رسمی کردن مذهب شیعه بود.	۲۲
	(الف) شاه عباس (ب) شیخ صفی‌الدین (ج) شاه اسماعیل صفوی (د) شاه سلطان حسین	۲۳
	قرارداد تالبوت در دوره کدام پادشاه صورت گرفت؟ (الف) شاه اسماعیل صفوی (ب) ناصرالدین شاه (ج) نادرشاه افشار (د) کریم‌خان زند	
۰/۷۵	جملات زیر را با کلمات مناسب کامل کنید. در دوره صفویان پس از شاه، وزیر بزرگ قرار داشت که به او می‌گفتند. صادرات ابریشم پرسودترین کالای صادراتی ایران بود که در انحصار قرار داشت. صنعت یکی از صنایع پر رونق ایران در دوره صفوی بود که با اروپا رقابت می‌کرد.	۲۴ ۲۵ ۲۶
۰/۷۵	درست یا نادرست بودن هر یک از عبارتهای زیر را مشخص کنید. نادرشاه افشار لقب وکیل‌الرعا یا یعنی نماینده مردم را برای خود برگزید. عهدنامه گلستان بین ایران و فرانسه منعقد شد. پس از تسلط افغان‌ها بر اصفهان و قتل شاه سلطان حسین، ایران گرفتار تجزیه و تفرقه شد.	۲۷ ۲۸ ۲۹
۰/۵	به پرسش‌های زیر پاسخ کوتاه دهید. از اقدامات پنجمین شاه صفوی یک مورد بنویسید. پادشاهان صفوی ضمن بی‌توجهی به شعر و شاعری به کدام علم توجه خاصی داشتند.	۳۰ ۳۱
۱	نام دو فیلسوف و دو عالم معروف دوره صفوی را بنویسید.	۳۲
۱	هدف دولت انگلستان از جدا کردن افغانستان و بخش شرقی سیستان و بلوچستان از ایران چه بود؟	۳۳
۱	دو مورد از اقدامات امیرکبیر را نام ببرید.	۳۴

پاسخ آزمون شماره «۱»

- ۱- وضع دهقانان ایرانی در دوره صفویه به مراتب بهتر از وضع دهقانان در اروپا بوده است.
- ۲- پایین‌ترین لایه که نزدیک به سطح زمین است تروپوسفر نام دارد.
- ۳- صفحه ۴۰
- ۴- صفحه ۷۶
- ۵- گزینه ج - صفحه ۱۰
- ۶- گزینه ب - صفحه ۵۰
- ۷- گزینه د - صفحه ۵۹
- ۸- گزینه ج - صفحه ۷۶
- ۹- کبیسه - صفحه ۱۲
- ۱۰- ۵۱۰ میلیون کیلومتر - صفحه ۴
- ۱۱- زمین - صفحه ۳
- ۱۲- میانگین سال‌های تحصیلی - صفحه ۵۴
- ۱۳- یعنی رفتن مردم از جایی به جای دیگر به منظور کار یا زندگی - صفحه ۴۷
- ۱۴- پرتغال، اسپانیا، انگلستان و فرانسه - صفحه ۶۲
- ۱۵- به سبب کم‌توجهی پادشاه به شاعران - صفحه ۶۸
- ۱۶- فاصله هر مکان از مدار استوا بر حسب درجه را عرض جغرافیایی می‌گویند. - صفحه ۶
- ۱۷- ایجاد و گسترش شهرها و روستاها، ساختن پل، جاده، ساختمان‌ها و سد‌ها بدون برنامه‌ریزی و توجه به جنبه‌های زیست‌محیطی - فعالیت‌های صنعتی و تولید انبوه کالاها در کارخانه‌ها - مصرف‌گرایی و تولید انبوه زباله - شکار و تجارت اعضای بدن حیوانات - صفحه ۳۸
- ۱۸- ۱- بهبود بهداشت ۲- بهبود تغذیه - صفحه ۴۴



- ۱۹- یک ناحیه وسیع جغرافیایی است که در آن، انواع خاصی از گیاهان و جانوران زندگی می‌کنند و ناحیه مشخصی را به وجود می‌آورند - صفحه ۳۰
- ۲۰- الف) توندرا - ب) جنگل‌های استوایی
- ۲۱- ۱) حکومت‌های وابسته و ستمگر (۲) جنگ‌ها و کشمکش‌های داخلی (۳) فرهنگ و باورهای غلط (۴) بی‌سوادی و ناآگاهی مردم (۵) غفلت از استعدادها و فرهنگ خود (۶) نداشتن ایمان و پشتکار و اراده برای تغییر وضع (۷) نبودن وحدت و مشارکت بین مردم - صفحه ۵۵
- ۲۲- زیرا امیرکبیر فرستادن دانشجو به اروپا را کافی نمی‌دانست و تصمیم گرفت مدرسه‌ای به سبک مدارس اروپایی در ایران تأسیس کند تا تعداد بیشتری از ایرانیان علوم و فنون جدید را در داخل کشور بیاموزند. - صفحه ۷۹
- ۲۳- ۱- زاویه تابش خورشید و عرض جغرافیایی ۲- دوری و نزدیکی به اقیانوس‌ها و دریاها ۳- ارتفاع از سطح زمین ۴- فشار هوا و جریان باد - صفحه ۲۴ تا ۲۶
- ۲۴- الف) ناصرالدین شاه قاجار ب) کریم‌خان زند ج) شاه عباس اول د) شاه اسماعیل صفوی
- ۲۵- الف) اتمسفر ب) هیدروسفر ج) بیوسفر ه) لیتوسفر - صفحه ۱۶
- ۲۶- در کشورهایی که رشد منفی جمعیت دارند، افراد سالخورده و از کار افتاده افزایش می‌یابند. چون زاد و ولد کم است جامعه از نیروی جوان برای تحصیل و علم‌آموزی و کار و پیشرفت محروم می‌شود و جمعیت نیز کاهش می‌یابد به همین دلیل آینده این کشورها نگران کننده است. - صفحه ۴۵

پاسخ آزمون شماره «۲»

- ۱- صفحه ۴۵
- ۲- صفحه ۱۰
- ۳- صفحه ۱۸
- ۴- صفحه ۳۳
- ۵- قزلباش - صفحه ۵۸
- ۶- تروپوسفر- صفحه ۲۴
- ۷- وکیل‌الرعیاء- صفحه ۷۳
- ۸- مختصات جغرافیایی- صفحه ۶
- ۹- گزینه د - صفحه ۷۶
- ۱۰- گزینه د- صفحه ۴۵
- ۱۱- گزینه ج - صفحه ۳۳
- ۱۲- گزینه ج - صفحه ۵۹
- ۱۳- شهرهای بزرگ و پایتخت‌ها، نواحی صنعتی و مکان‌های گردشگری و زیارتی و مکان‌هایی که دارای امکانات کافی مانند بیمارستان، دانشگاه و... باشند جمعیت را به خود جذب می‌کنند. - صفحه ۴۷
- ۱۴- طول جغرافیایی هر مکان عبارت است از فاصله آن مکان با نصف‌النهار مبدأ برحسب درجه
- ۱۵- ایران و روسیه بر اساس آن سرزمین‌های شمال رود ارس به تصرف روسیه درآمد- ایران از داشتن کشتی جنگی در دریای مازندران محروم شد و مجبور به پرداخت غرامت شدند. - صفحه ۷۶
- ۱۶- هوازدگی- فرسایش آبی- فرسایش بادی- فرسایش یخچالی
- ۱۷- ۱- باید بین استفاده اقتصادی از منابع جنگل‌ها و فرصت بازسازی آن‌ها تعادل به وجود بیاید. ۲- کشاورزی و دامپروری با روش‌های علمی و جدید که کمترین آسیب را به محیط‌زیست می‌رسانند، به کشاورزان این منطقه آموزش بدهند. ۳- با ایجاد پارک‌های وحش از گونه‌های جانوری و گیاهی در معرض خطر مراقبت کنند تا نسل آن‌ها منقرض نشود.
- ۱۸- در این جنگ شاه اسماعیل و سربازانش شجاعت زیادی نشان دادند اما سپاه عثمانی به کمک سلاح‌های آتشین مانند توپ و تفنگ که سپاه ایران از آن‌ها بی‌بهره بود، پیروز شد.
- ۱۹- انقلاب تابستانی - در این پدیده در نیمکره‌ی شمالی منطقه وسیع‌تری در معرض نور خورشید قرار می‌گیرد و طول روزها از شب‌ها بیشتر می‌شود یا اشاره به طولانی‌ترین روز در نیمکره شمالی
- ۲۰- نهضت تنباکو نخستین حرکت جدی مردم ایران برای رهایی از نفوذ و سلطه خارجی و ایستادگی در برابر ستم داخلی بود. پیروزی این نهضت، حس اعتماد به نفس و روحیه مقاومت و مبارزه را در مردم تقویت کرد.
- ۲۱- الف) امید به زندگی یا متوسط طول عمر ب) میزان درآمد و رفاه ج) سواد و آموزش





- ۲۲- الف) در شهر (B) چون آن‌ها خورشید را زودتر دیده‌اند و بنابراین از ظهرشان گذشته است.
 ب) کره زمین به ۲۴ قاع تقسیم شده است. هر قاع ۱۵ درجه پهنا دارد. هر منطقه زمانی یک قاع است و یک ساعت را به خود اختصاص می‌دهد. این دو شهر ۳۰=۱۵-۴۵ درجه از هم فاصله دارند پس نتیجه می‌گیریم شهر (A) و (B) با یکدیگر ۲ ساعت اختلاف دارند.
- ۲۳- ۱- یکپارچه بودن سرزمین ایران ۲- وجود نظم و امنیت ۳- ایجاد شبکه وسیعی از راه‌ها و کاروان‌سراها در سراسر ایران ۴- اقامت رایگان بازرگانان و مسافران در کاروانسراها ۵- رفتار پسندیده مأموران راهداری با مسافران و...
- ۲۴- ۱) مستعمره کردن کشورها در گذشته ۲) اشغال نظامی کشورها یا دخالت و نفوذ در امور داخلی آن‌ها ۳) جلوگیری از استقلال سیاسی و اقتصادی آن‌ها
- ۲۵- آب‌وهوا، شکل ناهمواری‌ها، میزان ارتفاع زمین، جنس خاک
- ۲۶- ۱- زاویه تابش خورشید و عرض جغرافیایی ۲- دوری و نزدیکی به اقیانوس‌ها و دریاها ۳- ارتفاع از سطح زمین ۴- فشار هوا و جریان باد
- ۲۷- با احداث شهرها و روستاها - کندن تونل و ساختن جاده‌ها و بزرگراه‌ها- استخراج معادن - فعالیت‌های کشاورزی- ساختن سد و...
- ۲۸- رسمی کردن مذهب شیعه پس از تاج‌گذاری- به وجود آوردن حکومتی نیرومند و یکپارچه در ایران - شکست ازبکان
- ۲۹- الف) ساوان
- ۳۰- ب) آب‌وهوا در تمام سال گرم است- دو فصل خشک و مرطوب دارد - از نظر تنوع جانوری بسیار غنی است - درختان بائوباب از گونه‌های گیاهی مشهور ساوان است.
- ۳۱- ۱) اصلاح و نوسازی ارتش ۲) فرستادن افرادی به انگلستان برای فراگیری علوم و فنون جدید ۳) دستور داد برای آگاهی از اوضاع کشورهای اروپایی کتاب‌هایی را در موضوع تاریخ آن کشورها به فارسی ترجمه کنند

پاسخ آزمون شماره «۳»

- ۱- صفحه ۱۲
- ۲- صفحه ۱۶
- ۳- صفحه ۴۴
- ۴- صفحه ۷۵
- ۵- تروپوسفر - صفحه ۲۴
- ۶- حرکت وضعی - صفحه ۹
- ۷- دما - صفحه ۳۱
- ۸- مدرسه دارالفنون - صفحه ۷۹
- ۹- گسترش شهر نشینی - صفحه ۴۸
- ۱۰- گزینه ج - صفحه ۲۱
- ۱۱- گزینه الف - صفحه ۱۲
- ۱۲- گزینه ج - صفحه ۶۷
- ۱۳- گزینه ج - صفحه ۷۶
- ۱۴- جنگل‌های استوایی - صفحه ۳۸
- ۱۵- نهضت تنباکو - صفحه ۸۲
- ۱۶- در تمام طول سال، گرم است و در آن دو فصل خشک و مرطوب وجود دارد. - صفحه ۳۴
- ۱۷- زیرا تبریز همواره در معرض هجوم سپاه عثمانی بود. - صفحه ۵۹
- ۱۸- سیارات درونی: مدار گردش کوچک‌تر دارند، از جنس سنگی و جامدند و تعداد قمرهای آن‌ها کمتر است؛ اما سیارات بیرونی مدار گردش بزرگ‌تری دارند، سطوح آن‌ها از گاز است و تعداد قمرهایشان بسیار زیاد است. - صفحه ۲ و ۳
- ۱۹- ۱- تأمین غذا برای انسان ۲- حمل‌ونقل کم‌هزینه ۳- تأمین آب شیرین به صورت غیر مستقیم - صفحه ۲۲
- ۲۰- خیر- زیرا در تعیین قرارهای ملاقات، زمان باز و بسته‌شدن اداره‌ها و مغازه‌ها و برنامه حرکت قطرها و هواپیماها مشکلات زیادی به وجود خواهد آمد. - صفحه ۱۱
- ۲۱- در جاهایی که اقیانوس‌ها با خشکی تماس دارند، اغلب ناحیه‌ای کم‌عمق به ژرفایی کمتر از ۲۰۰ متر دیده می‌شود که به آن فلات قاره (ایوان خشکی) می‌گویند. - صفحه ۲۲





- ۲۲- یک ناحیه وسیع جغرافیایی است که در آن، انواع خاصی از گیاهان و جانوران زندگی می‌کنند و ناحیهٔ مشخصی را به وجود می‌آورند. - صفحه ۳۰
- ۲۳-۱- باید بین استفاده اقتصادی از منابع جنگل‌ها و فرصت بازسازی آن‌ها تعادل به وجود بیاید. ۲- کشاورزی و دامپروری با روش‌های علمی و جدید که کمترین آسیب را به محیط زیست می‌رسانند، به کشاورزان این منطقه آموزش بدهند. ۳- با ایجاد پارک‌های وحش از گونه‌های جانوری و گیاهی در معرض خطر مراقبت کنند تا نسل آن‌ها منقرض نشود. - صفحه ۴۱
- ۲۴- مشکلاتی چون ترافیک سنگین - آلودگی هوا - زغنه‌نشینی در حومهٔ شهرها - افراد بی‌خانمان (کارتن‌خواب‌ها) - صفحه ۴۹
- ۲۵- یعنی رفتن از جایی به جای دیگر به منظور کار یا زندگی - صفحه ۴۷
- ۲۶- ۱- درآمد و رفاه ۲- امید به زندگی یا متوسط طول عمر ۳- سواد و آموزش - صفحه ۵۰
- میزان درآمد و رفاه: این عامل جنبهٔ اقتصادی دارد و به معنای سطح مطلوب زندگی و رفاه اجتماعی است. منظور از آن این است که اعضای یک جامعه به چه میزان از درآمد کافی و شغل مناسب و قدرت خرید برخوردارند. - صفحه ۵۲
- امید به زندگی: یعنی تعداد سال‌هایی که انتظار می‌رود کودکی که در آن کشور به دنیا آمده است، عمر کند و زنده بماند. - صفحه ۵۴
- برای پی بردن به وضع آموزش در کشورها معیارهای مختلفی از جمله میزان باسوادی بزرگسالان، میانگین سال‌های تحصیل در یک کشور و تعداد معلم به ازای دانش‌آموز را در نظر می‌گیرند و بررسی می‌کنند. - صفحه ۵۴
- ۲۷- ایران و عثمانی - عثمانی‌ها به کمک سلاح‌های آتشین پیروز شدند. - صفحه ۵۹
- ۲۸- بین ایران و روسیه - به موجب این عهدنامه، ایالت‌های گرجستان و داغستان و شهرهای باکو و گنجه از حاکمیت ایران خارج شدند و تحت حاکمیت روسیه قرار گرفتند. - صفحه ۷۶
- ۲۹- ۱- مالیاتی که از کشاورزان و دامداران می‌گرفتند. ۲- عوارضی که از کاروان‌های تجاری گرفته می‌شد. ۳- صادرات ابریشم که در انحصار شاه عباس بود.

پاسخ آزمون شماره «۴»

- ۱- صفحه ۲۴
- ۲- صفحه ۳۳
- ۳- صفحه ۷۷
- ۴- نصف‌النهار مبدأ - صفحه ۶
- ۵- فلات قاره (ایوان خشکی) - صفحه ۲۲
- ۶- سلامت و بهداشت - صفحه ۵۴
- ۷- گزینه د - صفحه ۱۲
- ۸- گزینه ب - صفحه ۵۵
- ۹- گزینه ج - صفحه ۲۶
- ۱۰- یعنی مکان دقیق قرار گرفتن آن روی کرهٔ زمین - صفحه ۵
- ۱۱- از بین بردن کامل جنگل در یک ناحیه - صفحه ۳۹
- ۱۲- ۱- بارش - صفحه ۳۰
- ۲- تایگا - صفحه ۳۳
- ۳- قزلباش - صفحه ۵۸
- ۴- لیتوسفر - صفحه ۱۶
- ۱۳- الف) کهکشان راه شیری - صفحه ۴ ب) سیارات بیرونی از گازهای مختلفی تشکیل شده است. - صفحه ۲
- ۱۴- الف) زاویه $۳۳^{\circ}۶۶'$ - صفحه ۱۲ ب) درازی شب و روز نامساوی می‌شود - فصل‌های مختلف به وجود می‌آید. - صفحه ۱۲
- ۱۵- ۱- یکپارچه بودن سرزمین ایران ۲- وجود نظم و امنیت ۳- ایجاد شبکه وسیعی از راه‌ها و کاروان‌سراها در سراسر ایران ۴- اقامت رایگان بازرگانان و مسافران در کاروانسراها ۵- رفتار پسندیده مأموران راهداری با مسافران و... - صفحه ۶۶
- ۱۶- مناطق مجاور اقیانوس‌ها و دریاها رطوبت بیشتری دریافت می‌کنند و این امر موجب اعتدال دمای نواحی مجاور آن‌ها در زمستان و تابستان می‌شوند و گرما و سرمای مناطق را کاهش می‌دهند. - صفحه ۲۵
- ۱۷- کم ارتفاع: دره‌ها باز به شکل U و مرتفع: دره‌تنگ و به شکل V - صفحه ۱۷
- ۱۸- به خاطر اینکه بیابان گبی جز بیابان‌های سرد جهان است گردشگران این منطقه باید لباس مناسب هوای سرد همراه داشته باشند. - صفحه ۳۵
- ۱۹- این یک مهاجرت بین‌المللی اجباری است که مردم به خاطر مشکل ناامنی و جنگ و درگیری‌های سیاسی مجبور به ترک محل زندگی خود شده‌اند. - صفحه ۴۷
- ۲۰- میزان باسوادی بزرگسالان، میانگین سال‌های تحصیل در یک کشور، تعداد معلم به ازای دانش‌آموز - صفحه ۵۴





- ۲۱- با پیشرفت و گسترش کشاورزی صنعتی، تولید مواد غذایی افزایش یافت و با بهبود تغذیه میزان مرگومیر کاهش یافته و جمعیت افزایش چشمگیری پیدا کرد. - صفحه ۴۴
- ۲۲- الف) شاه اسماعیل - صفحه ۵۹ * ب) سلطان عثمانی از شکل‌گیری سلسله قدرتمند و شیعه مذهب صفویه ناخشنود بود. - صفحه ۵۹ - ج) استفاده دشمن از سلاح‌های آتشین مانند توپ و تفنگ که سپاه ایران از آن‌ها بی‌بهره بود. - صفحه ۵۹
- ۲۳- ایجاد و گسترش شهرها و روستاها، ساختن پل، جاده، ساختمان‌ها و سدها بدون برنامه‌ریزی و توجه به جنبه‌های زیست‌محیطی - فعالیت‌های صنعتی و تولید انبوه کالاها در کارخانه‌ها - مصرف‌گرایی و تولید انبوه زباله - شکار و تجارت اعضای بدن حیوانات - صفحه ۳۸
- ۲۴- زیرا او خواستار قطع نفوذ دخالت‌های روسیه و انگلستان در ایران بود. - صفحه ۷۹
- ۲۵- او با ملایمت و مهربانی با مردم رفتار می‌کرد. به صلح و آسایش و آرامش عمومی اهمیت می‌داد و از شورش‌های داخلی جلوگیری می‌کرد. - بازار وکیل و مسجد وکیل، حمام وکیل، ارگ کریم‌خان - صفحه ۷۳ و ۷۴
- ۲۶- الف) رسمی کردن مذهب شیعه - صفحه ۵۹ * ب) تثبیت و تحکیم حکومت صفوی - صفحه ۵۹ * ج) بیرون راندن پرتغالی‌ها از ایران - صفحه ۶۲

پاسخ آزمون شماره «۵»

- ۱- گزینه ج - صفحه ۵۳
- ۲- گزینه ب - صفحه ۳۳
- ۳- گزینه الف - صفحه ۲۶
- ۴- گزینه د - صفحه ۱۶
- ۵- گزینه ج - صفحه ۱۲
- ۶- ریه‌های زمین - صفحه ۳۸
- ۷- ظاهری - صفحه ۹
- ۸- مختصات جغرافیایی - صفحه ۶
- ۹- گسل - صفحه ۱۸
- ۱۰- تولید ناخالص داخلی - درآمد سرانه - صفحه ۵۲
- ۱۱- - صفحه ۳۱
- ۱۲- - صفحه ۴۴
- ۱۳- - صفحه ۲۵
- ۱۴- در اول دی‌ماه خورشید به مدار رأس‌الجدی در نیمکره جنوبی عمودی می‌تابد، در اول دی‌ماه نیمکره شمالی بخش کم وسعت‌تری از کره زمین تابش خورشید را دریافت می‌کند و روزها کوتاه‌تر از شب‌هاست در نتیجه در نیمکره شمالی اول دی کوتاه‌ترین روز سال است که به آن انقلاب زمستانی می‌گویند. در اول تیرماه، در نیمکره شمالی منطقه وسیع‌تری از کره زمین در معرض نور خورشید قرار می‌گیرد. در نتیجه طول روزها از شب‌ها بیشتر است. در این هنگام که طولانی‌ترین روز در این نیمکره است تابستان شروع می‌شود و به آن انقلاب تابستانی می‌گویند. - صفحه ۱۲
- ۱۵- طول جغرافیایی هر مکان عبارت است از فاصله آن مکان با نصف‌النهار مبدأ بر حسب درجه و عرض جغرافیایی هر مکان عبارت است از فاصله آن مکان با مدار استوا بر حسب درجه - صفحه ۶
- ۱۶- با احداث شهرها و روستاها- کندن تونل و ساختن جاده‌ها و بزرگراه‌ها - استخراج معادن- فعالیت‌های کشاورزی - ساختن سد و... - صفحه ۱۹ و ۲۰
- ۱۷- ۱- زاویه تابش خورشید و عرض جغرافیایی ۲- دوری و نزدیکی به اقیانوس‌ها و دریاها ۳- ارتفاع از سطح زمین ۴- فشار هوا و جریان باد - ص ۲۴
- ۱۸- آب‌وهوا، شکل ناهمواری‌ها، میزان ارتفاع زمین، جنس خاک - صفحه ۳۱
- ۱۹- ۱- باید بین استفاده اقتصادی از منابع جنگل‌ها و فرصت بازسازی آن‌ها تعادل به وجود بیاید. ۲- کشاورزی و دامپروری با روش‌های علمی و جدید که کمترین آسیب را به محیط زیست می‌رسانند، به کشاورزان این منطقه آموزش بدهند. ۳- با ایجاد پارک‌های وحش از گونه‌های جانوری و گیاهی در معرض خطر مراقبت کنند تا نسل آن‌ها منقرض نشود. - صفحه ۴۱
- ۲۰- ۱- بهبود بهداشت ۲- بهبود تغذیه - صفحه ۴۴
- ۲۱- در مهاجرت اختیاری، افراد با میل و تصمیم خود برای دستیابی به زندگی بهتر به‌جای دیگری مهاجرت می‌کنند. یکی از عظیم‌ترین مهاجرت‌های بشر در قرن نوزدهم و بیستم مهاجرت اختیاری بیش از صد میلیون نفر از مردم قاره اروپا به سرزمین‌های جدید، یعنی آمریکای شمالی و جنوبی و استرالیا و سکونت در آنجا برای دستیابی به منابع بیشتر و فرصت‌های بهتر زندگی بوده است. در مهاجرت اجباری، افراد بدون میل خود و به دلیل عواملی چون





- قحطی، خشکسالی و دیگر حوادث طبیعی و یا جنگ‌ها و درگیری‌های سیاسی مجبور به ترک محل زندگی خود می‌شوند؛ مانند مهاجرت اجباری مردم فلسطین از سرزمین‌های اشغالی یا مهاجرت گروهی از افغان‌ها یا عراقی‌ها به کشورهای همسایه به دلیل شرایط جنگ و اشغال نظامی - صفحه ۴۷ و ۴۸
- ۲۲- گزینه ج - صفحه ۵۹
- ۲۳- گزینه ب - صفحه ۸۲
- ۲۴- اعتمادالدوله - صفحه ۶۱
- ۲۵- شاه عباس - صفحه ۶۵
- ۲۶- بافندگی- صفحه ۶۵
- ۲۷- - صفحه ۷۳
- ۲۸- - صفحه ۷۶
- ۲۹- - صفحه ۷۲
- ۳۰- گرفتن حکومت ولایت‌ها از سران قزلباش - تشکیل سپاه جدیدی از افراد غیر قزلباش - تجهیز سپاه به تفنگ و توپ و... - صفحه ۶۲
- ۳۱- علم تاریخ - صفحه ۶۸
- ۳۲- میرداماد - ملاصدرا- شیخ بهایی- علامه محمدباقر مجلسی - صفحه ۶۷
- ۳۳- با تشکیل دولت افغانستان بهتر بتواند از مستعمره خود یعنی هندوستان حفاظت کند و مانع نفوذ کشورهای رقیب از طریق ایران به آن شود. - صفحه ۷۷
- ۳۴- ۱- برقراری امنیت و آرامش ۲- مبارزه با مفاسد اداری و اقتصادی ۳- تأسیس مدرسه دارالفنون ۴- استخدام و به‌کارگیری معلمان از خارج به‌جز روسیه و انگلستان ۵- توجه ویژه به حفظ استقلال کشور و جلوگیری از نفوذ و دخالت‌های روسیه و انگلستان- صفحه ۷۹

درس ۱۳: انقلاب مشروطیت؛ موانع و مشکلات

سوالات درست و نادرست

ردیف	سؤال	وضعیت
۱	فرمان مشروطیت توسط ناصرالدین شاه قاجار صادر شد.	<input type="checkbox"/> (اردبیل خرداد ۹۵)
۲	انقلاب مشروطیت در دوره حکومت مظفرالدین شاه در ایران روی داد.	<input type="checkbox"/> (تکرار ۳ استان)
۳	محمدعلی شاه قاجار، موافق انقلاب مشروطیت و دست نشانده انگلستان در ایران بود.	<input type="checkbox"/> (همدان خرداد ۹۵)
۴	انقلاب کبیر فرانسه همزمان با تأسیس سلسله افشاریه در اروپا رخ داد.	<input type="checkbox"/> (مرکزی خرداد ۹۵)
۵	در آغاز انقلاب مشروطه مهم‌ترین خواسته مردم در حرم عبدالعظیم تأسیس عدالت‌خانه بود.	<input type="checkbox"/> (فارس خرداد ۹۵)
۶	دلیرمردان تنگستانی به فرماندهی ربیعی دلواری با ایثار جان خویش ضربه سنگینی به اشغالگران وارد آوردند.	<input type="checkbox"/> (گلستان خرداد ۹۵)
۷	از زمینه‌های سیاسی اقتصادی انقلاب مشروطه ناتوانی حکومت قاجار در برابر روس و انگلیس بود که سرزمین‌های پهناوری از خاک کشور ما جدا شد.	<input type="checkbox"/> (زنجان خرداد ۹۵)
۸	در قرارداد ۱۹۱۹ ایران بین روسیه و انگلستان تقسیم شد.	<input type="checkbox"/> (اصفهان خرداد ۹۵)





سوالات چهارگزینه‌ای (تستی)

- ۱- فرمان مشروطیت توسط کدام پادشاه قاجار صادر شد؟
 الف) ناصرالدین شاه ب) فتحعلی شاه ج) محمدعلی شاه د) مظفرالدین شاه
 (تکرار ۴ استان)
- ۲- کدام یک از پادشاهان زیر به علت مخالفت با مشروطه، مجلس شورای ملی را به توپ بست؟
 الف) مظفرالدین شاه ب) محمدشاه ج) محمدعلی شاه د) ناصرالدین شاه
 (مازندران و اردبیل خرداد ۹۵)
- ۳- کدام یک از اقشار زیر در انقلاب مشروطیت نقش مؤثری نداشتند.
 الف) علماء ب) روشنفکران ج) دانشجویان د) کارگران
 (چهارمحال و بختیاری خرداد ۹۵)
- ۴- کدام مورد از موانع و مشکلات حکومت مشروطه نیست؟
 الف) افزایش دخالت‌های خارجی ب) اختلاف و دو دستگی میان مشروطه خواهان
 ج) وقوع جنگ جهانی دوم د) مخالفت و دشمنی مستبدان
 (خراسان جنوبی خرداد ۹۵)
- ۵- محمدعلی شاه برای نابودی مشروطه از حمایت و تشویق کدام دولت برخوردار بود؟
 الف) انگلستان ب) عثمانی ج) روسیه د) فرانسه
 (سیستان و بلوچستان خرداد ۹۵)
- ۶- انقلاب مشروطه که یک جنبش سیاسی اجتماعی بود در حکومت چه کسی رخ داد؟
 الف) احمد شاه ب) محمدعلی شاه ج) مظفرالدین شاه د) ناصرالدین شاه
 (تکرار ۳ استان)
- ۷- هم‌زمان با تأسیس حکومت قاجاریه، انقلاب کبیر در کدام کشور روی داد؟
 الف) روسیه ب) فرانسه ج) انگلیس د) آمریکا
 (گیلان خرداد ۹۵)
- ۸- چه کسی در آغاز پشتیبان مشروطه بود و بعد به انتقاد از آن پرداخت؟
 الف) شیخ فضل‌الله نوری ب) احمد شاه ج) مدرس د) امیرکبیر
 (هرمزگان خرداد ۹۵)
- ۹- در آغاز انقلاب مشروطیت نخستین خواسته مردم چه بود؟
 الف) تشکیل مجلس ب) برکناری مظفرالدین شاه ج) تأسیس عدالت‌خانه د) ایجاد اشتغال
 (همدان خرداد ۹۵)

سوالات کوتاه پاسخ

- ۱- در جریان انقلاب مشروطه مهم‌ترین خواسته علماء و روحانیون که در حرم شاه عبدالعظیم بست نشستند چه بود؟
 (تکرار ۳ استان)
- ۲- به دستور چه کسی در اوایل حکومت مشروطه استبداد برقرار و مجلس به توپ بسته شد؟
 (زنجان خرداد ۹۵)
- ۳- پس از ماجرای به چوب بستن بازرگانان در آغاز انقلاب مشروطه، مردم و علماء در کجا به بست نشستند؟
 (فارس خرداد ۹۵)
- ۴- در قرارداد ۱۹۰۷ ایران بین چه کشورهایی تقسیم شد؟
- ۵- مهم‌ترین خواسته بست نشینان در سفارت انگلستان چه بود؟
- ۶- روشنفکران تلاش می‌کردند از چه راه‌هایی مردم را با معایب حکومت استبدادی آشنا کنند؟

سوالات تشریحی

- ۱- حکومت مشروطه چه نوع حکومتی است؟
 (هرمزگان خرداد ۹۵)
- ۲- نظام پادشاهی استبدادی را با نظام پادشاهی مشروطه مقایسه کنید.
 (اصفهان و ایلام خرداد ۹۵)





۳- موانع و مشکلات حکومت مشروطه را بنویسید.

(تکرار ۴ استان)

۴- از زمینه‌های فکری و فرهنگی وقوع انقلاب مشروطیت در هر یک از موارد زیر یک مورد بیان کنید:

(آذربایجان شرقی خرداد ۹۵)

زمینه‌های داخلی:

زمینه‌های خارجی:

۵- در دوره مظفرالدین شاه قاجار، چه عواملی، انگیزه و اراده مردم را برای مبارزه با استبداد و سلطه خارجی دو چندان کرد؟

(آذربایجان غربی خرداد ۹۵)

۶- اهداف اصلی انقلاب مشروطه چه بود؟

(همدان و س. و ب. خرداد ۹۵)

۷- مشروطه خواهان پس از فتح تهران چه تصمیماتی برای اداره کشور گرفتند؟

(گیلان خرداد ۹۵)

۸- علت انتقاد شیخ فضل‌الله نوری نسبت به مشروطه چه بود؟

(زنجان خرداد ۹۵)

۹- انگلستان و روسیه در قرارداد ۱۹۰۷ چه تصمیمی درباره ایران گرفتند؟

(قم و خرداد ۹۵)

۱۰- قرارداد ۱۹۰۷ چه نتایجی برای ایران داشت؟

(چهارمحال و بختیاری خرداد ۹۵)

۱۱- هدف انگلستان و روسیه از امضای قرارداد ۱۹۰۷ چه بود؟

(چهارمحال و بختیاری خرداد ۹۵)

۱۲- در جنگ جهانی اول کدام کشورها به متحدین معروف شدند؟

(کرمان خرداد ۹۵)

۱۳- نقش انقلاب کبیر فرانسه در مشروطه‌خواهی ایرانیان را شرح دهید.

۱۴- واگذاری امتیازهای بسیار به انگلیسی‌ها و روس‌ها چه پیامدهایی به دنبال داشت؟

(کرمانشاه خرداد ۹۵)

۱۵- وصل کردنی (گزینه‌های مرتبط را به هم وصل کنید)

- | | |
|-------------------------------------|---------------------|
| الف) صدراعظم مستبد مظفرالدین شاه | ⊙ عین‌الدوله |
| ب) به توپ بستن مجلس | ⊙ میرزا رضای کرمانی |
| ج) قتل ناصرالدین شاه | ⊙ محمدعلی شاه |
| د) یکی از مجاهدان مشروطه‌خواه تبریز | ⊙ ستارخان |

۱۶- من کیستم؟

(کرمان خرداد ۹۵)

انقلاب مشروطه در دوره حکومت من در ایران رخ داد که سرانجام در ۱۴ مرداد ۱۲۸۵ هـ ش تسلیم خواسته ملت شده و فرمان مشروطه را صادر کردم.

۱۷- من کیستم؟

(خراسان جنوبی و گیلان خرداد ۹۵)

در آغاز، پشتیبان مشروطه بودم اما به انتقاد از آن پرداختم و معتقد بودم افرادی که رهبری انقلاب را به دست گرفته‌اند، به اسلام اعتقادی ندارند و می‌خواهند افکار و فرهنگ کشورهای اروپایی را در ایران گسترش دهند.





پاسخ سؤالات درست و نادرست

- ۱- - صفحه ۸۸
 ۲- - صفحه ۸۶
 ۳- - صفحه ۸۹
 ۴- - صفحه ۸۷

- ۵- - صفحه ۸۸
 ۶- - صفحه ۹۱
 ۷- - صفحه ۸۶
 ۸- - صفحه ۹۰

پاسخ سؤالات چهارگزینه‌ای

- ۱- گزینه د - صفحه ۸۸
 ۲- گزینه ج - صفحه ۸۹
 ۳- گزینه ج - صفحه ۸۸
 ۴- گزینه ج - صفحه ۸۹
 ۵- گزینه ج - صفحه ۸۹
 ۶- گزینه ج - صفحه ۸۶

- ۷- گزینه ب - صفحه ۸۷
 ۸- گزینه الف - صفحه ۹۰
 ۹- گزینه ج - صفحه ۸۸

پاسخ سؤالات کوتاه پاسخ

- ۱- تأسیس عدالتخانه - صفحه ۸۸
 ۲- محمدعلی شاه - صفحه ۸۹
 ۳- حرم حضرت عبدالعظیم - صفحه ۸۸

- ۴- انگلستان و روسیه - صفحه ۹۰
 ۵- تشکیل مجلس شورا - صفحه ۸۸
 ۶- از طریق کتاب و روزنامه - صفحه ۸۷

پاسخ سؤالات تشریحی

- ۱- حکومتی است که در آن قدرت و اختیارات پادشاه بر اساس قانون محدود می‌شود و اداره کشور در اختیار نهادهایی مانند مجلس و هیات وزیران قرار می‌گیرد. - صفحه ۸۶
- ۲- در نظام پادشاهی استبدادی، پادشاه از قدرت و اختیارات فراوانی برخوردار است، خواست وی در حکم قانون است و او بر اساس میل و اراده خود حکومت می‌کند. * در نظام پادشاهی مشروطه قدرت و اختیارات پادشاه بر اساس قانون محدود می‌شود و اداره کشور تنها در اختیار شاه نیست و نهادهایی مانند مجلس شورا و هیئت‌وزیران در اداره کشور مشارکت و دخالت دارند. - صفحه ۸۶
- ۳- مخالفت طرفداران حکومت استبدادی- اختلاف و دو دستگی میان مشروطه خواهان- افزایش دخالت‌های خارجی- وقوع جنگ جهانی اول- صفحه ۸۹
- ۴- داخلی: آموزه‌های دین اسلام و مذهب شیعه و فراخواندن مردم به مبارزه با ظلم و تلاش برای برقراری عدالت- درس گرفتن از قیام امام حسین (ع) و واقعه کربلا - صفحه ۸۶
- خارجی: آشنایی با افکار و دستاوردهای تمدن جدید اروپا - وقوع انقلاب کبیر فرانسه و گسترش اندیشه آزادی خواهی- صفحه ۸۷
- ۵- ۱- موفقیت نهضت تنباکو ۲- قتل ناصرالدین شاه به دست میرزا رضای کرمانی - صفحه ۹۳
- ۶- برقراری حکومت قانون- رها کردن کشور از دست استبداد داخلی - رها کردن کشور از دست سلطه خارجی- صفحه ۸۹
- ۷- محمدعلی شاه را برکنار کردند و پسر خردسالش، احمد میرزا را به جانشینی او برگزیدند. - صفحه ۸۹
- ۸- وی معتقد بود افرادی که رهبری انقلاب را به دست گرفته‌اند به اسلام اعتقادی ندارند و می‌خواهند فرهنگ کشورهای اروپایی را در ایران گسترش دهند. - صفحه ۹۰

- ۹- تصمیم گرفتند به اختلاف‌های خود پایان دهند و به‌جای رقابت با یکدیگر همکاری کنند، این دو کشور طی قرارداد ۱۹۰۷ ایران را میان خود تقسیم کردند. - صفحه ۹۰
- ۱۰- ایران بین روسیه و انگلستان تقسیم شد. پس از آن روسیه با خیالی آسوده در امور داخلی ایران مداخله می‌کرد و اجازه نمی‌داد که دولت و مجلس اوضاع آشفته کشور را سر و سامان دهند. علاوه بر این نیروهای روسیه وارد خاک ایران شدند و در تیریز تعدادی از مشروطه خواهان را کشتند و در مشهد نیز حرم امام رضا (ع) را به گلوله بستند. - صفحه ۹۰
- ۱۱- ۱- برای اینکه بتوانند منطقه نفوذی داشته باشند. ۲- مقابله با قدرت روز افزون آلمان و متحدانش- صفحه ۹۰
- ۱۲- آلمان، ایتالیا، اتریش، مجارستان، عثمانی- صفحه ۹۱
- ۱۳- این انقلاب باعث گسترش اندیشه آزادی‌خواهی و حکومت مشروطه در سراسر اروپا شد. در نتیجه تعدادی از ایرانیان که در جستجوی دلایل عقب‌ماندگی ایران و پیشرفت کشورهای اروپایی بودند متوجه نظام مشروطه و حکومت قانونمند در آن کشورها شدند و به این نتیجه رسیدند که ایران نیز با داشتن حکومت مشروطه می‌تواند در مسیر پیشرفت و ترقی قرار گیرد. - صفحه ۸۷
- ۱۴- باعث تسلط بیگانگان بر منابع ثروت اقتصادی کشور شد - ضربه شدیدی به صنعت، کشاورزی و بازرگانی ایران وارد کرد - بیکاری را در سراسر کشور گسترش داد. - صفحه ۸۶
- ۱۵- الف) ← (عین الدوله)- صفحه ۹۵ ب) ← (محمدعلی شاه)
 ج) ← (میرزا رضای کرمانی)- صفحه ۹۳ د) ← (ستارخان)- صفحه ۸۹
- ۱۶- مظفرالدین‌شاه- صفحه ۹۴
- ۱۷- آیت‌الله شیخ فضل‌الله نوری- صفحه ۹۶



درس ۱۴: ایران در دوران حکومت پهلوی

سؤالات درست و نادرست

ردیف	سؤال	وضعیت
۱	نهضت ملی شدن صنعت نفت یکی از رویدادهای مهم تاریخ معاصر ایران است.	<input type="checkbox"/>
۲	نام کشور روسیه پس از سرنگونی به «اتحاد جماهیر شوروی» تغییر یافت.	<input type="checkbox"/>
۳	در اواخر جنگ جهانی دوم، دولت جدید شوروی نیروهایش را از ایران فراخواند.	<input type="checkbox"/>
۴	آیت‌الله سید حسن مدرس یکی از مخالفان سر سخت شیوه حکومت رضا شاه بود.	<input type="checkbox"/>

سؤالات چهارگزینه‌ای (تستی)

- ۱- رهبری نهضت ملی شدن صنعت نفت را چه کسانی به عهده گرفتند؟
 الف) ستارخان و باقرخان
 ب) آیت‌الله کاشانی و دکتر مصدق
 ج) آیت‌الله بهبهانی و آیت‌الله طباطبائی
 د) علما و روشنفکران
 (گلستان خرداد ۹۵)
- ۲- پس از کودتای ۲۸ مرداد سال ۱۳۳۲ علیه نهضت ملی، سلطه کدام کشور بر ایران افزایش یافت؟
 الف) روسیه
 ب) انگلستان
 ج) فرانسه
 د) آمریکا
 (تکرار ۴ استان)
- ۳- پس از کدام حادثه رضاشاه دستور داد حجاب را به زور و خشونت از سر زنان و دختران ایرانی بردارند؟
 الف) برکناری احمدشاه از قدرت
 ب) سرکوب مردم در مسجد گوهرشاد
 ج) اشغال ایران توسط متفقین
 د) واگذاری رسمی حکومت به رضاخان
 (فارس خرداد ۹۵)
- ۴- قبل از ملی شدن صنعت نفت ایران، نفت ایران در دست کدام دولت بود؟
 الف) فرانسه
 ب) آلمان
 ج) روسیه
 د) انگلستان
 (همدان خرداد ۹۵)
- ۵- جنگ جهانی دوم با هجوم برق‌آسای کدام کشور به لهستان آغاز شد؟
 الف) شوروی
 ب) انگلیس
 ج) آلمان
 د) فرانسه
 (تکرار ۴ استان)
- ۶- هدف اصلی متفقین از اشغال ایران در شهریور ۱۳۲۰ چه بود؟
 الف) حضور شماری از آلمان‌ها در ایران
 ب) استفاده از موقعیت‌ها و امکانات و منابع ایران به نفع خود
 ج) نوسازی تشکیلات نظامی
 د) از بین بردن فضای خفقان، زور و خشونت در کشور
 (خراسان جنوبی خرداد ۹۵)
- ۷- نخستین دانشگاه ایران «دانشگاه تهران» در زمان کدام پادشاه بنیان شد؟
 الف) مظفرالدین شاه
 ب) رضا شاه
 ج) ناصرالدین شاه
 د) نادرشاه افشار
 (آذربایجان غربی خرداد ۹۵)

سؤالات کوتاه پاسخ

- ۱- قرارداد ۱۹۱۹ در زمان نخست‌وزیری چه کسی بسته شد؟
 (خراسان جنوبی خرداد ۹۵)
- ۲- در جریان دو جنگ جهانی اول و دوم، کشور ما به دست کدام گروه از کشورهای درگیر، اشغال گردید؟
 (همدان خرداد ۹۵)
- ۳- موضع دولت ایران در مقابل جنگ جهانی دوم چه بود؟
 (خراسان رضوی خرداد ۹۵)
- ۴- در جریان ملی شدن نفت ایران چه کسانی رهبری نهضت را بر عهده داشتند؟
 (تکرار ۷ استان)
- ۵- متفقین به چه بهانه‌ای در شهریور ۱۳۲۰ (جنگ جهانی دوم) ایران را اشغال کردند؟
 (تکرار ۳ استان)





سوالات تشریحی

- ۱- هدف اصلی متفقین از اشغال ایران چه بود؟
(تکرار ۲ استان)
- ۲- مفاد قرارداد ۱۹۱۹ که در زمان نخست‌وزیری وثوق‌الدوله بین ایران و انگلستان منعقد شد را بنویسید.
(آذربایجان غربی خرداد ۹۵)
- ۳- رضاخان پس از کودتای سوم اسفند ۱۲۹۹ دست به چه اقداماتی زد؟
(قم خرداد ۹۵)
- ۴- اقدامات رضاشاه برای تضعیف ارزش‌های دینی و رواج فرهنگ غیر ایرانی را بنویسید.
(تکرار ۵ استان)
- ۵- در جنگ جهانی دوم کدام کشورها متفقین خوانده می‌شدند؟
(هرمزگان و کرمانشاه خرداد ۹۵)
- ۶- اقدامات رضا شاه را در دوران حکومتش بنویسید.
(اصفهان و گلستان خرداد ۹۵)
- ۷- نتایج نهضت ملی شدن صنعت نفت ایران چه بود؟
(البرز خرداد ۹۵)
- ۸- چرا انگلیسی‌ها نتوانستند از ملی شدن نفت جلوگیری کنند؟
(خوزستان خرداد ۹۵)
- ۹- مهم‌ترین دلیل موفقیت کودتای ۲۸ مرداد چه بود؟
(البرز و گلستان خرداد ۹۵)
- ۱۰- به نظر شما، رضا شاه دست‌نشانده چه کشوری بود و چرا قبل از رسیدن به پادشاهی سعی نمود تا خود را مدافع دین معرفی نماید؟ (همدان خرداد ۹۵)
- ۱۱- متفقین پس از اشغال کشور ما در جریان جنگ جهانی دوم چه اقدام سیاسی در مورد حکومت ایران انجام دادند؟
- ۱۲- آثار و پیامدهای سیاسی، اقتصادی و اجتماعی جنگ جهانی دوم بر ایران چه بود؟
- ۱۳- محمدرضا شاه پس از کودتای ۲۸ مرداد برای سرکوب مخالفان چه کرد؟

پاسخ سوالات درست و نادرست

- | | | | |
|--|--|--|--|
| ۱- <input checked="" type="checkbox"/> - صفحه ۹۶ | ۲- <input checked="" type="checkbox"/> - صفحه ۹۲ | ۳- <input checked="" type="checkbox"/> - صفحه ۹۲ | ۴- <input checked="" type="checkbox"/> - صفحه ۹۴ |
|--|--|--|--|

پاسخ سوالات چهارگزینه‌ای

- | | | | |
|---------------------|---------------------|---------------------|---------------------|
| ۱- گزینه ب- صفحه ۹۶ | ۲- گزینه د- صفحه ۹۷ | ۳- گزینه ب- صفحه ۹۵ | ۴- گزینه د- صفحه ۹۶ |
| ۵- گزینه ج- صفحه ۹۵ | ۶- گزینه ب- صفحه ۹۵ | ۷- گزینه ب- صفحه ۹۵ | |





پاسخ سؤالات کوتاه پاسخ

- ۱- نخست‌وزیری وثوق‌الدوله- صفحه ۹۲
- ۲- متفقین- صفحه ۹۵
- ۳- اعلام بی‌طرفی کرد- صفحه ۹۵

پاسخ سؤالات تشریحی

- ۱- هدف اصلی آن‌ها از این اقدام استفاده از موقعیت و منابع و امکانات ایران به سود خویش بود.- صفحه ۹۵
- ۲- اداره امور نظامی و مالی ایران در اختیار کارشناسان (مستشاران) نظامی و مالی انگلستان قرار می‌گرفت.- صفحه ۹۲
- ۳- رضاخان ارتش نوینی پایه‌گذاری کرد و آشوب‌های داخلی را فرونشاند و نظم و امنیت را برقرار کرد.- صفحه ۹۲
- ۴- مجبور کردن مردم به این‌که لباس یکسانی به تن کنند- کلاه لبه‌داری (مشهور به کلاه پهلوی) بر سر بگذارند.- ایجاد محدودیت برای برگزاری مراسم مذهبی- برداشتن حجاب از سر زنان و دختران- صفحه ۹۴
- ۵- انگلستان، فرانسه، شوروی (روسیه)، آمریکا- صفحه ۹۵
- ۶- نوسازی تشکیلات نظامی، گسترش مدارس و مراکز آموزشی جدید، بنیان نخستین دانشگاه ایران (تهران)، توسعه راه‌های شوسه، احداث راه‌آهن، ایجاد مؤسسات و مراکز صنعتی، کشف حجاب- صفحه ۹۴
- ۷- منابع نفت ایران ملی شد و دست بیگانگان از این ثروت ملی کوتاه شد صفحه ۹۶

- ۴- آیت‌الله کاشانی و دکتر محمد مصدق- صفحه ۹۶
- ۵- به بهانه حضور تعدادی از کارشناسان آلمانی- صفحه ۹۵

- ۸- به دلیل وحدت ملت و همدلی رهبران نهضت- صفحه ۹۶
- ۹- گسترش اختلافات در میان رهبران ملی شدن صنعت نفت- ایجاد تفرقه و دشمنی میان رهبران و گروه‌های سیاسی و استفاده انگلستان و آمریکا از این شرایط برای کودتا- صفحه ۹۷
- ۱۰- انگلستان- زیرا می‌خواست حمایت داخلی را به دست آورد و....
- ۱۱- رضا شاه را مجبور کردند که به نفع پسرش، محمدرضا از قدرت کناره‌گیری کند و سپس او را از ایران تبعید کردند.- صفحه ۹۵
- ۱۲- آثار سیاسی: برکناری رضا شاه و جایگزینی پسرش محمدرضا شاه- آغاز دخالت‌های آمریکا در ایران جهت استفاده از منابع و امکانات- آثار اقتصادی و اجتماعی: وارد شدن آسیب و خسارت زیاد به اقتصاد و جامعه ایران از جمله کمبود و گرانی شدید مواد غذایی، مخصوصاً نان و تلف شدن تعداد زیادی از مردم بر اثر گرسنگی و سوء تغذیه- صفحه ۹۵
- ۱۳- با تأسیس سازمان اطلاعات و امنیت کشور به سرکوب شدید مخالفان پرداخت و دوباره فضای ترس و خفقان را بر کشور حاکم کرد.- صفحه ۹۷

درس ۱۵: انقلاب اسلامی ایران

سؤالات درست و نادرست

ردیف	سؤال	وضعیت
۱	قیام مردم قم در ۱۹ دی ۱۳۵۶ در اعتراض به انتشار مقاله توهین‌آمیز روزنامه اطلاعات بود.	<input type="checkbox"/> (آذربایجان شرقی خرداد ۹۵)
۲	رژیم شاه، امام خمینی (ره) را در ۱۳ آبان ۱۳۴۳ به کشور عراق تبعید کرد.	<input type="checkbox"/> (قم خرداد ۹۵)
۳	علت اصلی نارضایتی مردم در اوایل سال ۱۳۵۶ به دلیل مسائل و مشکلات مختلف فرهنگی، سیاسی و اقتصادی حکومت شاه بود.	<input type="checkbox"/> (زنجان خرداد ۹۵)
۴	پس از سخنرانی امام خمینی در مخالفت با کاپیتولاسیون حکومت پهلوی ایشان را به الجزایر تبعید کرد.	<input type="checkbox"/> (فارس خرداد ۹۵)
۵	اصول شش‌گانه با عنوان «انقلاب سفید» به همه‌پرسی گذاشته شد.	<input type="checkbox"/>





سؤالات چهارگزینه‌ای (تستی)

- ۱- برجسته‌ترین روحانی که با تصویب‌نامه انجمن‌های ایالتی و ولایتی مخالفت کرد که بود؟
 الف) امام خمینی (ب) مدرس (ج) بهبهانی (د) طباطبایی
 (خوزستان خرداد ۹۵)
- ۲- امام خمینی در چه تاریخی وارد خاک ایران شدند؟
 الف) ۱۲ بهمن ۵۷ (ب) ۲۶ دی ۵۷ (ج) ۲۲ بهمن ۵۷ (د) ۲۶ دی ۵۸
 (گیلان خرداد ۹۵)
- ۳- چرا امام خمینی و علما با لایحه انجمن‌های ایالتی و ولایتی مخالفت نمودند؟
 الف) زیرا به مردم حق رأی می‌داد (ب) چون باعث تضعیف دین می‌شد
 ج) چون قدرت شاه بیشتر می‌شد (د) هر سه مورد صحیح است
 (همدان خرداد ۹۵)
- ۴- علت قیام ۱۹ دی‌ماه مردم قم در سال ۱۳۵۶ چه بود؟
 الف) اعتراض به تصویب‌نامه انجمن‌های ایالتی و ولایتی (ب) اعتراض به تبعید امام خمینی
 ج) اعتراض به انتشار مقاله توهین‌آمیز روزنامه اطلاعات (د) مخالفت با اصول شش‌گانه
 (یزد خرداد ۹۵)
- ۵- امام خمینی (ره) پس از کدام رویداد از ایران تبعید شد؟
 الف) مخالفت با اصول شش‌گانه (ب) مخالفت با لایحه انجمن ایالتی و ولایتی
 ج) مخالفت با کاپیتولاسیون (د) سخنرانی عاشورای سال ۱۳۴۲
 (کرمانشاه خرداد ۹۵)
- ۶- کدام‌یک از عالمان زیر از طریق نوشتن کتاب و برگزاری کلاس‌های تفسیر قرآن، مبارزه می‌کردند.
 الف) آیت‌الله مدرس (ب) آیت‌الله کاشانی (ج) آیت‌الله مطهری (د) شیخ محمد خیابانی
 (خراسان رضوی خرداد ۹۵)

سؤالات کوتاه پاسخ

- ۱- برجسته‌ترین چهره مخالفان تصویب‌نامه انجمن‌های ایالتی و ولایتی چه کسی بود؟
 (آذربایجان شرقی خرداد ۹۵)
- ۲- نخستین مرجع دینی که به مخالفت با تصویب‌نامه انجمن‌های ایالتی و ولایتی شاه پرداخت چه کسی بود؟
 (اصفهان خرداد ۹۵)
- ۳- محمدرضا شاه پس از لغو تصویب‌نامه انجمن‌های ایالتی و ولایتی اعلام کرد که اصول شش‌گانه‌ای را با چه عنوانی به همه‌پرسی (رفراندوم) خواهد گذشت.
 (ایلام خرداد ۹۵)
- ۴- انقلاب اسلامی ایران با کدام شعار محوری به پیروزی رسید؟
 (یزد خرداد ۹۵)

سؤالات تشریحی

- ۱- عوامل مؤثر در موفقیت و پیروزی انقلاب اسلامی را بنویسید.
 (تکرار ۵ استان)
- ۲- اساسی‌ترین تغییرات حکومت پهلوی را در قانون انجمن‌های ایالتی و ولایتی در سال ۱۳۴۱ هـ. ش، بیان کنید.
 (تکرار ۹ استان)
- ۳- علت قیام مردم قم در ۱۹ دی‌ماه سال ۱۳۵۶ هـ. ش مردم قم، چه بود؟
 (تکرار ۶ استان)
- ۴- منظور از «حق کاپیتولاسیون» را شرح دهید.
 (تکرار ۳ استان)
- ۵- دلایل سیاسی و اقتصادی نارضایتی مردم از حکومت شاه چه بود؟
 (البرز خرداد ۹۵)



۶- استاد مطهری و دکتر شریعتی به چه شکل‌هایی به مبارزه با رژیم شاه می‌پرداختند و اسلام واقعی را به جوانان معرفی می‌کردند؟ (کرمان خرداد ۹۵)

۷- به چه دلیل علما و امام خمینی با تصویب لایحه انجمن‌های ایالتی و ولایتی مخالفت کردند؟ (مرکزی و زنجان خرداد ۹۵)

۸- هدف آمریکا از ایجاد تغییرات در امور اجتماعی و اقتصادی ایران چه بود؟ (کرمان خرداد ۹۵)

۹- چرا روز ۱۷ شهریور سال ۱۳۵۷ به جمعه سیاه معروف شد؟

۱۰- جدول زیر که مربوط به نارضایتی مردم از حکومت پهلوی می‌باشد را کامل کنید؟ (مرکزی خرداد ۹۵)

دلیل فرهنگی نارضایتی	دلیل سیاسی نارضایتی
۱-	۲-

۱۱- من کیستم؟ (البرز خرداد ۹۵)

عالم شجاعی بودم که در نتیجه مخالفت‌های جدی من محمدرضا شاه مجبور شد تصویب‌نامه انجمن‌های ایالتی و ولایتی را لغو کند.

۱۲- هر یک از وقایع سمت چپ مربوط به کدام تاریخ‌های سمت راست می‌باشد گزینه‌های مرتبط را با خطی به هم وصل کنید. (تکرار ۳ استان)

- | | |
|-----------------|-------------|
| الف) ۲۶ دی ۵۷ | ○ جمعه سیاه |
| ب) ۱۷ شهریور ۵۷ | ○ ورود امام |
| ج) ۱۲ بهمن ۵۷ | ○ فرار شاه |

۱۳- اقدامات امام خمینی را در مبارزه با حکومت پهلوی به ترتیب روی نمودار بنویسید. (چهارمخال و بختیاری خرداد ۹۵)



پاسخ سؤالات درست و نادرست

- ۱- [X] صفحه ۱۰۴ ۲- [X] صفحه ۱۰۲ ۳- [X] صفحه ۱۰۳ ۴- [X] صفحه ۱۰۲ ۵- [X] صفحه ۱۰۱

پاسخ سؤالات چهارگزینه‌ای

- ۱- گزینه الف - صفحه ۱۰۰ ۳- گزینه ب - صفحه ۱۰۰ ۲- گزینه الف - صفحه ۱۰۶ ۴- گزینه ج - صفحه ۱۰۴
- ۵- گزینه د - صفحه ۱۰۲ ۶- گزینه ج - صفحه ۱۰۳





پاسخ سؤالات کوتاه پاسخ

- ۱- عالمی شجاع به نام آیت‌الله سید روح‌الله خمینی- صفحه ۱۰۰
 ۲- امام خمینی (ره)- صفحه ۱۰۰

پاسخ سؤالات تشریحی

- ۱- ۱- ایمان به اسلام
 ۲- وحدت ملت ۳- رهبری قاطع امام خمینی (ره)- صفحه ۱۰۶
 ۲- لغو شرط مسلمان بودن برای انتخاب‌کنندگان و انتخاب شوندگان- لغو سوگند به قرآن برای انتخاب شوندگان و تبدیل آن به سوگند به کتاب آسمانی- صفحه ۱۰۰
 ۳- اعتراض به انتشار مقاله توهین‌آمیز نسبت به امام خمینی در روزنامه اطلاعات- صفحه ۱۰۴
 ۴- نوعی مصونیت قضایی مأموران نظامی آمریکا بود که بر اساس این مصونیت اگر آمریکایی‌ها در ایران مرتکب جرمی می‌شدند، دادگاه‌های ایران حق رسیدگی به جرم آن‌ها را نداشتند- صفحه ۱۰۲
 ۵- دلایل سیاسی: وابستگی سیاسی حکومت پهلوی به بیگانگان و نفوذ و دخالت کشورهای خارجی- استبداد و سرکوب مردم توسط شاه. /دلایل اقتصادی: حیف و میل و غارت ثروت و سرمایه‌های کشور توسط خاندان پهلوی و مقام‌های حکومتی- صفحه ۱۰۳
 ۶- سخنرانی، نوشتن کتاب و مقاله و برگزاری کلاس‌های تفسیر قرآن و نهج‌البلاغه در مساجد، حسینیه‌ها و دانشگاه‌ها- صفحه ۱۰۳
 ۷- به خاطر اینکه حکومت پهلوی به‌ظاهر وانمود می‌کرد که با این تغییرات قانونی قصد دارد مردم را در فعالیت‌های اجتماعی مشارکت بدهد، اما در واقع هدف او تضعیف هویت اسلامی جامعه ایران بود.

- ۳- انقلاب سفید- صفحه ۱۰۰
 ۴- استقلال، آزادی، جمهوری اسلامی- صفحه ۱۰۶

- به همین دلیل، علما با این تغییر قانون مخالفت کردند- صفحه ۱۰۰
 ۸- جلوگیری از وقوع قیام‌های مردمی و حفظ حکومت پهلوی- صفحه ۱۰۱
 ۹- در آن روز مأموران رژیم شاه به طرز بی‌رحمانه‌ای تظاهرات مردم را در میدان ژاله (شهدا) به خاک و خون کشیدند و عدّه زیادی را شهید و زخمی کردند- صفحه ۱۰۵
 ۱۰- ۱- فرهنگی: بی‌توجهی به فرهنگ و ارزش‌های اسلامی- تخریب ارزش‌های اسلامی توسط برنامه‌های رادیو تلویزیون- صفحه ۱۰۳
 ۲- سیاسی: وابستگی به بیگانگان - نفوذ و دخالت کشورهای خارجی در امور داخلی ایران - استبداد و سرکوب (نداشتن اختیار نمایندگان مجلس شورای ملی - نادیده گرفتن حقوق ملت و اصول قانون اساسی مشروطه توسط رژیم - نداشتن آزادی روزنامه‌ها) - صفحه ۱۰۳
 ۱۱- امام خمینی- صفحه ۱۰۰
 ۱۲- الف) ۲۶ دی ۵۷ ← فرار شاه- صفحه ۱۰۶
 ب) ۱۷ شهریور ۵۷ ← جمعه سیاه- صفحه ۱۰۵
 ج) ۱۲ بهمن ۵۷ ← ورود امام- صفحه ۱۰۶
 ۱۳- الف) مخالفت با اصول شش‌گانه
 ب) مخالفت با کاپیتولاسیون و دستگیری امام- صفحه ۱۰۲

درس ۱۶: ایران در دوران پس از پیروزی انقلاب اسلامی

سؤالات درست و نادرست

ردیف	سؤال	وضعیت
۱	حضرت امام خمینی (ره) در شامگاه ۱۳ خرداد سال ۱۳۶۹ هـ ش، در تهران رحلت نمودند.	<input type="checkbox"/> (ادریجان غربی خرداد ۹۵)
۲	دو سال پس از اعلام آتش‌بس، آزادگان به کشور بازگشتند.	<input type="checkbox"/> (قم خرداد ۹۵)
۳	در سال‌های نخست انقلاب اسلامی گروه‌های ضد انقلاب به‌ویژه در مناطق مرزی به ایجاد ناامنی و اغتشاش پرداختند.	<input type="checkbox"/>
۴	حجت‌الاسلام دکتر محمدجواد باهنر، از جمله شخصیت‌هایی بودند که بر اثر اقدام‌های تروریستی ضدانقلاب به‌شدت مجروح شدند.	<input type="checkbox"/>





سؤالات چهارگزینه‌ای (تستی)

- ۱- جمله «این انقلاب در هیچ کجای جهان بی‌نام او شناخته نیست.» نقل قول کدام شخصیت و در وصف چه کسی گفته شده است؟ (فارس خرداد ۹۵)
 - الف) امام خمینی- آیت‌الله خامنه‌ای
 - ب) آیت‌الله خامنه‌ای- امام خمینی
 - ج) امام خمینی- آیت‌الله مطهری
 - د) آیت‌الله خامنه‌ای- آیت‌الله مطهری
- ۲- کدام یک از گزینه‌های زیر روز جمهوری اسلامی نامیده می‌شود؟ (آذربایجان شرقی خرداد ۹۵)
 - الف) ۱۲ فروردین ۵۸
 - ب) ۱۲ بهمن ۵۸
 - ج) ۲۲ بهمن ۵۷
 - د) ۱۵ خرداد ۵۸
- ۳- پس از تصویب قانون اساسی، انتخابات اولین دوره مجلس شورای اسلامی جمهوری اسلامی ایران در چه زمانی برگزار شد؟ (آذربایجان غربی خرداد ۹۵)
 - الف) فروردین‌ماه ۱۳۵۸
 - ب) بهمن‌ماه ۱۳۵۷
 - ج) دی‌ماه ۱۳۵۸
 - د) اسفندماه ۱۳۵۸
- ۴- سپاه پاسداران و بسیج با چه هدفی شکل گرفتند؟ (س.و.ب خرداد ۹۵)
 - الف) برقراری نظم و امنیت
 - ب) حمایت از قشرهای محروم
 - ج) دفاع از آرمان‌های انقلاب
 - د) تبلیغ و ترویج فرهنگ و ارزش‌های اسلامی

سؤالات کوتاه پاسخ

- ۱- روز ۱۲ فروردین به چه نامی نام‌گذاری شده است. (اردبیل خرداد ۹۵)
- ۲- مهم‌ترین اقدام پس از همه‌پرسی تعیین نظام سیاسی (جمهوری اسلامی) چه بود؟ (چهارمحال و بختیاری خرداد ۹۵)
- ۳- خواسته اساسی و اصلی مردم در انقلاب اسلامی تحقق شعار استقلال، آزادی و چه شعار دیگری بود؟ (همدان خرداد ۹۵)
- ۴- جنگ حکومت بعثی عراق علیه ایران در چه تاریخی آغاز شد؟

سؤالات تشریحی

- ۱- در آغاز پیروزی انقلاب اسلامی، نهادهای انقلابی به فرمان امام خمینی شکل گرفتند؛ دو مورد از آن‌ها که نقش مؤثری در پیشبرد اهداف انقلاب داشتند را نام ببرید. (فارس و همدان خرداد ۹۵)
- ۲- بعد از پیروزی انقلاب کدام نهادها به فرمان امام خمینی (ره) تشکیل شدند و هدف از تشکیل این نهادها چه بود؟ (آذربایجان شرقی خرداد ۹۵)
- ۳- هدف از تشکیل نهاد سپاه پاسداران انقلاب اسلامی و بسیج مستضعفان توسط رهبر انقلاب چه بود؟ (تکرار ۳ استان)
- ۴- آیت‌الله خامنه‌ای چگونه به رهبری انقلاب برگزیده شد؟ (اصفهان خرداد ۹۵)
- ۵- چند مورد از توطئه‌ها و دسیسه‌های دشمنان برای انحراف و نابودی انقلاب اسلامی پس از پیروزی را بنویسید؟ (تکرار ۴ استان)
- ۶- چرا جمهوری اسلامی رابطه خود را با «اسرائیل» قطع کرد؟ (گلستان خرداد ۹۵)
- ۷- امام خمینی (ره) به دولت موقت چه مأموریتی دادند؟ (قم خرداد ۹۵)
- ۸- علت حمایت گسترده مردم از انقلاب اسلامی و کشور در سال‌های پس از پیروزی انقلاب اسلامی را بنویسید. (البرز خرداد ۹۵)
- ۹- بگویند چرا و چگونه انقلاب اسلامی با وجود ترور گسترده شخصیت‌های نظام جمهوری اسلامی به مسیر خود ادامه داد؟ (ایلام خرداد ۹۵)
- ۱۰- به نظر شما دلیل اصلی دشمنی آمریکا با نظام جمهوری اسلامی چیست؟ (همدان خرداد ۹۵)





۱۱- نمودار روند تأسیس نظام جمهوری اسلامی را کامل کنید.

(تکرار ۳ استان)

همه‌پرسی تعیین نظام سیاسی	(الف)	(ب)	انتخابات اولین دوره مجلس شورای اسلامی	(پ)
---------------------------	-------------	-----------	---------------------------------------	-----------

(تکرار ۳ استان)

۱۲- با توجه به گزینه‌های داخل پرانتز نمودار روند تأسیس نظام جمهوری اسلامی را تکمیل کنید (یک مورد اضافی است)

«تدوین و تصویب قانون اساسی - اولین دوره انتخابات مجلس - تشکیل شورای انقلاب»

همه‌پرسی تعیین نظام سیاسی	(الف)	انتخابات اولین دوره مجلس شورای اسلامی	(ب)	تعیین هیئت دولت
---------------------------	-------------	---------------------------------------	-----------	-----------------

پاسخ سؤالات درست و نادرست

۴- - صفحه ۱۰۹

۳- - صفحه ۱۰۸

۲- - صفحه ۱۱۰

۱- - صفحه ۱۱۱

پاسخ سؤالات چهارگزینه‌ای

۴- گزینه ج - صفحه ۱۰۸

۳- گزینه د - صفحه ۱۰۸

۲- گزینه الف - صفحه ۱۰۷

۱- گزینه ب - صفحه ۱۱۱

پاسخ سؤالات کوتاه پاسخ

۳- جمهوری اسلامی - صفحه ۱۰۷

۴- ۳۱ شهریور ۱۳۵۹ - صفحه ۱۱۰

۱- روز جمهوری اسلامی - صفحه ۱۰۷

۲- تدوین و تصویب قانون اساسی جدید - صفحه ۱۰۷

پاسخ سؤالات تشریحی

- (اسرائیل) قطع کرد. - صفحه ۱۰۸
- ۷- مأموریت داد که ضمن اداره امور کشور، اقدامات لازم را برای تأسیس نظام سیاسی جدید انجام دهد. - صفحه ۱۰۷
- ۸- تشکیل حکومت انقلابی برخاسته از متن مردم - حمایت نظام از نهضت‌های آزادی‌بخش در سراسر جهان و مخالف سلطه کشورهای زورگو - ترویج فرهنگ و ارزش‌های اسلامی - حمایت از قشرهای محروم در جامعه و... - صفحه ۱۱۱
- ۹- به خاطر اینکه این انقلاب متکی به اشخاص یا گروه‌های خاصی نبود، بلکه با اتکا به نیروهای اصیل مردمی، ایمان و اعتقاد به اسلام و رهبری قاطع و هوشیارانه امام خمینی به پیروزی رسید. - صفحه ۱۱۱
- ۱۰- سیاست استکبار ستیزی و دشمنی جمهوری اسلامی با اسرائیل
- ۱۱- الف) تدوین و تصویب قانون اساسی ب) انتخابات ریاست جمهوری پ) تعیین هیئت دولت - صفحه ۱۰۸
- ۱۲- الف) تدوین قانون اساسی ب) انتخابات مجلس - صفحه ۱۰۸

- ۱- سپاه پاسداران انقلاب اسلامی، بسیج مستضعفان، جهاد سازندگی و نهضت سوادآموزی - صفحه ۱۰۸
- ۲- نهادهایی مانند سپاه پاسداران انقلاب اسلامی و بسیج مستضعفان باهدف دفاع از آرمان‌های انقلاب اسلامی و مرزبوم کشور، جهاد سازندگی به منظور عمران و آبادانی روستاها و نهضت سوادآموزی برای کاهش بی‌سوادی و گسترش سواد در کشور - ص ۱۰۸
- ۳- دفاع از آرمان‌های انقلاب اسلامی و مرز و بوم کشور - صفحه ۱۰۸
- ۴- یک روز پس از ارتحال امام، مجلس خبرگان آیت‌الله خامنه‌ای را به رهبری انقلاب برگزید. - صفحه ۱۱۱
- ۵- ایجاد شورش و ناامنی - ترور شخصیت‌ها و مردم انقلابی - جنگ تحمیلی - صفحه ۱۰۸
- ۶- نظام جمهوری اسلامی ایران از همان ابتدای شکل‌گیری به حمایت از نهضت‌های آزادی‌بخش در سراسر جهان برخاست به همین دلیل جمهوری اسلامی روابط خود را با دولت اشغالگر قدس





درس ۱۷: فرهنگ

سؤالات درست و نادرست

ردیف	سؤال	وضعیت
۱	مدرسه اولین و مهم‌ترین کانون اجتماعی شدن فرد است.	<input type="checkbox"/> (آذربایجان شرقی خرداد ۹۵)
۲	نمادها، در جریان روابط اجتماعی به وجود می‌آیند.	<input type="checkbox"/> (آذربایجان غربی خرداد ۹۵)
۳	همه ارزش‌ها و هنجارها در جامعه مفید هستند.	<input type="checkbox"/> (البرز خرداد ۹۵)
۴	فرهنگ از طریق ژن‌ها منتقل می‌شود.	<input type="checkbox"/> (خوزستان و س. و ب. خرداد ۹۵)
۵	نمادها و هنجارها از لایه‌های عمیق فرهنگ به شمار می‌روند.	<input type="checkbox"/> (خوزستان خرداد ۹۵)

سؤالات چهارگزینه‌ای (تستی)

- قواعد و شیوه‌های مورد قبول یک جامعه برای انجام دادن کارهای مختلف را می‌گویند. (آذربایجان شرقی و مرکزی خرداد ۹۵)
 الف) نماد (ب) هنجار (ج) ارزش (د) عقاید
- کدام‌یک از موارد زیر هنجار محسوب می‌شود. (البرز خرداد ۹۵)
 الف) داشتن لباس گران‌قیمت (ب) سرود ملی کشور (ج) اول شدن در مسابقه (د) هدیه دادن برای کسی که خانه جدید خریده است.
- اولین و مهم‌ترین محل و کانون اجتماعی شدن افراد کدام گروه زیر است؟ (همدان و خوزستان خرداد ۹۵)
 الف) مدرسه (ب) خانواده (ج) دوستان (د) دانشگاه
- کدام مورد زیر از ارزش‌ها و هنجارهای غلط بوده و در اثر فراموش کردن عقاید دینی رایج شده است. (همدان خرداد ۹۵)
 الف) رعایت اصول اخلاقی (ب) عدم تجاوز به حقوق افراد (ج) بدحجابی و اسراف‌کار (د) پرهیز از خودنمایی
- خوب و بد، زشت و زیبا و مطلوب و نامطلوب دانستن امور مختلف را چه می‌نامند؟ (گلستان خرداد ۹۵)
 الف) هنجار (ب) فرهنگ (ج) ارزش (د) نماد
- ۲۲- نسبت جامعه به فرهنگ، با کدام‌یک از موارد زیر تشابه دارد؟ (خراسان رضوی خرداد ۹۵)
 الف) قطعات تلفن همراه به نرم‌افزار آن (ب) قوانین مدرسه دانش‌آموزان (ج) موتور خودرو به بدنه آن (د) محتوای درس به کتاب

سؤالات کوتاه پاسخ

- اولین و مهم‌ترین کانون اجتماعی شدن فرد کدام نهاد است. (تکرار ۳ استان)
- در فرایند اجتماعی شدن، مهم‌ترین لایه‌های فرهنگ که به افراد آموخته می‌شوند کدام‌اند؟ (تکرار ۳ استان)





سوالات تشریحی

- ۱- تعریف فرهنگ را در یک سطر بنویسید. (البرز و بزد خرداد ۹۵)
- ۲- جنبه‌های مختلف فرهنگ را می‌توان به لایه‌های یک پیاز تشبیه کرد، شما عزیزان این لایه‌ها را در پراتنز مربوط به خود بنویسید. (فارس خرداد ۹۵)
 الف) لایه‌های خارجی یا بیرونی فرهنگ () - ()
 ب) لایه‌های عمیق‌تر فرهنگ () - ()
- ۳- مهم‌ترین دلایل «پیروی از هنجارها» چیست؟ (تکرار ۳ استان)
- ۴- از لایه‌های درونی فرهنگ، «ارزش» را توضیح دهید. (زنجان خرداد ۹۵)
- ۵- منظور از ارزش‌های انسانی و اجتماعی چیست؟ مثال بزنید. (خراسان جنوبی و گیلان خرداد ۹۵)
- ۶- چه عواملی می‌توانند نمادها، ارزش‌ها و هنجارهای یک جامعه را تغییر دهند؟ (قم خرداد ۹۵)
- ۷- تفاوت فرهنگی بیگانگان و کشورهای سلطه‌گر چه تغییری در نمادها و ارزش‌ها و هنجارهای ما پدید می‌آورد؟ (البرز خرداد ۹۵)
- ۸- فرآیند اجتماعی شدن افراد چگونه اتفاق می‌افتد؟

- ۹- کدام مورد هنجار و کدام ارزش می‌باشد؟
 الف) در مراسم عروسی همراه با دست زدن و چرخش سینی غذا آورده شود.
 ب) پناه دادن به بی‌پناهان در کشورمان که در آن‌ها جنگ و شورش اتفاق افتاده است.
- ۱۰- با توجه به متن داده شده زیر «هنجار و ارزش» را مشخص کرده و در جدول داده شده بنویسید. (آذربایجان غربی خرداد ۹۵)

«ماشین حامل کاوشگران باستان‌شناسی بعد از طی مسافتی طولانی به قلعه اورارتویی بسطام، رسید. یکی از ریش‌سفیدان روستا (بسطام) که کنار جاده منتهی به قلعه ایستاده بود، موقع پیاده شدن آنان از ماشین، ۲ نفر از آنان، که قبلاً هم به این روستا آمده بودند را شناخت و به استقبال آنان رفت و گفت: لطفاً پیاده شوید و جهت استراحت به خانه ما تشریف بیاورید، سپس آنان را به خانه خود برد و از آنان به گرمی پذیرایی کرد...»

ردیف	هنجار	ارزش
۱		
۲		

- ۱۱- در متن زیر «هنجار - نماد - ارزش» را مشخص کرده و در جدول زیر بنویسید. (خراسان رضوی خرداد ۹۵)

«من دانش‌آموز پایه نهم هستم. یک روز که با پدرم برای خرید به فروشگاه رفته بودیم، پدرم در مقابل تابلوی توقف ممنوع، پارک کرد. هرچند که احترام بزرگ‌ترها لازم است اما به پدرم گفتم: باید به قانون احترام گذاشت. ایشان هم ماشین را در جای مناسب پارک نمود. در فروشگاه سعی کردیم از خرید اضافه پرهیز نماییم و صرفه‌جویی را فراموش نکنیم.»

هنجار	ارزش	نماد
الف)	ب)	ج)





۱۲- در متن زیر «هنجار - نماد - ارزش» را مشخص کرده و در جدول زیر بنویسید.

«قایق به ساحل نزدیک می‌شد. یکی از سرنشینان قایق پرچمی را بالا برد. رئیس قبیله که روی ساحل ایستاده بود پرچم را شناخت و فهمید این گروه خودی است و به استقبال آن‌ها رفت و گفت: زود پیاده شوید، پناه دادن و کمک کردن به کسانی که با دشمن ما می‌جنگند، وظیفه ماست. پس از یک ساعت از مردان قبیله چنان‌که رسم آنجا بود با دست‌زدن و چرخیدن به دور مهمان‌ها، سینی‌های غذا را بر زمین گذاشتند...»

هنجار	ارزش	نماد
الف)	ب)	ج)

(اردبیل خرداد ۹۵)

۱۳- از عبارتهای زیر در جاهای خالی استفاده کنید. (یک مورد اضافی است.)

«نماد - اجتماعی شدن - فرهنگ - هنجار - ارزش»

- الف) فرآیند نخست در خانواده رخ می‌دهد.
 ب) شیوه مشترک زندگی در یک جامعه را می‌نامند.
 ج) طرز تلقی ما از خوب و بد، مثبت و منفی، زشت و زیبا و مطلوب و نامطلوب می‌باشد.
 د) رفتارهای معینی که در یک گروه یا جامعه پذیرفته شده و متداول اند نامیده می‌شوند.

(اصفهان و مازندران خرداد ۹۵)

۱۴- گزینه‌های سمت راست را به گزینه‌های مربوطه سمت چپ وصل کنید.

- | | |
|--|---------|
| الف) شیوه زندگی مشترک یک جامعه است. | ○ ارزش |
| ب) نشانه یا نماینده یک پدیده دیگر است. | ○ هنجار |
| ج) قواعد شیوه مورد قبول یک جامعه برای انجام کارهاست. | ○ فرهنگ |
| د) خوب و بد مطلوب یا نامطلوب دانستن امور. | ○ نماد |

(چهارمحال و بختیاری و قم خرداد ۹۵)



الف) ن				
ب) ر				
ج) ف				

(کرمان خرداد ۹۵)

- الف) تعارف کردن
 ب) علامت پرسش (?) و تعجب (!)
 ج) ماشا ا... گفتن هنگام دیدن کودک
 د) راست‌گویی
 ه) زود رنج بودن

۱۵- جدول زیر را کامل کنید.

- الف) نشانه یا نماینده یک پدیده دیگر است.
 ب) قواعد و شیوه‌های مورد قبول یک جامعه برای انجام کارهای مختلف
 ج) به‌طور کلی شیوه زندگی یک جامعه را می‌گویند.

۱۶- موارد مربوط را با خطی به هم وصل کنید.

- ۱) نماد
 ۲) هنجار
 ۳) ارزش
 ۴) عقاید

پاسخ سؤالات درست و نادرست

۵- ☒ - صفحه ۱۱۶

۴- ☒ - صفحه ۱۱۵

۳- ☒ - صفحه ۱۱۹

۲- ☒ - صفحه ۱۱۶

۱- ☒ - صفحه ۱۱۵

پاسخ سؤالات چهارگزینه‌ای

۵- گزینه ج - صفحه ۱۱۸

۶- گزینه الف

۳- گزینه ب - صفحه ۱۱۵

۴- گزینه ج

۱- گزینه ب - صفحه ۱۱۷

۲- گزینه د





پاسخ سؤالات کوتاه پاسخ

۱- خانواده- صفحه ۱۱۵

۲- نمادها - هنجارها - ارزش‌ها- عقاید- صفحه ۱۱۶

پاسخ سؤالات تشریحی

- ۱- فرهنگ شیوه مشترک زندگی در یک جامعه است. فرهنگ می‌تواند شامل باورها، اعتقادات، قوانین و اشتراکاتی که مردم در جامعه دارند باشد. فرهنگ را آگاهی و اندیشه مشترک اعضای یک جامعه نیز می‌گویند. - صفحه ۱۱۴
- ۲- الف) لایه‌های خارجی یا بیرونی نماد - هنجار (ب) ارزش- عقاید
- ۳- ۱- اعتقاد به آن‌ها ۲- حفظ آبرو و احترام ۳- ترس از مجازات- صفحه ۱۱۶
- ۴- ارزش یعنی اینکه ما، اموری را خوب، مطلوب و مثبت تلقی کنیم. برای مثال راست‌گویی خوب و دروغ‌گویی بد است. ارزش‌ها زمینه شکل‌گیری هنجارها را ایجاد می‌کنند و جهت دهنده رفتارها هستند. افراد بر مبنای ارزش‌هایی که به آن معتقدند عمل می‌کنند. برای مثال اگر کسی پرهیز از اسراف را کار خوب و درستی می‌داند و آن را ارزش تلقی می‌کند در عمل هم از اسراف پرهیزد، هنجارش طبق این ارزش بوده است. - صفحه ۱۱۸
- ۵- ارزش‌های انسانی و اجتماعی آن دسته از ارزش‌ها هستند که همه انسان‌ها یا اغلب افراد یک جامعه آن را خوب و مطلوب می‌دانند مانند شجاعت، صداقت، کمک به دیگران، احترام به سالمندان و دفاع از کشور- صفحه ۱۱۸
- ۶- ۱) پیشرفت‌های صنعتی و فناوری (۲) رسانه‌های جمعی (تلویزیون و ماهواره) (۳) نفوذ فرهنگی بیگانگان و کشورهای سلطه‌گر- ص ۱۱۹

- ۷- تضعیف روابط اجتماعی- فروریختن ارزش‌های خانوادگی- از بین رفتن قبح برخی کارها- کم شدن فضای گفتگو و ... - صفحه ۱۱۹
- ۸- اجتماعی شدن فرآیندی طولانی‌مدت از تولد تا آخر عمر است که افراد از طریق آن زندگی در جامعه را می‌آموزند و خود را با آن منطبق می‌کنند- صفحه ۱۱۵
- ۹- الف) هنجار (ب) ارزش
- ۱۰- هنجار: به استقبال مهمان رفتن
ارزش: دعوت به خانه و پذیرایی
- ۱۱- الف) احترام به قانون (ب) صرفه‌جویی (ج) تابلوی توقف ممنوع
- ۱۲- الف) غذا آوردن برای مهمان (دست زدن و چرخیدن) (ب) کمک کردن و پناه دادن (وظیفه ما است) (ج) پرچم
- ۱۳- الف) اجتماعی شدن (ب) فرهنگ
ج) ارزش (د) هنجار
- ۱۴- الف) فرهنگ- صفحه ۱۱۴ (ب) نماد- صفحه ۱۱۶
ج) هنجار- صفحه ۱۱۷ (د) ارزش- صفحه ۱۱۸
- ۱۵- الف) نماد- ص ۱۱۶ (ب) هنجار- ص ۱۱۷ (ج) فرهنگ- ص ۱۱۴
- ۱۶- ۱) گزینه ب - صفحه ۱۱۶ (۲) گزینه ج - صفحه ۱۱۸
۳) گزینه د- صفحه ۱۱۸ (۴) گزینه الف- صفحه ۱۱۸

درس ۱۸: هویت

سؤالات درست و نادرست

ردیف	سؤال	وضعیت
۱	ابعاد مختلف هویت هیچ‌گونه تأثیری بر هم ندارند.	<input type="checkbox"/> (اصفهان و ایلام خرداد ۹۵)
۲	ویژگی‌های هویتی (جنسیت، پدر و مادر، شکل و قیافه) جز ویژگی‌های انتسابی محسوب می‌شوند.	<input type="checkbox"/> (آذربایجان غربی خرداد ۹۵)
۳	برخی از صفات اخلاقی یا ویژگی‌های اجتماعی که ما آن‌ها را شکل می‌دهیم، انتسابی می‌باشند.	<input type="checkbox"/> (مرکزی خرداد ۹۵)
۴	یکی از مراتب هویت اجتماعی، هویت ملی است که به یک ملت مربوط می‌شود.	<input type="checkbox"/> (اردبیل خرداد ۹۵)
۵	ما در شکل‌گیری بعضی از ویژگی‌های هویتی خود نقشی نداریم.	<input type="checkbox"/> (البرز و همدان خرداد ۹۵)
۶	عضویت علی در گروه دوستان اشاره به هویت اجتماعی اوست.	<input type="checkbox"/> (خوزستان خرداد ۹۵)
۷	عمده‌ترین عناصر هویت یک ملت فرهنگ و تاریخ و سرزمین است.	<input type="checkbox"/> (س.و.ب خرداد ۹۵)
۸	ما در شکل‌گیری ویژگی‌های اکتسابی هویت خود نقشی نداریم.	<input type="checkbox"/> (فارس خرداد ۹۵)

سؤالات چهارگزینه‌ای (تستی)

- ۱- امیر دانش‌آموز خوش‌بین و پرتلاشی است. به همین دلیل در رشته‌های ورزشی همیشه نقش رهبر گروه را بر عهده دارد. مشخص کنید کدامیک از ابعاد هویتی او بر دیگری تأثیر داشته است؟
 (خراسان رضوی خرداد ۹۵)
- الف) اجتماعی بر فردی ب) جسمانی بر اخلاقی ج) اجتماعی بر جسمانی د) فردی بر اجتماعی
- ۲- بر اساس آثار تاریخی برای مردمی که در سرزمین ایران زندگی می‌کرده‌اند، کدام موضوع اهمیت داشته است؟
 (فارس خرداد ۹۵)
- الف) میراث فرهنگی ب) دین ج) حفظ مرزها و محدوده جغرافیایی د) زبان مشترک
- ۳- کدام مورد از عمده‌ترین عناصر هویت یک ملت نیست؟
 (الف) فرهنگ ب) دین ج) سرزمین د) تاریخ

سؤالات کوتاه پاسخ

- ۱- احساس و آگاهی و شناخت از خود را چه می‌گویند؟
 (البرز و فارس خرداد ۹۵)
- ۲- زبان مشترک فارسی، تاریخ طولانی و میراث فرهنگی غنی نشان‌دهنده چه نوع هویتی می‌باشد؟
 (زنجان خرداد ۹۵)
- ۳- به ویژگی‌های هویتی که ما در پیدایش آن‌ها نقش داریم چه می‌گویند؟
 (مازندران خرداد ۹۵)
- ۴- افراد با عضویت در گروه‌های مختلف اجتماعی، کدام بُعد هویتی خود را به دست می‌آورند؟
 (همدان خرداد ۹۵)
- ۵- تصاویر زیر کدام بُعد از هویت ما را نشان می‌دهند؟
 (همدان خرداد ۹۵)



تصویر ۲



تصویر ۱

(اصفهان خرداد ۹۵)

۶- کدام تصویر نشان دهنده مهم‌ترین عنصر تشکیل دهنده هویت ملی است؟ تصویر



تصویر ۳



تصویر ۲



تصویر ۱

(خراسان جنوبی خرداد ۹۵)

۷- تصاویر زیر کدامیک از عناصر هویت ملی (ویژگی‌های مشترک جامعه ایرانی) ما را نشان می‌دهد؟



تصویر ۲



تصویر ۱

سوالات تشریحی

(گیلان و هرمزگان خرداد ۹۵)

۱- منظور از «هویت» چیست؟

(تکرار ۳ استان)

۲- مریم مفهوم ویژگی انتسابی را نمی‌داند، شما با مثالی برای او شرح دهید؟

(هرمزگان و یزد خرداد ۹۵)

۳- ویژگی‌های اکتسابی را با ذکر مثال تعریف کنید.

(تکرار ۵ استان)

۴- ویژگی‌های انتسابی و ویژگی‌های اکتسابی هویت را با یکدیگر مقایسه کنید. همراه با ذکر مثال

(تکرار ۴ استان)

۵- مهم‌ترین ویژگی‌های مشترک جامعه ایرانی را نام ببرید.

۶- مائده و طاهای، می‌خواهند به یک دانش‌آموز اهل کشور پرتغال که به همراه خانواده‌اش جهت بازدید از مناطق باستانی، به ایران سفر کرده است، درباره ویژگی‌های هویت ایرانی توضیح دهند. شما هم به آن خواهر و برادر کمک کنید که حداقل به ۲ ویژگی مشترک جامعه ایرانی- که همه ما با آن‌ها شناخته می‌شویم- اشاره کنند.

(آذربایجان غربی خرداد ۹۵)

۷- علی می‌خواهد به یک ورزشکار خارجی که به ایران سفر کرده است درباره ویژگی‌های هویت ایران توضیح دهد به او کمک کنید به دو ویژگی هویت ایرانی اشاره کند.

(البرز خرداد ۹۵)

(ایلام خرداد ۹۵)

۸- به نظر شما آیا صحیح است که خود یا دیگران را به دلیل ویژگی‌های انتسابی سرزنش کنیم؟ چرا؟

(زنجان و مرکزی خرداد ۹۵)

۹- آیا ویژگی‌های هویتی ما تغییر می‌کنند؟ توضیح دهید.

(همدان خرداد ۹۵)

۱۰- آیا انسان می‌تواند هویت اجتماعی خود را تغییر دهد؟ چگونه؟

(تکرار ۶ استان)

۱۱- با توجه به شکل، عمده‌ترین عناصر هویت ملی را نام ببرید.



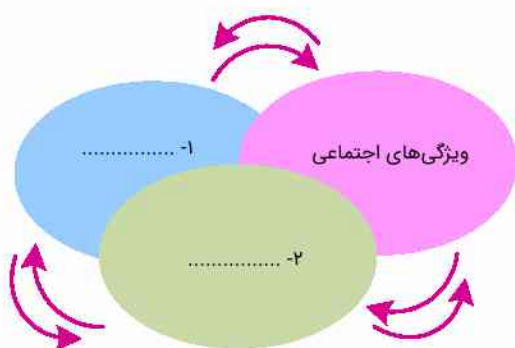
۱)

۲)

۳)

(اردبیل خرداد ۹۵)

۱۲- در شکل روبرو جاهای خالی را، در ارتباط با ابعاد مختلف هویت که بر یکدیگر اثر می‌گذارند کامل کنید.



-۱

-۲



(تکرار ۳ استان)

۱۳- ویژگی‌های اکتسابی و انتسابی زیر را در قسمت مربوطه بنویسید.

(مکان تولد- صفات اخلاقی- پدر و مادر - جنسیت - ویژگی‌های اجتماعی - شکل و قیافه - زودرنجی - پابندی به اخلاق دینی)

ویژگی‌های اکتسابی	ویژگی‌های انتسابی

پاسخ سؤالات درست و نادرست

- ۱- ۳- صفحه ۱۲۲
- ۲- صفحه ۱۲۲
- ۳- صفحه ۱۲۲
- ۴- صفحه ۱۲۳
- ۵- صفحه ۱۲۲
- ۶- صفحه ۱۲۱
- ۷- صفحه ۱۲۳
- ۸- صفحه ۱۲۲

پاسخ سؤالات چهارگزینه‌ای

- ۱- گزینه د
- ۲- گزینه ج - صفحه ۱۲۳
- ۳- گزینه ب - صفحه ۱۲۳

پاسخ سؤالات کوتاه پاسخ

- ۱- هویت- صفحه ۱۲۰
- ۲- هویت ایرانی- صفحه ۱۲۳
- ۳- اکتسابی- صفحه ۱۲۲
- ۴- اجتماعی- صفحه ۱۲۱
- ۵- تصویر ۱: هویت فردی - تصویر ۲: هویت اجتماعی- صفحه ۱۲۰
- ۶- تصویر ۱: سرزمین- صفحه ۱۲۳
- ۷- تصویر ۱: ما مسلمانیم- صفحه ۱۲۴ تصویر ۲: زبان مشترک ما فارسی است. - صفحه ۱۲۵

پاسخ سؤالات تشریحی

- ۱- عبارت است از احساس و آگاهی و شناخت از خود- صفحه ۱۲۰
- ۲- به ویژگی‌های هویتی که ما در پیدایش آن‌ها نقشی نداریم، ویژگی‌های انتسابی می‌گویند. مثال جنسیت، مکان تولد، پدر و مادر و شکل و قیافه خود. - صفحه ۱۲۲
- ۳- ما در بسیاری از ویژگی‌های خود نقش داریم برای مثال صفات اخلاقی یا ویژگی‌های اجتماعی را خود انتخاب می‌کنیم و به آن‌ها شکل می‌دهیم به ویژگی‌هایی که ما در به دست آوردن آن‌ها نقش داریم اکتسابی می‌گویند. - صفحه ۱۲۲
- ۴- به ویژگی‌های هویتی که ما در پیدایش آن‌ها نقشی نداریم، ویژگی‌های انتسابی می‌گویند؛ مانند: جنسیت، مکان تولد، پدر و مادر، شکل و قیافه
- به ویژگی‌های هویتی که ما در به دست آوردن آن نقشی داریم، ویژگی‌های اکتسابی می‌گویند، مانند: برخی صفات اخلاقی، ویژگی‌های اجتماعی- صفحه ۱۲۲
- ۵- و ۶- (۱) ما مسلمانیم (۲) زبان مشترک ما فارسی است. (۳) ما در سرزمین ایران زندگی می‌کنیم. (۴) ما تاریخ طولانی و میراث فرهنگی غنی داریم. (۵) انقلاب اسلامی نمایانگر آرمان‌های والای جامعه ماست. - صفحه ۱۲۳ تا ۱۲۵
- ۷- ۱- دین اسلام ۲- تاریخ و سرنوشت مشترک و میراث فرهنگی غنی ۳- زبان فارسی ۴- آرمان‌های انقلاب اسلامی ۵- سرزمین ایران- صفحه ۱۲۵ تا ۱۲۳
- ۸- خیر، زیرا خداوند ما انسان‌ها را با ویژگی‌های مختلفی آفریده است، از طرفی ما در ایجاد این ویژگی‌ها هیچ نقشی نداریم. - ص ۱۲۲
- ۹- برخی تغییر نمی‌کند و ثابت‌اند مانند سن و تاریخ تولد، اما برخی ویژگی هویتی همواره در حال تغییرند (برای مثال، یک فرد فقیر به فردی پر درآمد، یک بی‌سواد به آدمی باسواد و تحصیل کرده یا فردی که چندان به اخلاق دینی پایبند نیست با تلاش و کوشش به فردی باتقوا تبدیل گردد). - صفحه ۱۲۲
- ۱۰- بله- با سعی و تلاش و عضویت در گروه‌های اجتماعی و یا اقدامات منفی و... - صفحه ۱۲۲
- ۱۱- فرهنگ، تاریخ (زمان) و سرزمین (مکان) - صفحه ۱۲۳
- ۱۲- (۱) ویژگی‌های روانی و اخلاقی (۲) ویژگی‌های جسمانی- صفحه ۱۲۲
- ۱۳- ویژگی‌های اکتسابی: ۱- صفات اخلاقی ۲- ویژگی‌های اجتماعی ۳- زودرنجی ۴- پابندی به اخلاق دینی
- ویژگی‌های انتسابی: ۱- جنسیت ۲- شکل و قیافه ۳- مکان تولد ۴- پدر و مادر- صفحه ۱۲۲





درس ۱۹: کارکردهای خانواده

سوالات درست و نادرست

ردیف	سؤال	وضعیت
۱	یکی از مهم‌ترین کارکردهای خانواده در طول تاریخ، فرزند آوری بوده است.	<input type="checkbox"/> (اردبیل خرداد ۹۵)
۲	بنیان خانواده بر تربیت است.	<input type="checkbox"/> (س.وب خرداد ۹۵)
۳	«خانواده» مهم‌ترین کانون حمایت و مراقبت عاطفی از افراد است.	<input type="checkbox"/> (ادریاجان غربی خرداد ۹۵)
۴	خانواده‌ها تنها از طریق تشویق رفتارهای پسندیده فرزندان، می‌توانند ارزش‌ها و هنجارهای جامعه را به کودکان بیاموزد.	<input type="checkbox"/> (چهارمحال و بختیاری خرداد ۹۵)
۵	والدین تنها مسئول رفع نیازهای عاطفی و زیستی و معیشتی فرزندان خود هستند.	<input type="checkbox"/> (یزد و مرکزی خرداد ۹۵)
۶	واحد بنیادین جامعه و کانون رشد و تعالی انسان خانواده است.	<input type="checkbox"/> (فارس خرداد ۹۵)

سوالات چهارگزینه‌ای (تستی)

- کدام‌یک از روش‌های زیر برای اجتماعی کردن اعضای خانواده، مناسب‌تر است؟
 (الف) گفت و گو (ب) تشویق (ج) تنبیه (د) به‌تناسب شرایط
 (اصفهان خرداد ۹۵)
- اگر خانواده «دلایل خوبی و بدی رفتارها را برای فرزندان خود بازگو کند» به کدام روش اجتماعی کردن متوسل شده است؟
 (الف) گفت‌وگو (ب) تشویق (ج) تنبیه (د) وفاداری
 (ایلام خرداد ۹۵)
- اولین شرط بقای هر جامعه‌ای چیست؟
 (الف) جمعیت (ب) امنیت (ج) حمایت اقتصادی (د) محبت و مراقبت عاطفی
 (تکرار ۵ استان)
- کدام جمله در مورد تأثیر فرزندآوری و تجدید نسل صحیح نیست؟
 (الف) توسعه و استحکام خانواده (ب) تقویت بنیان خانواده
 (ج) نشاط و سرزندگی اعضای خانواده (د) ناسازگاری بین زن و مرد
 (فارس خرداد ۹۵)

سوالات کوتاه پاسخ

- هدف ازدواج (نکاح) چیست؟
 (گیلان خرداد ۹۵)
- مهم‌ترین کانون حمایت و مراقبت عاطفی از افراد کدام نهاد است.
 (البرز خرداد ۹۵)
- اگر خانواده‌ای با خودداری از صحبت کردن، رفتار ناپسند فرزندش را به او گوشزد کند از چه روش جامعه‌پذیری استفاده کرده است؟

سوالات تشریحی

- مهم‌ترین کارکردهای خانواده را بنویسید.
 (تکرار ۵ استان)
- یکی از کارکردهای اساسی خانواده تربیت اعضای خانواده است. این مورد را توضیح دهید.
 (زنجان خرداد ۹۵)





(تکرار ۴ استان)

۳- چرا اجتماعی شدن یا جامعه پذیری هم نیاز فرد و هم نیاز جامعه است؟

(تکرار ۳ استان)

۴- خانواده‌ها با چه روش‌هایی اعضای خانواده را «اجتماعی» می‌کنند؟

(البرز خرداد ۹۵)

۵- مزایا و معایب خانه‌های سالمندان را در مراقبت از بعضی از اعضای خانواده بنویسید.

(البرز خرداد ۹۵)

۶- مزایا و معایب مؤسسات مهدکودک را در مراقبت از فرزندان بنویسید.

۷- دو مورد از دلایل اهمیت فرزندآوری را بنویسید.

۸- مشخص کنید فرآیند جامعه‌پذیری در هر کدام از شرایط زیر به صورت مستقیم یا غیر مستقیم است؟

الف) آموزش حجاب از طریق تلویزیون

ب) نماز خواندن با توجه به رفتار پدر

ج) تأکید والدین بر احترام گذاشتن به بزرگ‌ترها با گفتگو

پاسخ سؤالات درست و نادرست

۵- - صفحه ۱۳۱

۶- - صفحه ۱۲۸

۳- - صفحه ۱۲۸

۴- - صفحه ۱۳۲

۱- - صفحه ۱۲۸

۲- - صفحه ۱۲۸

پاسخ سؤالات چهارگزینه‌ای

۳- گزینه الف - صفحه ۱۲۸

۴- گزینه د - صفحه ۱۲۸

۱- گزینه د

۲- گزینه الف - صفحه ۱۳۲

پاسخ سؤالات کوتاه پاسخ

۲- خانواده - صفحه ۱۲۹

۳- تنبیه - صفحه ۱۳۲

۱- هدف نکاح تشکیل خانواده است. - صفحه ۱۲۸

پاسخ سؤالات تشریحی

۱- ۱- فرزندآوری و تجدید نسل ۲- حمایت و مراقبت عاطفی و

اقتصادی ۳- جامعه‌پذیری و تربیت اعضای خانواده - صفحه ۱۲۸

۲- والدین نه تنها مسئول رفع نیازهای عاطفی و زیستی و معیشتی

فرزندان هستند بلکه وظیفه مهم تربیت اخلاقی، معنوی و دینی آن‌ها

را نیز بر عهده دارند. یک خانواده سالم می‌تواند در دامان خود فرزندان

مؤمن پرهیزگار و پایبند به اصول اخلاقی تربیت کند. - صفحه ۱۳۱

۳- زیرا هم باعث شکل‌گیری هویت و شخصیت افراد می‌شود و هم

موجب تداوم جامعه می‌گردد. - صفحه ۱۳۰

۴- گفتگو- تشویق- تنبیه - صفحه ۱۳۲

۵- مزایا: گرفتن مراقبت‌های درمانی و بهداشتی به صورت منظم-

داشتن هم‌نشین و درد و دل کردن با آن‌ها و ...

معایب: مانع انتقال تجربیات از نسلی به نسل دیگر می‌شود- دچار

خلاء عاطفی می‌شوند- مرگ زودرس و ... - صفحه ۱۳۰

۶- مزایا: یادگرفتن کارهای گروهی- اجتماعی شدن کودک - فرصت

فعالیت اقتصادی بیشتر والدین و ...

معایب: دور بودن کودک از کانون خانواده- گاهی تحت تأثیر

هنجارهای متناقض با خانواده قرار می‌گیرد- نیاز عاطفی کودک در

خانه تأمین نمی‌شود و ... - صفحه ۱۳۰

۷- تقویت بنیان خانواده - تداوم نسل انسان- صفحه ۱۲۸

۸- الف) مستقیم ب) غیرمستقیم ج) مستقیم





درس ۲۰: آرامش در خانواده

سوالات درست و نادرست

ردیف	سؤال	وضعیت
۱	از نظر اسلام مهم‌ترین عامل در انتخاب همسر ایمان و اعتقادات دینی است.	<input type="checkbox"/> (اصفهان و کرمانشاه خرداد ۹۵)
۲	اطاعت از والدین، رعایت اخلاق و خودداری از بی‌احترامی به آن‌ها در هر شرایطی واجب است.	<input type="checkbox"/> (تکرار ۳ استان)
۳	امروزه خانواده‌ها نقش بیشتری در همسرگزینی فرزندان خود نسبت به گذشته دارند.	<input type="checkbox"/> (فارس و چهارمحال و بختیاری خرداد ۹۵)
۴	از عوامل مهم بروز ناسازگاری در خانواده، انتخاب نادرست همسر است.	<input type="checkbox"/> (س. و ب. خرداد ۹۵)
۵	اگر اختلاف سلیقه والدین و فرزندان به‌خوبی مدیریت شود، به رشد و کمال اعضای خانواده می‌انجامد.	<input type="checkbox"/> (فارس خرداد ۹۵)
۶	کمک‌های مالی به خویشاوندان نیز جزء صله ارحام محسوب می‌شود.	<input type="checkbox"/> (مرکزی خرداد ۹۵)

سوالات چهارگزینه‌ای (تستی)

- ۱- بنا به توصیه صاحب‌نظران، معیار نادرستی در انتخاب همسر به شمار می‌رود.
 الف) اعتقادات دینی ب) تحصیلات و اخلاق ج) زیبایی ظاهری و ثروت د) روحیات و وضعیت خانوادگی
 (آذربایجان شرقی خرداد ۹۵)
- ۲- کدام‌یک از موارد زیر از پیامدهای نامطلوب تک‌فرزندی محسوب نمی‌شود؟
 الف) رشد اجتماعی کودک کاهش می‌یابد. ب) از داشتن هم‌بازی محروم می‌شود.
 ج) از لذت ارتباطات وسیع‌تر خانوادگی برخوردار می‌شوند. د) از حمایت و محبت خواهر و برادر محروم می‌شوند.
 (خراسان جنوبی خرداد ۹۵)
- ۳- مهم‌ترین هدف ازدواج از دیدگاه قرآن چیست؟
 الف) فرزند پروری ب) برقراری آرامش ج) رسیدن به خدا د) دستور دین خدا
 (س. و ب. خرداد ۹۵)
- ۴- کدام عامل زیر از نظر اسلام در همسرگزینی، اهمیت بیشتری دارد؟
 الف) ثروت زیاد خانواده همسر ب) تحصیلات همسر
 ج) قیافه همسر د) ایمان و اعتقادات دینی و اصالت خانواده
 (همدان خرداد ۹۵)
- ۵- کاهش رشد اجتماعی فرزندان و محروم ماندن آنان از برادر و خواهر، از پیامدهای کدام مورد زیر است؟
 الف) اعتیاد پدر ب) فقیر شدن خانواده ج) تک‌فرزندی د) جنگ در کشور
 (همدان خرداد ۹۵)
- ۶- خانواده متعادل به خانواده‌ای گفته می‌شود که بتواند
 الف) وظایف خود را به‌خوبی انجام دهد ب) به رفع نیاز مادی بپردازد
 ج) به اعضای خانواده محبت کند د) همه مستقل از هم باشند
 (زنجان خرداد ۹۵)
- ۷- یکی از عواملی که موجب سازگاری و آرامش در خانواده می‌شود، کدام گزینه است؟
 الف) تعداد فرزندان ب) انتخاب صحیح همسر ج) وضع اقتصادی مناسب د) رعایت حقوق فرزندان
 (مرکزی خرداد ۹۵)
- ۸- کدام‌یک از عوامل زیر موجب ناسازگاری زن و مرد نمی‌شود؟
 الف) انتخاب نادرست همسر ب) تفاوت‌های فردی ج) گفت‌وگو و پیدا کردن راه‌حل د) تعارض بین نقش‌ها
 (گلستان خرداد ۹۵)





سؤالات کوتاه پاسخ

- ۱- از نظر قرآن کریم، مهم‌ترین هدف ازدواج چیست؟
- ۲- اولین گام در راه تشکیل یک خانواده متعادل و سالم توجه به چه موردی است.
- ۳- انتخاب نادرست و تفاوت تربیت خانوادگی، مهم‌ترین عوامل بروز چه مشکلی بین زن و شوهر است؟
- ۴- از دیدگاه اسلام مهم‌ترین عاملی که باید در همسرگزینی به آن توجه کرد چیست؟
- ۵- با توجه به متن زیر بیان کنید این اقدام خانواده محسن نشانه توجه به کدام سفارش دین اسلام است.

(آذربایجان غربی خرداد ۹۵)
(قم و گیلان خرداد ۹۵)
(همدان خرداد ۹۵)
(فارس و ایلام خرداد ۹۵)
(اصفهان خرداد ۹۵)

خانواده محسن به دلیل کار در کارخانه ساکن شهر شده‌اند. ولی در روزهای تعطیل از شهر به روستای خود می‌روند و به دید و بازدید از اقوام، فامیل و پدر و مادر خود می‌پردازند.....

سؤالات تشریحی

- ۱- دیدگاه اسلام در مورد «انتخاب همسر» چیست؟
- ۲- مهم‌ترین عواملی که موجب ناسازگاری بین زن و مرد در خانواده می‌شود را بنویسید.
- ۳- چگونه می‌توان از بروز ناسازگاری بین زن و شوهر جلوگیری نمود؟
- ۴- به عقیده صاحب‌نظران تک‌فرزندی چه پیامدهای نامطلوب برای خانواده و جامعه دارد؟
- ۵- در رابطه با تکالیف فرزندان نسبت به پدر و مادر جملات زیر را کامل کنید:
الف) فرزندی که پدر و مادر از او ناراضی باشد
ب) اطاعت والدین تنها در صورتی جایز نیست که
- ۶- به نظر شما، چه عواملی موجب ناسازگاری والدین و فرزندان می‌شوند؟
- ۷- در مواقع بروز مشکلات و حوادث اعضای خانواده چه وظایفی دارند؟
- ۸- واژه «صله ارحام» به چه معناست؟
- ۹- منظور از صله ارحام چیست؟
- ۱۰- به نظر شما صله ارحام برای خانواده‌ها چه فوایدی دارد؟
- ۱۱- صله ارحام چگونه می‌تواند مشکلات خانواده را کاهش دهد؟
- ۱۲- حمید دچار معلولیت جسمی است، خانواده او چه کمکی می‌توانند به او بکنند؟

(گلستان خرداد ۹۵)
(البرز خرداد ۹۵)
(تکرار ۵ استان)
(تکرار ۱۰ استان)
(آذربایجان شرقی خرداد ۹۵)
(تکرار ۲ استان)
(تکرار ۳ استان)
(تکرار ۵ استان)
(قم و خراسان رضوی خرداد ۹۵)
(تکرار ۵ استان)
(خراسان رضوی خرداد ۹۵)





پاسخ سؤالات درست و نادرست

- ۱- صفحه ۱۳۳
- ۲- اطاعت از والدین در صورتی که به گناه و نافرمانی از خدا دستور دهند جایز نیست. صفحه ۱۳۶

پاسخ سؤالات چهارگزینه‌ای

- ۱- گزینه ج - صفحه ۱۳۳
- ۲- گزینه ج - صفحه ۱۳۵
- ۳- گزینه ب - صفحه ۱۳۳
- ۴- گزینه د - صفحه ۱۳۳
- ۵- گزینه ج - صفحه ۱۳۵
- ۶- گزینه الف - صفحه ۱۳۳

پاسخ سؤالات کوتاه پاسخ

- ۱- برقراری آرامش و محبت بین زن و مرد- صفحه ۱۳۳
- ۲- دقت در انتخاب همسر یا همسرگزینی- صفحه ۱۳۳
- ۳- ناسازگاری- صفحه ۱۳۴

پاسخ سؤالات تشریحی

- ۱- ایمان و اعتقادات دینی افراد است. اسلام همچنین به اصالت خانواده تأکید کرده است؛ یعنی فردی که به‌عنوان همسر انتخاب می‌شود، در خانواده‌ای صالح و اهل ایمان و تقوا پرورش یافته باشد. - صفحه ۱۳۳
- ۲- انتخاب نادرست همسر - عدم شناخت از حقوق و تکالیف متقابل- داشتن هنجارها و ارزش‌های متفاوت به علت پرورش در دو محیط جداگانه - وجود تفاوت فردی بین افراد- تعارض در انجام نقش‌ها- صفحه ۱۳۴
- ۳- آموزش خانواده قبل از ازدواج- مشاوره قبل از انتخاب همسر- رعایت اخلاق و آداب همسرمداری از سوی زن و شوهر- گفتگوی صمیمانه زن و شوهر با یکدیگر برای حل مشکلات و پیدا کردن راه حل مناسب و... - صفحه ۱۳۴
- ۴- تجربه اجتماعی شدن و رشد اجتماعی کودکان کاهش می‌باید- کودکان از داشتن همبازی محروم می‌شوند- رقابت‌ها و بازی‌ها و دعواهای کودکانه و الگوبرداری از رفتارهای خواهر و برادر شکل نمی‌گیرد- کودکان همواره با افراد بزرگسال در ارتباط‌اند- از لذت ارتباطات وسیع‌تر خانوادگی و حمایت و محبت بردار و خواهر محروم می‌شوند- فرزندان آن‌ها از داشتن عمو، خاله، عمه و دایی محروم می‌شوند. - صفحه ۱۳۵
- ۵- الف) از رحمت خدا دور می‌شود ب) به گناه و نافرمانی از خدا دستور دهد. - صفحه ۱۳۶
- ۶- کودکان با رسیدن به سن بلوغ و بزرگ شدن می‌خواهند نقش فعال‌تری در اجتماعی شدن داشته باشند اما ممکن است پدر و مادر

- ۳- در گذشته، خانواده‌ها نقش بیشتری در همسرگزینی فرزندان خود داشتند. صفحه ۱۳۳
- ۴- صفحه ۱۳۴
- ۵- صفحه ۱۳۷
- ۶- صفحه ۱۳۸

- ۷- گزینه د - صفحه ۱۳۳
- ۸- گزینه ج - صفحه ۱۳۶

- ۴- ایمان و اعتقاد دینی- اصالت خانواده- صفحه ۱۳۳
- ۵- صله ارحام

- این تغییرات را جدی نگیرند. فرزندان در دوران زندگی خود با محیط‌ها و افراد دیگری به‌جز خانه و خانواده آشنا می‌شوند و شیوه‌هایی غیر از آنچه آموخته‌اند آشنا می‌شوند و تحت تأثیر دوستان و همسالان و فشار هنجاری آن‌ها قرار می‌گیرند این اختلاف ارزش‌ها و هنجارها ممکن است موجب ناسازگاری شود. - صفحه ۱۳۶
- ۷- اعضای خانواده باید با توکل به خدا، صمیمیت و همکاری بین خود را بیشتر کنند - با در پیش گرفتن صبر و شکیبایی و دعوت یکدیگر به صبر این مشکلات را مدیریت کنند و نگذارند که خانواده دچار بحران شود و آسیب ببیند. - صفحه ۱۳۸
 - ۸- واژه صله از وصل گرفته شده و به معنای اتحاد و پیوستگی است و ارحام یعنی خویشان و نزدیکان- صفحه ۱۳۸
 - ۹- منظور از صله ارحام این است که افراد به دیدار و بازدید خویشاوندان خود بروند و از حال یکدیگر خبر بگیرند. - صفحه ۱۳۸
 - ۱۰- خویشاوندان به دیدار یکدیگر بروند و از احوال هم باخبر شوند- مهر و محبت- کمک مالی به خویشاوندان- مقدم دانستن خویشاوندان بر دیگران- صفحه ۱۳۸
 - ۱۱- زیاد شدن مهر و محبت، آگاهی از اوضاع و احوال- آگاهی از مشکلات احتمالی خانواده‌ها، افزایش روحیه خانواده‌ها و... - صفحه ۱۳۸
 - ۱۲- مهر و محبت افزایش می‌یابد یا می‌توان به خویشاوندان کمک مالی کرد. - صفحه ۱۳۸
 - ۱۳- با صبوری در انجام کارهای روزانه به حمید کمک کنند- در تفریح‌ها و سرگرمی‌هایشان او را مشارکت دهند و... - صفحه ۱۳۹





درس ۲۱: نهاد حکومت

سؤالات درست و نادرست

ردیف	سؤال	وضعیت
۱	بر طبق قانون اساسی، مهم‌ترین رکن حکومت جمهوری اسلامی ایران «قوه مجریه» می‌باشد.	<input type="checkbox"/> (تکرار ۳ استان)
۲	اسلام وجود حکومت را برای جامعه ضروری می‌داند.	<input type="checkbox"/> (خراسان جنوبی خرداد ۹۵)
۳	دو رکن قوه مقننه، ریاست جمهوری و شورای نگهبان است.	<input type="checkbox"/> (سن و ب خرداد ۹۵)
۴	رهبری در جمهوری اسلامی ایران بر پایه ولایت فقیه است.	<input type="checkbox"/> (قم خرداد ۹۵)
۵	تشکیل شوراهای اسلامی شهر و روستا با هدف همکاری مردم برای پیشبرد برنامه‌ها به وجود آمده‌اند.	<input type="checkbox"/> (مرکزی خرداد ۹۵)
۶	فرماندهی کل نیروهای مسلح از وظایف دولت‌ها است.	<input type="checkbox"/> (گلستان خرداد ۹۵)

سؤالات چهارگزینه‌ای (تستی)

- ۱- کدام یک از موارد زیر جزء وظایف حکومت ما نیست.
- (الف) تهیه و تصویب قوانین
(ب) مدیریت منابع طبیعی و ثروت‌های عمومی
(ج) تعلیم و تربیت و حفظ میراث فرهنگی
(د) هماهنگی روابط سه قوه
- ۲- مهم‌ترین رکن در میان ارکان حکومت جمهوری اسلامی ایران کدام است؟
- (الف) قوه مقننه
(ب) قوه قضائیه
(ج) قوه مجریه
(د) رهبری
- ۳- نوع حکومت ما «جمهوری اسلامی» است. کلمه جمهوری نشان‌گر کدام مورد زیر است؟
- (الف) ولایت فقیه
(ب) حکومت دینی
(ج) حق انتخاب و مشارکت مردم در حکومت
(د) انقلاب
- ۴- تعیین سیاست‌های کلی نظام و نظارت بر حسن اجرای آن از وظایف می‌باشد.
- (الف) قوه مقننه
(ب) قوه مجریه
(ج) قوه قضائیه
(د) رهبری
- ۵- طبق قانون اساسی جمهوری اسلامی ایران، «نصب و عزل و قبول استعفای فقهای شورای نگهبان» از مهم‌ترین وظایف و اختیارات چه کسی محسوب می‌شود؟
- (الف) رئیس قوه قضائیه
(ب) رئیس‌جمهور
(ج) رهبر
(د) رئیس مجلس شورای اسلامی
- ۶- رهبری در حکومت جمهوری اسلامی ایران بر پایه است.
- (الف) قانون اساسی
(ب) مدیریت اسلام
(ج) ولایت فقیه
(د) عدالت
- ۷- عفو یا تخفیف مجازات محکومان در کشور ما، از وظایف کدام مقام زیر است؟
- (الف) رئیس‌مجلس
(ب) رهبری
(ج) رئیس قوه قضائیه
(د) رئیس‌جمهور





سؤالات کوتاه پاسخ

- ۱- اعضای شوراهای اسلامی شهر و روستا را چه کسانی انتخاب می‌کنند؟ (تکرار ۴ استان)
- ۲- در جهان بینی توحیدی حق حاکمیت بر موجودات، فقط از آنچه کسی است؟ (تکرار ۳ استان)
- ۳- مهم‌ترین رکن حکومت جمهوری اسلامی است؟ (تکرار ۳ استان)
- ۴- در حکومت ما، نصب و عزل فقهای شورای نگهبان از وظایف کیست؟ (خوزستان خرداد ۹۵)

سؤالات تشریحی

- ۱- چند مورد از مهم‌ترین وظایف حکومت‌ها را نام ببرید؟ (تکرار ۴ استان)
- ۲- مهم‌ترین وظایف و اختیارات رهبر جمهوری اسلامی، بر اساس قانون اساسی کشور را بیان کنید. (تکرار ۷ استان)
- ۳- هدف از تشکیل شوراهای اسلامی شهر و روستا، چیست؟ (خراسان جنوبی و خوزستان خرداد ۹۵)
- ۴- دیدگاه اسلام در مورد ماهیت حکومت چیست؟ (البرز خرداد ۹۵)
- ۵- حکومت جمهوری اسلامی چه ویژگی‌هایی دارد؟ (البرز و مازندران خرداد ۹۵)
- ۶- حکومت جمهوری اسلامی، به چه نوع حکومتی می‌گویند؟ (گیلان خرداد ۹۵)
- ۷- چرا «حق حاکمیت بر انسان‌ها» از آن خداست؟ (یزد و گلستان خرداد ۹۵)
- ۸- طبق اصل پنجم قانون اساسی ولایت و رهبری در جمهوری اسلامی بر عهده چه کسی باید باشد؟ (همدان و س. و ب. خرداد ۹۵)
- ۹- معنی ولایت چیست؟ حکومت ولایت‌فقیه چگونه اداره می‌شود؟ (زنجان خرداد ۹۵)
- ۱۰- نمودار «قوای تحت نظارت رهبری» را کامل کنید. (قم خرداد ۹۵)



- ۱۱- در حکومت جمهوری اسلامی ایران، هر یک از قوای سه‌گانه وظایفی برعهده دارند؛ همچنین هرکدام از ارکان مختلفی تشکیل شده‌اند. در کادر زیر، هر یک از وظایف و ارکان را با خط به قوه مربوط به خود وصل کنید. (فارس خرداد ۹۵)

وظایف قوای سه‌گانه	قوای سه‌گانه	ارکان قوای سه‌گانه
اجرای قوانین	قوه مقننه	دیوان عالی کشور
رسیدگی به اختلافات	قوه مجریه	مجلس شورای اسلامی
وضع قوانین	قوه قضاییه	وزارتخانه‌ها





پاسخ سؤالات درست و نادرست

- ۱- مهم‌ترین رکن حکومت جمهوری اسلامی رهبری است. - صفحه ۱۴۴
- ۲- صفحه ۱۴۳

پاسخ سؤالات چهارگزینه‌ای

- ۱- گزینه د - صفحه ۱۴۲
- ۲- گزینه د - صفحه ۱۴۴
- ۳- گزینه ج - صفحه ۱۴۴
- ۴- گزینه د - صفحه ۱۴۶

پاسخ سؤالات کوتاه پاسخ

- ۱- مردم منطقه یا محل - صفحه ۱۴۷

پاسخ سؤالات تشریحی

- ۱- ۱) وضع قوانین و مقررات لازم در امور مختلف (۲) اجرای قوانین (۳) برقراری نظم و امنیت (۴) رسیدگی به اختلافات و شکایات (۵) تعلیم و تربیت (۶) حفظ میراث فرهنگی (۷) سیاست‌گذاری فرهنگی (۸) عمران و آبادانی کشور (۹) دفاع از کشور (۱۰) مدیریت منابع طبیعی و ثروت‌های عمومی (۱۱) حمایت از گروه‌های خاص و نیازمندان - ص ۱۴۲
- ۲- ۱) تعیین سیاست‌های کلی نظام و نظارت بر حسن اجرای آن‌ها (۲) فرماندهی کل نیروهای مسلح (۳) نصب و عزل و قبول استعفا فقه‌های شورای نگهبان، رئیس قوه قضائیه، رئیس سازمان صداوسیما و فرماندهان نیروهای نظامی و انتظامی و سپاه پاسداران انقلاب اسلامی (۴) عفو یا تخفیف مجازات محکومان - صفحه ۱۴۶
- ۳- شورای اسلامی با هدف همکاری مردم برای پیشبرد برنامه‌های اجتماعی، فرهنگی، اقتصادی و عمرانی با توجه به شرایط و مقتضیات هر منطقه از کشور تشکیل می‌شوند. - صفحه ۱۴۷
- ۴- اسلام وجود حکومت را برای جامعه ضروری می‌داند و در جهان‌بینی توحیدی حق مالکیت مطلق همه موجودات فقط از آن خداست. حکومت حق انحصاری خداوند است اما برای اداره امور جامعه، فقط آن گروه از مردم شایستگی دارند مجری قوانین باشند که هم با ایمان و با تقوا و عادل باشند. - صفحه ۱۴۳
- ۵- بنیان‌گذار این نوع حکومت امام خمینی (ره) است. زمامدار آن نیز باید مؤمن و معتقد به اسلام و متعهد به اجرای آن باشند در این

- ۳- نمایندگان و اعضای شورای نگهبان - صفحه ۱۴۵
- ۴- صفحه ۱۴۴
- ۵- صفحه ۱۴۷
- ۶- از وظایف رهبر است. صفحه ۱۴۶

- ۵- گزینه ج - صفحه ۱۴۶
- ۶- گزینه ج - صفحه ۱۴۴
- ۷- گزینه ب - صفحه ۱۴۶

- ۲- خداوند - صفحه ۱۴۳
- ۳- رهبری - صفحه ۱۴۴

- حکومت حق انتخاب و مشارکت مردم به رسمیت شناخته می‌شود و این حکومت، با اصول و قوانین اسلامی اداره می‌شود. - صفحه ۱۴۴
- ۶- حکومتی که در آن حق انتخاب و مشارکت مردم به رسمیت شناخته می‌شود و با اصول و قوانین اسلامی اداره می‌شود. - ص ۱۴۴
- ۷- زیرا خداوند انسان‌ها را آفریده است و اوست که به استعدادهای انسان آگاه است و می‌داند چه چیز موجب خوشبختی یا بدبختی او می‌شود. - صفحه ۱۴۴
- ۸- بر عهده فقیه - عادل - با تقوا - آگاه به زمان - شجاع - مدیر و مدبر - صفحه ۱۴۵
- ۹- ولایت به معنی سرپرستی است از دیدگاه اسلام فقط خدا می‌تواند بر انسان‌ها ولایت و حاکمیت داشته باشد پیامبران و امامان معصوم نیز از اطراف خداوند نمایندگی داشته‌اند که تا مردم را سرپرستی کنند. بر طبق اصل ۵ قانون اساسی در زمان غیبت امام زمان (عج) سرپرستی جامعه اسلامی بر عهده فقیه عادل، با تقوا، آگاه به زمان، شجاع و مدیر و مدبر است. - صفحه ۱۴۵
- ۱۰- الف) قوه مقننه ب) قوه قضائیه ج) قوه مجریه - صفحه ۱۴۵
- ۱۱- قوه مقننه: وضع قوانین- مجلس شورای اسلامی * قوه مجریه: اجرای قوانین- وزارتخانه‌ها * قوه قضائیه: رسیدگی به اختلافات- دیوان عالی کشور





درس ۲۲: حقوق و تکالیف شهروندی

سوالات درست و نادرست

ردیف	سؤال	وضعیت
۱	عوارض مبلغی است که شهروندان بر اساس قانون و بلاعوض به دولت پرداخت می‌کنند.	(آذربایجان شرقی و زنجان خرداد ۹۵) <input type="checkbox"/>
۲	حقوق و تکالیف شهروندی بین همه جوامع یکسان است.	(البرز خرداد ۹۵) <input type="checkbox"/>
۳	به مبلغی که شهروندان در مقابل دریافت خدمتی از دستگاه‌های اداری و دولتی، به آن‌ها می‌پردازند مالیات گفته می‌شود.	(خراسان جنوبی خرداد ۹۵) <input type="checkbox"/>
۴	واژه «شهروند» به روابط متقابل مردم و شهرداری اشاره دارد.	(قم خرداد ۹۵) <input type="checkbox"/>
۵	طبق اصل چهارم قانون اساسی رانندگی با سرعت غیرمجاز، تجاوز به حقوق دیگران محسوب می‌گردد.	(همدان خرداد ۹۵) <input type="checkbox"/>

سوالات چهارگزینه‌ای (تستی)

- ۱- «شرکت در انتخابات»، جزء کدامیک از حقوق و تکالیف شهروندی افراد، محسوب می‌شود؟
 الف) حق برخورداری از عدالت قضایی
 ب) حقوق فرهنگی
 ج) حق مشارکت سیاسی
 د) حق برخورداری از رفاه و تأمین اجتماعی
- ۲- دسترسی به آموزش و پرورش و مراکز فرهنگی و ورزشی جزء کدامیک از حقوق شهروندی است؟
 الف) برخورداری از عدالت قانونی
 ب) برخورداری از رفاه و تأمین اجتماعی
 ج) برخورداری از عدالت قضایی
 د) حقوق فرهنگی

سوالات کوتاه پاسخ

- ۱- این فرمایش رسول اکرم (ص) بر کدام حقوق شهروندی اشاره دارد.
 «امت‌های پیشین گرفتار و نابود شدند زیرا وقتی اشراف آن‌ها جرمی مرتکب می‌شدند آن‌ها را از مجازات معاف می‌کردند. اما وقتی زیر دستان آن‌ها جرمی را مرتکب می‌شدند آن‌ها را به شدت مجازات می‌کردند»
- ۲- به مبلغی که شهروندان بر اساس قانون و به صورت بلاعوض به دولت می‌پردازند چه می‌گویند.

سوالات تشریحی

- ۱- بر اساس قانون اساسی جمهوری اسلامی ایران، شهروندان چه حقوقی دارند؟
 (تکرار ۶ استان)
- ۲- هر شهروند در قبال حقوق شهروندی، تکالیف و تعهداتی نیز دارد، آن‌ها را فقط نام ببرید.
 (تکرار ۵ استان)
- ۳- راه‌های مشارکت سیاسی مردم را به عنوان تکالیف شهروندی بیان کنید.
 (تکرار ۳ استان)
- ۴- مشارکت سیاسی یعنی چه؟
 (کرمان خرداد ۹۵)





۵- «حق برخورداری از رفاه و تأمین اجتماعی» را به‌عنوان یکی از حقوق شهروندی تشریح کنید. با ذکر مثال. (ایلام خرداد ۹۵)

۶- یکی از حقوق شهروندان حق برخورداری از عدالت قضایی است در این باره توضیح دهید. (مازندران خرداد ۹۵)

۷- مفاهیم زیر را تعریف کنید:

(الف) مالیات: (کرمان و هرمزگان خرداد ۹۵)

(ب) عوارض: (گلستان خرداد ۹۵)

۸- مالیات و عوارض را با یکدیگر مقایسه کنید. (تکرار ۴ استان)

۹- برنامه‌ها و اقدامات عمرانی، اقتصادی و اجتماعی حکومت‌ها چه زمانی ثمر می‌دهد و به هدف می‌رسد؟ (چهارمحال و بختیاری خرداد ۹۵)

۱۰- چه موقعی قانون، جایگاه واقعی خود را پیدا می‌کند؟ (قم خرداد ۹۵)

۱۱- از میان موارد زیر، کدام حقوق شهروندی و کدام تکلیف شهروندی می‌باشند. (مرکزی و فارس خرداد ۹۵)

- | | |
|---------------------------------------|-----------------------------------|
| الف) برخورداری از عدالت قانونی | ب) پرداخت مالیات و عوارض |
| پ) تجاوز نکردن به منافع و حقوق دیگران | ت) داشتن رفاه و تأمین اجتماعی |
| ث) رعایت قوانین و مقررات | ج) دسترسی آسان به امکانات بهداشتی |
| چ) حمایت از تعلیم و تربیت شایسته | ح) دفاع از کشور |

۱۲- در جدول زیر نوع حقوق شهروندی را در هر مورد، از میان واژگان داده شده، انتخاب کرده و بنویسید. (یک مورد اضافه است) (خراسان رضوی خرداد ۹۵)

(عدالت قانونی - عدالت قضایی - تأمین اجتماعی - حقوق فرهنگی)

.....	الف) آزاد بودن تدریس ادبیات به زبان‌های قومی در مدارس
.....	ب) ایجاد زمینه‌های لازم برای رفع محرومیت در بین شهروندان
.....	ج) جلوگیری از بهره‌کشی ظالمانه عده‌ای از عده دیگر

۱۳- از بین حقوق شهروندی، حق برخورداری از عدالت قانونی را توضیح دهید.

پاسخ سؤالات درست و نادرست

- ۱- عوارض مبلغی است که در مقابل دریافت خدمات پرداخت می‌شود. - صفحه ۱۵۲
- ۲- حقوق و تکالیف شهروندی متناسب با قوانین، از کشوری به کشور دیگر متفاوت است. - صفحه ۱۴۸
- ۳- به مبلغی که در مقابل دریافت خدمات پرداخت می‌شود، عوارض می‌گویند. - صفحه ۱۵۲
- ۴- واژه شهروند به روابط متقابل مردم و حکومت اشاره دارد. - صفحه ۱۴۸
- ۵- - صفحه ۱۵۰

- ۱- عوارض مبلغی است که در مقابل دریافت خدمات پرداخت می‌شود. - صفحه ۱۵۲
- ۲- حقوق و تکالیف شهروندی متناسب با قوانین، از کشوری به کشور دیگر متفاوت است. - صفحه ۱۴۸

پاسخ سؤالات چهارگزینه‌ای

۱- گزینه ب - صفحه ۱۴۹

۶- گزینه ج - صفحه ۱۵۰

پاسخ سؤالات کوتاه پاسخ

۲- مالیات- صفحه ۱۵۲

۱- حق برخورداری از عدالت قضایی- صفحه ۱۴۹





پاسخ سؤالات تشریحی

۱- ۱) حق برخورداری از عدالت قانونی (تبعیض قائل نشدن در وضع و اجرا و نظارت قانون) - ۲) حق برخورداری از عدالت در دادگاهها - ۳) حق برخورداری از رفاه و تأمین اجتماعی (یعنی دسترسی آسان به بیمارستان و پارک و مراکز تفریحی و...) - ۴) حق مشارکت سیاسی (یعنی همه حق دارند در انتخابات شرکت کنند) - ۵) حقوق فرهنگی شامل (حق تشکیل خانواده، تعلیم و تربیت، آزاد بودن زبانهای محلی) - صفحه ۱۴۸ تا صفحه ۱۵۰

۲- ۱) رعایت قانون و مقررات - ۲) همکاری با دولت - ۳) پرداخت مالیات و عوارض - ۴) دفاع از کشور - صفحه ۱۵۱ تا صفحه ۱۵۲

۳- مشارکت سیاسی مردم ممکن است از راههای مختلفی چون شرکت در انتخابات، عضویت و همکاری در احزاب و انجمنهای سیاسی، شرکت در راهپیماییها و تظاهرات صورت بگیرد. - صفحه ۱۵۰

۴- یعنی اینکه هر شهروند بتواند در امور سیاسی جامعه دخالت کند و در سرنوشت کشور خود نقش داشته باشد. - صفحه ۱۵۰

۵- شهروندان حق دریافت خدمات عمومی به صورت برابر و عادلانه و در کوتاهترین زمان ممکن را دارند. شهروندان حق دارند در مواردی مانند بیکاری، معلولیت، پیری، بازنشستگی، بیسرپرستی، از کار افتادگی و حوادث از تأمین اجتماعی بهره‌مند شوند. هر شهروند حق دارد به آموزش و پرورش، مراکز فرهنگی و ورزشی، آتش‌نشانی، پلیس و نظایر آن دسترسی آسان داشته باشد. شهروندان حق دارند در محیطی پاک و سالم و بدون آلودگی زندگی کنند و از خدمات و امکانات بهداشتی و درمانی مناسب، به بهترین وجه برخوردار شوند. حکومت باید با برنامه‌ریزی مناسب، زمینه را برای رفع فقر و محرومیت و ایجاد شرایط مناسب زندگی فراهم کند. - صفحه ۱۴۹

۶- شهروندان حق دادخواهی دارند و هر کس می‌تواند به این منظور به دادگاههای صالح مراجعه کند. شهروندان حق دارند در همه دادگاهها برای خود وکیل مدافع انتخاب کنند. - صفحه ۱۴۹

۷- الف) مبلغی است که شهروندان بر اساس قانون به صورت بلاعوض به دولت پرداخت می‌کنند تا صرف هزینه‌های عمومی شود. ب) مبلغی است که شهروندان در مقابل دریافت خدماتی از دستگاه‌های اداری و دولتی به آنها می‌پردازند.

۸- مالیات مبلغی است که شهروندان بر اساس قانون و به صورت بلاعوض به دولت پرداخت می‌کنند تا صرف هزینه‌های عمومی کشور شود؛ اما عوارض مبلغی است که شهروندان در مقابل دریافت خدماتی از دستگاه‌های اداری و دولتی به آنها می‌پردازند.

۹- زمانی ثمر می‌دهد و به هدف می‌رسد که شهروندان نسبت به پیشرفت کشور دلسوز و حساس باشند و با دولت مشارکت و همکاری کنند. - صفحه ۱۵۱

۱۰- وقتی که همه افراد اعم از کارگزاران و مسئولان و مردم آن را رعایت کنند و به آن پایبند باشند. - صفحه ۱۵۱

۱۱- الف) حقوق شهروندی ب) تکلیف شهروندی
پ) تکلیف شهروندی ت) حقوق شهروندی
ث) تکلیف شهروندی ج) حقوق شهروندی
ج) حقوق شهروندی ح) تکلیف شهروندی

۱۲- الف) حقوق فرهنگی - صفحه ۱۵۰ ب) تأمین اجتماعی - صفحه ۱۴۹
ج) عدالت قانونی - صفحه ۱۴۸

۱۳- عدالت قانونی یعنی اینکه حکومت در وضع قوانین، اجرای قوانین و نظارت بر اجرای قوانین بین شهروندان تبعیض قائل نشود. - ص ۱۴۸

درس ۲۳: بهره‌وری چیست؟

سؤالات درست و نادرست

ردیف	سؤال	وضعیت
۱	صرفه‌جویی کم‌مصرف کردن نیست بلکه مصرف درست و به‌اندازه است.	<input type="checkbox"/>
۲	مدگرایی و مصرف‌زدگی و چشم و هم‌چشمی در خرید وسایل و لباس، از مصادیق بهره‌وری است.	<input type="checkbox"/>

سؤالات چهارگزینه‌ای (تستی)

- ۱- کار درست را با روش درست انجام دادن یعنی
الف) رفاه ب) توسعه ج) بهره‌وری د) رشد اقتصادی (اصفهان و ایلام خرداد ۹۵)
- ۲- انتخاب کنید کدام اقدام زیر از مصادیق بهره‌وری در زندگی محسوب نمی‌گردد؟
الف) خرید نان به اندازه نیاز ب) استفاده از آبیاری قطره‌ای در باغچه ج) خرید به اندازه نیاز د) روشن ماندن لامپ در روز (همدان خرداد ۹۵)





سؤالات تشریحی

- ۱- راهکارهای مهم برای افزایش بهره‌وری را در زندگی فردی و اجتماعی بنویسید. (تکرار ۱۰ استان)
- ۲- یکی از عادت‌های غلط دانش‌آموزان مصرف نادرست و بی‌رویه کاغذ است. چند راهکار برای بهره‌وری در مصرف کاغذ پیشنهاد کنید. (تکرار ۳ استان)
- ۳- دلیل بیاورید: آیا سطح بهره‌وری دانش‌آموزی که کیف یا کمد لوازمش شلوغ و نامرتب است پایین می‌رود؟ چرا؟ (البرز خرداد ۹۵)
- ۴- نظر شما دربارهٔ افرادی که می‌خواهند با کار نکردن یا کم کار کردن به ثروت یا موفقیت‌های بزرگ دست یابند چیست؟ (ایلام خرداد ۹۵)
- ۵- هر یک از هنجارهای زیر در جامعه چگونه از بهره‌وری جلوگیری می‌کند و تضاد با آن است؟
 الف) برپایی مجالس مفصل عروسی:
 ب) مُدگرایی و چشم و هم‌چشمی در خرید لباس به‌جای تمیز و ساده‌پوشی:
 ج) نداشتن برنامه مناسب برای اوقات فراغت و تفریح:
 د) ورزش نکردن و پرخوری:
 ۶- چند نمونه از تفکر بهره‌وری مردم در روزگار گذشته که برای بهبود کارها و استفاده بهتر از امکانات در زندگی داشته‌اند را نام ببرید؟ (تکرار ۳ استان)
- ۷- برای اینکه در کارها بهره‌وری بیشتری داشته باشیم چه باید بکنیم؟ (هرمزگان و اردبیل خرداد ۹۵)
- ۸- اصلاح عادت‌های غلط مصرفی چه تأثیری در بهره‌وری دارد؟ با مثال توضیح دهید. (زنجان خرداد ۹۵)
- ۹- منظور از تنظیم بودجه ماهانه خانواده چیست؟ (فارس و گلستان خرداد ۹۵)
- ۱۰- پدر علی مدتی است که از خودروی شخصی جهت طی کردن مسیر خانه تا محل کار استفاده نمی‌کند. او در برخی موارد از وسایل نقلیه عمومی و بعضی از روزها نیز پیاده مسیر را طی می‌کند. این کار چه نقشی در افزایش بهره‌وری در زندگی فردی او و چه تأثیر مثبتی برای شهر دارد؟ (فارس خرداد ۹۵)
- ۱۱- خانواده آقای عادل قصد سفر به رامسر را دارند، اما زمان و بودجه آن‌ها محدود است. دو راه مناسب را برای افزایش بهره‌وری و لذت بردن از یک سفر خوب، پیشنهاد کنید. (خراسان رضوی خرداد ۹۵)
- ۱۲- می‌دانید که منابع آب بسیار محدود می‌باشند. چند راهکار مهم برای افزایش بهره‌وری در مصرف آب به دوستان پیشنهاد دهید. (خوزستان خرداد ۹۵)
- ۱۳- ضمن یک مثال، بگویید انجام دادن کارها از روی آگاهی، چگونه به بهره‌وری کمک می‌کند؟

پاسخ سؤالات درست و نادرست

۲- این موارد با بهره‌وری در تضاد است. - صفحه ۱۵۹

۱- - صفحه ۱۶۱

پاسخ سؤالات چهارگزینه‌ای

۲- گزینه د

۱- گزینه ج - صفحه ۱۵۸





پاسخ سؤالات تشریحی

انتخاب کنیم آن کار را با بهترین روش انجام دهیم و بهترین وسیله برای رسیدن به هدف انتخاب کنیم.

۸- مصرف یا روش مصرف بعضی چیزها درست نیست و موجب اتلاف هزینه و منابع می‌شود. صرفه‌جویی کم‌مصرف کردن نیست، درست مصرف کردن است برای مثال استفاده درست منابع انرژی تهیه غذا و اسراف در مهمانی‌ها- صفحه ۱۶۱

۹- تنظیم جدولی که در آن درآمدها و هزینه‌های (دخل‌وخرج) ماهانه افراد یا خانواده نوشته می‌شود. - صفحه ۱۶۱

۱۰- ورزش کردن (پیاده‌روی) موجب نشاط و سلامت او می‌شود- بنزین کمتر مصرف می‌شود و استهلاک اتومبیل خودش کم می‌شود- در جلوگیری از آلودگی هوا- کم شدن ترافیک شهر تأثیر دارد.

۱۱- با دانستن ارزش زمان، می‌توانند برنامه‌ریزی کنند اولویت کارها را مشخص نمایند. با تنظیم جدول درآمد و هزینه‌ها، بهره‌وری بودجه خانواده را افزایش دهند.

۱۲- شیرهایی که آب نشتی دارند تعمیر کنید. - به‌جای اینکه شیر آب را باز کنید تا آب سرد شود یک بطری آب سرد در یخچال نگه دارید. - هنگام مسواک‌زدن شیر آب را ببندید زمان دوش گرفتن را کاهش دهید - بر روی کولر آبی از سایه‌بان استفاده کنید و...

۱۳- برای مثال اگر روش صحیح شست‌وشو یا نگهداری یک لباس را ندانیم، آن لباس زودتر از بین می‌رود یا غیرقابل استفاده می‌شود. پس آگاهی و دانش و مهارت باعث می‌شود کمتر اشتباه کنیم یا بهتر از مواد نگهداری کنیم. - صفحه ۱۶۱

۱- ۱- استفاده مناسب از وقت و زمان ۲- نظم، ترتیب و انضباط در کارها ۳- اصلاح عادت‌های غلط مصرفی ۴- انجام دادن کارها از روی آگاهی ۵- تنظیم جدول بودجه اقتصادی- صفحه ۱۶۰ و ۱۶۱

۲- کاغذهای باطله را برای بازیافت به شهرداری تحویل دهیم- از تمام فضای یک کاغذ برای نوشتن استفاده کنیم. - درست کردن کاردستی از کاغذهای باطله - استفاده از دفاتر سال‌های گذشته و... - صفحه ۱۶۱

۳- بله- همان‌طور که نظم و ترتیب در کارها باعث افزایش بهره‌وری می‌شود، بی‌نظمی باعث این می‌شود که زمان و وقت خود را برای پیدا کردن وسایل هدر دهد. شیوه نادرست نگهداری از وسایلش باعث می‌شود که وسایل او زودتر خراب شود. - صفحه ۱۶۱

۴- به اینگونه افراد می‌توان توصیه کرد که بدون تلاش و کوشش و استفاده درست از موقعیت‌ها نمی‌توان در زندگی به موفقیت رسید، شاید ثروت و موفقیت زود گذر به دست آورند اما همان‌طور که زود به دست می‌آیند در آینده‌ای نزدیک نیز ممکن است از دست بروند و همیشگی و بادوام نخواهند بود. - صفحه ۱۵۹

۵- الف) اسراف و صرفه‌جویی نکردن ب) زیاده‌روی و صرف هزینه‌های بی‌مورد ج) اتلاف وقت و بی‌نظمی د) افزایش بیماری‌ها و صرف هزینه- صفحه ۱۵۹

۶- ابداع و حفر قنات - احداث آب‌انبار - خشک‌کردن محصولات کشاورزی - تعاون و همیاری در امور زراعی- صفحه ۱۵۸

۷- از بین کارهای ممکن بهترین کار را انجام دهیم و بهترین هدف را

درس ۲۴: اقتصاد و بهره‌وری

سؤالات درست و نادرست

ردیف	سؤال	وضعیت
۱	محور اصلی اقتصاد مقاومتی، «بهره‌وری» است.	<input type="checkbox"/> (تکرار ۳ استان)
۲	با توجه به اهمیت حفظ محیط‌زیست به‌جای واژه بهره‌وری از بهره‌وری سبز استفاده می‌شود.	<input type="checkbox"/> (البرز خرداد ۹۵)
۳	افزایش تولید به هر روش و به هر قیمتی برای زندگی مردم لازم و ضروری است.	<input type="checkbox"/> (البرز خرداد ۹۵)
۴	بهره‌وری سبز به افزایش بهره‌وری با استفاده بیشتر از محیط‌زیست تأکید دارد.	<input type="checkbox"/> (فارس خرداد ۹۵)

سؤالات چهارگزینه‌ای (تستی)

۱- در دنیای امروز، تولید با هدف کسب بیشتر انجام می‌گیرد.

الف) بهره‌وری ب) سود ج) رقابت د) تولید

(چهارمحال و بختیاری خرداد ۹۵)





۲- مدیر یک کارگاه تولید شکلات، قصد دارد با یک اقدام، به «بهره‌وری سبز» کمک کند، شما کدام‌یک از فعالیت‌های زیر را برای این موضوع، پیشنهاد می‌کنید؟

(تکرار ۳ استان)

الف) میزان تبلیغات و بازاریابی محصولات خود را افزایش دهد.

ب) پاداش کارگران را زیاد کند تا تولید بیشتر گردد.

ج) در بسته‌بندی محصولات، تغییری به وجود آورد که پلاستیک و کاغذ کمتری مصرف شود.

د) دستگاهی بخرد که تعداد بیشتری بیسکویت را در یک ساعت بسته‌بندی کند.

(اصفهان و خوزستان خرداد ۹۵)

۳- بهره‌وری سبز بر افزایش بهره‌وری همراه با

الف) افزایش سطح زیر کشت می‌باشد

ب) حفظ محیط زیست تأکید می‌کند

ج) افزایش میزان تولید می‌باشد

د) بر حفظ قدرت خرید مردم تأکید می‌کند

(تکرار ۳ استان)

۴- شما کدام مورد زیر را محور اصلی اقتصاد مقاومتی می‌دانید؟

الف) تشویق به خرید کالای خارجی

ب) مصرف بی‌رویه کالاها

ج) ترویج و رعایت بهره‌وری

د) انجام مهمانی‌های پر هزینه

(فارس خرداد ۹۵)

۵- در دنیای امروز، تولید با چه هدفی انجام می‌گیرد؟

الف) بهره‌وری بیشتر با محیط‌زیست

ب) تولید کالای بیشتر

ج) کسب سود بیشتر

د) کیفیت بیشتر کالا

(کرمانشاه خرداد ۹۵)

۶- بهره‌وری بی‌رویه از منابع طبیعی در جهان از چه زمانی آغاز شد؟

الف) بعد از جنگ جهانی دوم

ب) بعد از انقلاب صنعتی

ج) بعد از تشکیل نظام‌های جدید حکومتی

د) بعد از بهره‌وری سبز

سوالات کوتاه پاسخ

(همدان خرداد ۹۵)

۱- در بهره‌وری سبز ما سعی می‌کنیم تا کمترین آسیب به چه چیزی نرسد؟

(تکرار ۳ استان)

۲- محور اصلی اقتصاد مقاومتی چیست؟

(خراسان جنوبی خرداد ۹۵)

۳- دیدگاه اسلام در مورد اقتصاد و تولید چیست؟

سوالات تشریحی

(تکرار ۶ استان)

۱- منظور از بهره‌وری سبز چیست؟

(تکرار ۷ استان)

۲- منظور از اقتصاد مقاومتی چیست؟ توضیح دهید.

(گلستان خرداد ۹۵)

۳- «نهاده» در تعریف بهره‌وری چیست؟

(تکرار ۴ استان)

۴- شما به‌عنوان یک دانش‌آموز از چه راه‌هایی می‌توانید به تحقق اهداف اقتصاد مقاومتی در کشور کمک کنید. لطفاً دو راهکار پیشنهاد دهید.

(تکرار ۴ استان)

(گیلان خرداد ۹۵)

۵- برای افزایش بهره‌وری اقتصادی به چه مواردی باید توجه کرد؟

(همدان خرداد ۹۵)

۶- شما کدام موارد زیر را در راستای اجرای اقتصاد مقاومتی، صحیح می‌دانید. (مقابل گزینه‌های درست علامت بزنید.)

الف) خانواده‌ی علی در بیشتر مواقع سعی می‌کنند تا از کالای ایرانی استفاده کنند.

ب) همسایه‌ی ما بیشتر جهیزیه‌ی دخترش را از کالاهای خارجی تهیه کرده است.

پ) کارخانه‌داران ایرانی تعهد نموده‌اند تا کیفیت کالاهای تولیدی خود را در حد کالاهای خارجی بالا ببرند.

ت) تولیدکنندگان جهت تهیه مواد اولیه و تولید کالا، از منابع و امکانات خارجی استفاده حداکثری می‌کنند.

ث) در مهمانی جشن عروسی بیش از شش نوع غذا برای مهمانان ترتیب داده شده بود.





۷- استفاده زیاد از کودهای شیمیایی و سموم کشاورزی که موجب تولید بیشتر سبزیجات و میوه‌ها شده، چرا با اصول بهره‌وری سبز سازگاری ندارد.

(مرکزی و خراسان رضوی خرداد ۹۵)

۸- سال ۱۳۹۵ توسط رهبر فرزانه کشورمان به نام **اقتصاد مقاومتی، اقدام و عمل** نام‌گذاری شد. در مورد آن **دو جمله** بنویسید.

(فارس خرداد ۹۵)

۹- گزینه‌های درست را به عبارات درست متصل نمایید.

(زنجان خرداد ۹۵)

- | | |
|-------------------|--|
| الف) بهره‌وری | ○ کمترین تأثیرات مضر بر محیط‌زیست |
| ب) اقتصاد مقاومتی | ○ افزایش میزان تولید کالا و خدمات |
| ج) بهره‌وری سبز | ○ متکی شدن به خود و حمایت از تولیدات داخلی |
| | ○ انجام کار درست با روش درست |

(آذربایجان غربی خرداد ۹۵)

۱۰- شما کدام نظر را درست و منطقی می‌دانید؟ چرا؟

مسعود و پسر عمویش که باهم به مسافرت رفته بودند، در هتلی اقامت داشتند، یک روز برای گردش در شهر از هتل بیرون رفتند، هنوز چند قدمی از هتل دور نشده بودند، مسعود گفت: فراموش کردم لامپ‌ها و فن کولر اتاق را خاموش کنم، باید برگردم و این کار را انجام دهم، ولی پسر عمویش گفت: لازم نیست. ما برای اقامتمان و چیزهایی که مصرف می‌کنیم به صاحب هتل پول می‌دهیم.

پاسخ سؤالات درست و نادرست

۴- ☒ - صفحه ۱۶۵

۳- ☒ - صفحه ۱۶۴

۲- ☒ - صفحه ۱۶۵

۱- ☒ - صفحه ۱۶۶

پاسخ سؤالات چهارگزینه‌ای

۵- گزینه ج - صفحه ۱۶۴

۶- گزینه ب - صفحه ۱۶۴

۳- گزینه ب - صفحه ۱۶۵

۴- گزینه ج - صفحه ۱۶۶

۱- گزینه ب - صفحه ۱۶۴

۲- گزینه ج - صفحه ۱۶۶

پاسخ سؤالات کوتاه پاسخ

۳- اقتصاد و تولید وسیله است نه هدف- صفحه ۱۶۴

۲- بهره‌وری- صفحه ۱۶۶

۱- طبیعت- صفحه ۱۶۴

پاسخ سؤالات تشریحی

۷- مصرف این مواد اگرچه میزان تولید را بالا می‌برد اما به دلیل انتقال سموم به آب‌وخاک و بدن و انسان که موجب شیوع بیماری‌های خطرناک می‌شود و با اصل کاهش تأثیرات مضر بر محیط‌زیست در فرآیند تولید تناقض دارد. در ضمن هزینه زیادی برای درمان به جامعه تحمیل می‌کند. - صفحه ۱۶۴ و ۱۶۵

۸- اقدام و عمل کردن به برنامه‌های اقتصاد مقاومتی - یعنی هرکس به اندازه‌ای که توان دارد کار کند و...

۹- الف) بهره‌وری ← انجام کار درست با روش درست - صفحه ۱۵۸
ب) اقتصاد مقاومتی ← متکی شدن به خود و حمایت از تولیدات داخلی- صفحه ۱۶۶ ج) بهره‌وری سبز ← کمترین تأثیرات مضر بر محیط‌زیست- صفحه ۱۶۵

۱۰- نظر مسعود، استفاده صحیح از منابع و انرژی و اتلاف نکردن آن‌ها باید مورد توجه قرار گیرد. هر چند آن‌ها هزینه هتل را پرداخت می‌کنند اما به هر حال انرژی یک کشور در حال هدر رفتن است و این کار مانع از بهره‌وری و موجب خرابی و تحمیل هزینه‌های زیاد می‌شود.

- صفحه ۱۶۶

۱- استفاده از ابزارها، روش‌ها و فناوری‌های مختلف در همهٔ مراحل تولید، توزیع و مصرف به‌گونه‌ای استفاده کنیم که تأثیرات مضر و منفی فعالیت‌ها بر محیط‌زیست به حداقل ممکن برسد. - صفحه ۱۶۵

۲- یعنی در شرایط سخت بتوانیم کمترین اتلاف هزینه را داشته باشیم- روی پای خود بایستیم- از تولید ملی حمایت کنیم- از اسراف بپرهیزیم- از منابع و امکانات حداکثر استفاده را بکنیم. - صفحه ۱۶۶
۳- منابع طبیعی: (معدن، مواد خام و انرژی)- نیروی کار: (مدیر، متخصصان، کارکنان، کارگران)- سرمایه: (پول، زمین، کارخانه)- سایر هزینه‌ها: (مالیات، تحقیق)- صفحه ۱۶۳

۴- از کالاهای ایرانی استفاده کنیم- اسراف نکنیم- از بین کارهای ممکن، بهترین کار را انجام دهیم و بهترین هدف را انتخاب کنیم. آن کار را با بهترین روش انجام دهیم و بهترین وسیله را برای رسیدن به هدف انتخاب کنیم. - صفحه ۱۶۶

۵- باید بهره‌وری را در تولید و توزیع افزایش دهیم و الگوی مصرف را نیز عقلانی کنیم. - صفحه ۱۶۲

۶- موارد الف و پ





آزمون پایانی نوبت دوم - نمونه ۱ «هماهنگ استانی خردادماه ۹۵ بوشهر»



ردیف	بخش اجباری: دانش‌آموز عزیز لطفاً به همه سؤالات فصل هفتم تا دوازدهم پاسخ دهید.	بارم
فصل هفتم	۱- انقلاب مشروطیت که باعث شد نظام پادشاهی مشروطه جایگزین نظام پادشاهی استبدادی شود در دوره حکومت کدام پادشاه قاجار اتفاق افتاد. الف) محمدعلی شاه <input type="checkbox"/> ب) مظفرالدین شاه <input type="checkbox"/> ج) ناصرالدین شاه <input type="checkbox"/> د) احمد شاه <input type="checkbox"/>	۰/۵
	۲- عبارتهای صحیح و غلط را مشخص کنید. الف) هدف انقلاب مشروطیت برقراری حکومت قانونی و رها شدن کشور از جنگ استبداد داخلی و سلطه خارجی بود. ب) بر اساس قرارداد ۱۹۱۹ اداره امور مالی و نظامی ایران در اختیار کارشناسان نظامی و مالی آمریکایی قرار می‌گرفت.	۰/۵
	۳- روسیه و انگلستان در قرارداد ۱۹۰۷ چه تصمیمی درباره ایران گرفتند؟	۰/۵
	۴- دو مورد از اقدامات رضاشاه که نتیجه آن تضعیف ارزش‌های اسلامی و تخریب فرهنگ ایرانی بود را بنویسید.	۱
فصل هشتم	۵- مخالفت امام خمینی با کدامیک از اقدامات رژیم پهلوی سبب تبعید ایشان به ترکیه شد. الف) مخالفت با کاپیتولاسیون <input type="checkbox"/> ب) مخالفت با تصویب‌نامه انجمن‌های ایالتی و ولایتی <input type="checkbox"/> ج) مخالفت با رابطه رژیم پهلوی با اسرائیل <input type="checkbox"/> د) مخالفت با اصول شش‌گانه <input type="checkbox"/>	۰/۵
	۶- دلایل سیاسی ناراضی‌مندی مردم از حکومت شاه را بنویسید. یک مورد	۰/۵
	۷- خواسته اصلی و اساسی ملت ایران در جریان انقلاب اسلامی چه بود؟	۰/۵
فصل نهم	۸- توطئه‌ها و دسیسه‌های دشمنان پس از پیروزی انقلاب اسلامی برای انحراف و نابودی نظام نوپای اسلامی را ذکر نمایید. (دو مورد کافی است).	۱
	۹- جملات سمت راست را به کلمه صحیح خود وصل کنید یا درون پرانتز بنویسید. الف) خوب و بد، زشت و زیبا و مطلوب یا نامطلوب دانستن امور مختلف (.....) ب) نشانه یا نماینده یک پدیده دیگر است و در جریان روابط اجتماعی ایجاد می‌شود. (.....) ج) قواعد و شیوه‌های مورد قبول یک جامعه برای انجام دادن کارهای مختلف (.....) د) آگاهی و اندیشه مشترک اعضای یک جامعه (.....)	۱
	۱۰- برای ویژگی‌های انتسابی و اکتسابی هویت، هر کدامیک مثال بزنید.	۰/۵
۱۱- تصاویر زیر کدامیک از عناصر هویت ملی (ویژگی‌های مشترک جامعه ایرانی) ما را نشان می‌دهد.	۱	
	   	





۰/۵	۱۲- دو مورد از کارکردهای خانواده را نام ببرید.	فصل دهم
۰/۵	۱۳- به نظر شما، برای رفع ناسازگاری بین والدین و فرزندان، چه اقداماتی می‌توان انجام داد؟ دو راهکار یا پیشنهاد بنویسید.	
۱	۱۴- فایدهٔ صله ارحام برای خانواده‌ها چیست؟	
۰/۵	۱۵- خانواده‌ها به چه روش‌هایی اعضای خانواده را اجتماعی می‌کنند. دو مورد ذکر کنید.	
۰/۵	۱۶- مهم‌ترین رکن حکومت جمهوری اسلامی کدام گزینه زیر است. الف) رهبری <input type="checkbox"/> ب) قوه مقننه <input type="checkbox"/> ج) مجلس خبرگان <input type="checkbox"/> د) قوه مجریه <input type="checkbox"/>	
۰/۵	۱۷- عبارتهای صحیح و غلط را مشخص کنید. الف) انتخاب وکیل مدافع مربوط به حق برخورداری از عدالت قانونی شهروندان است. <input type="checkbox"/> ص <input type="checkbox"/> غ ب) حمایت از تشکیل خانواده و پاسداری از روابط خانوادگی مربوط به حقوق فرهنگی شهروندان <input type="checkbox"/> ص <input type="checkbox"/> غ است.	فصل یازدهم
۱	۱۸- پرداخت مالیات و عوارض از تکالیف شهروندان محسوب می‌شود. این دو (مالیات - عوارض) چه تفاوتی باهم دارند؟	
۰/۵	۱۹- یکی از حقوق شهروندی «حق مشارکت سیاسی» است. با ذکر دو مثال این حق را توضیح دهید.	
۰/۵	۲۰- زوج جوانی قصد دارند جشن عروسی ساده‌ای با حداقل هزینه برپا کنند. اگر قرار باشد از شما کمک فکری بگیرند چه طرح یا پیشنهادی به آن‌ها می‌دهید؟ یک مورد	فصل دوازدهم
۰/۵	۲۱- راهکارهای مهم برای افزایش بهره‌وری در زندگی چیست؟ یک مورد	
۱	۲۲- در آغاز سال نو رهبر در فرمایشات نوروزی خود سال ۱۳۹۵ را «سال اقتصاد مقاومتی، اقدام و عمل» نام‌گذاری کردند، اگر شما دانش‌آموزان بخوانید اقتصاد مقاومتی را برای دوستان خود توضیح دهید چه مطالبی را بیان می‌کنید.	
۰/۵	۲۳- بهره‌وری سبز یعنی الف) افزایش تولید باهدف کیفیت مرغوب‌تر <input type="checkbox"/> ب) افزایش تولید باهدف کسب سود بیشتر <input type="checkbox"/> ج) افزایش تولید با حداقل هزینه مصرفی <input type="checkbox"/> د) افزایش تولید با حفظ محیط‌زیست <input type="checkbox"/>	

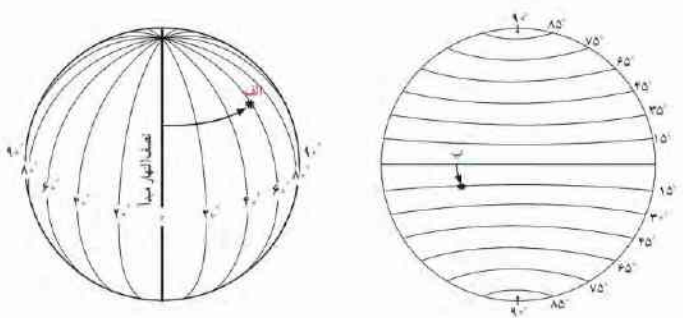
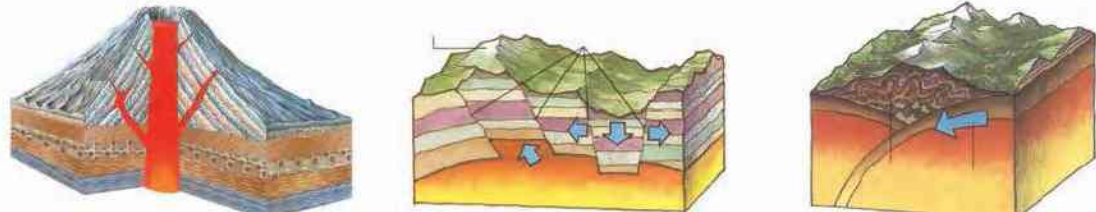




بخش اختیاری: دانش‌آموزان عزیز لطفاً در این بخش از شش فصل فقط دو فصل انتخاب کنید و به سؤالات همان دو فصل پاسخ دهید.

فصل اول

فصل دوم

۰/۵	<p>۱- کدام گزینه زیر صحیح بیان شده است.</p> <p>الف) سیاره‌های درونی از گازهای مختلف تشکیل شده‌اند <input type="checkbox"/></p> <p>ب) در سیاره‌های درونی تعداد قمرها بیشتر است <input type="checkbox"/></p> <p>ج) سیاره‌های بیرونی سطح سنگی و جامد دارند <input type="checkbox"/></p> <p>د) زمین جزء سیارات درونی محسوب می‌شود <input type="checkbox"/></p>	
۰/۵	<p>۲- اگر میانگین سرعت گردش زمین به دور خورشید در یک ثانیه ۳۰ کیلومتر باشد، سرعت حرکت زمین به دور خورشید در یک ساعت چقدر است؟</p>	
۰/۵	<p>۳- عبارتهای صحیح و غلط را مشخص کنید.</p> <p>الف) سال رسمی ۳۶۵ روز است که ۶ ساعت از سال خورشیدی کوتاه‌تر است.</p> <p>ب) پدید آمدن شبانه‌روز و فصل‌ها از نتایج حرکت وضعی زمین است.</p> <p>ص <input type="checkbox"/> غ <input type="checkbox"/></p> <p>ص <input type="checkbox"/> غ <input type="checkbox"/></p>	
۰/۵	<p>۴- در زندگی روزانه ساعت واقعی چه کاربردهایی دارد؟ یک مورد</p>	
۰/۵	<p>۵- با توجه به شکل مقابل موقعیت نقاط الف و ب (طول و عرض جغرافیایی) را بنویسید.</p> <p>الف:</p> <p>ب:</p> 	
۰/۵	<p>۶- از کدامیک از ناهمواری‌های کف اقیانوس، نفت و گاز استخراج می‌شود.</p> <p>الف) ایوان خشکی <input type="checkbox"/></p> <p>ب) شیب قاره <input type="checkbox"/></p> <p>ج) گودال اقیانوسی <input type="checkbox"/></p> <p>د) دشت اقیانوسی <input type="checkbox"/></p>	
۰/۵	<p>۷- پیشنهاد شما دانش‌آموزان، برای حفاظت از اقیانوس‌ها (که یکی از منابع تأمین غذای انسان است) چیست؟ یک مورد بنویسید.</p>	
۰/۷۵	<p>۸- چرا سفر به اعماق اقیانوس‌ها دشوارتر از صعود به قله‌هاست؟ سه دلیل بیاورید.</p>	
۰/۷۵	<p>۹- با کمک گرفتن از شکل‌ها و نام‌گذاری صحیح آن، عوامل درونی که سبب پیدایش ناهمواری‌ها می‌شود را مشخص نمایید.</p>  <p>.....</p> <p>.....</p> <p>.....</p>	





۱	<p>۱۰- پاسخ مربوط به هر یک از عبارتهای زیر را از بین کلمات زیر پیدا کنید و در داخل پرانتز بنویسید.</p> <p>جنگلهای استوایی - بیابان - تایگا - ساوان - توندرا</p> <p>(الف) در این زیستبوم درختانی مانند سرو و کاج همیشه سبز و برگریزان ندارند. (.....)</p> <p>(ب) در این زیستبوم دو فصل خشک و مرطوب وجود دارد و تنوع جانوری بسیار فراوان است. (.....)</p> <p>(ج) این زیستبوم در مجاورت مدار رأسالسرطان و مدار رأس الجدی واقع شدهاند. (.....)</p> <p>(د) این زیستبوم بیشترین تنوع زیستی جهان را دارد و بامبو یکی از گیاهان این ناحیه است. (.....)</p>	فصل سوم
۰/۵	۱۱- برزیل و اندونزی دو کشوری هستند که در آنها تخریب جنگلهای استوایی بسیار گسترش یافته است. راهکار خردمندانه شما برای حفاظت از این جنگلها چیست؟ یک مورد	
۰/۵	۱۲- کدام عناصر آب و هوایی بیشترین تأثیر را بر میزان پوشش گیاهی یک منطقه دارند؟ نام ببرید.	
۰/۵	۱۳- در کشور کنیا شکار گسترده فیل صورت میگیرد و این امر سبب شده این گونه جانوری در خطر انقراض قرار گیرد. پیشنهاد شما به مسئولین این کشور برای حفظ نسل این جانور چیست؟ یک مورد.	
۰/۵	۱۴- میزان ثروت مادی و رشد اقتصادی کشورها را به چه معیارهایی اندازهگیری می کنند؟	فصل چهارم
۱	۱۵- مهاجرت اختیاری چه تفاوتی با مهاجرت اجباری دارد؟ برای هر کدام یک مثال بزنید.	
۰/۵	۱۶- به نظر شما دانش آموزان چرا قاره آفریقا بیشترین کشورهای دارای متوسط طول عمر پایین را دارد. دو دلیل بیاورید.	
۰/۵	۱۷- امروزه برخی از کشورها با کاهش رشد جمعیت مواجه شدهاند. پیشنهاد شما به این دولتها برای تشویق خانوادهها به فرزند آوری چیست؟ دو مورد	
۰/۷۵	<p>۱۸- عبارتهای صحیح و غلط را مشخص کنید.</p> <p>(الف) در دوره صفوی بعد از شاه، وزیر بزرگ قرار داشت که مسئول امور اداری و مالی بود. <input type="checkbox"/> ص <input type="checkbox"/> غ</p> <p>(ب) در دوره صفوی پادشاهان نسبت به علم تاریخ کم توجه بودند و این رشته رونق زیادی نداشت. <input type="checkbox"/> ص <input type="checkbox"/> غ</p> <p>(ج) شاه اسماعیل صفوی مذهب شیعه را در سراسر حکومت خود رسمی اعلام کرد. <input type="checkbox"/> ص <input type="checkbox"/> غ</p>	فصل پنجم
۰/۷۵	۱۹- با ذکر سه دلیل علت گسترش و رونق تجارت داخلی و خارجی در دوره صفوی را بنویسید؟	
۱	۲۰- هدف سیاسی و اقتصادی اروپاییان از ارتباط با ایران در دوره صفوی چه بود؟ سیاسی: اقتصادی:	
۰/۵	<p>۲۱- انگلستان در دوران کدام پادشاهان قاجار به خلیج فارس و جزایر و بنادر ایران لشکرکشی کرد.</p> <p>(الف) محمد شاه - ناصرالدین شاه <input type="checkbox"/></p> <p>(ب) ناصرالدین شاه - محمدعلی شاه <input type="checkbox"/></p> <p>(ج) محمد شاه - مظفرالدین شاه <input type="checkbox"/></p> <p>(د) ناصرالدین شاه - مظفرالدین شاه <input type="checkbox"/></p>	
۱	۲۲- چرا ناصرالدین شاه مجبور شد امتیاز تنباکو را که به شرکت انگلیسی واگذار کرده بود لغو کند. توضیح دهید؟	فصل ششم
۰/۵	۲۳- هدف دولت انگلستان از جدا کردن افغانستان و بخش شرقی سیستان و بلوچستان از ایران چه بود؟	
۰/۵	<p>۲۴- من کیستم؟</p> <div style="border: 1px solid black; padding: 5px; margin-top: 10px;"> <p>پس از برقرار کردن امنیت و آرامش، اقدامات اصلاحی گستردهای را برای نوسازی و کارآمدی تشکیلات حکومت و مبارزه با مفاسد اداری و اقتصادی آغاز کردم و در سیاست خارجی، توجه ویژه‌ای به حفظ استقلال کشور داشتم و...</p> </div>	





آزمون پایانی نوبت دوم - نمونه ۲ «هماهنگ استانی خردادماه ۹۵ شهر تهران»



ردیف	بخش اختیاری: لطفاً در این بخش از شش فصل فقط دو فصل انتخاب کنید و به سؤالات همان دو فصل پاسخ دهید.	بارم									
فصل اول	۱- چگونه موقعیت مکانی پدیده‌ها را روی کره زمین مشخص می‌کنند؟ الف) با استفاده از نصف‌النهارات <input type="checkbox"/> ب) با استفاده از جهت‌یابی <input type="checkbox"/> ج) با استفاده از مدارات <input type="checkbox"/> د) با استفاده از مختصات جغرافیایی <input type="checkbox"/>	۰/۵									
	۲- حرکت وضعی را تعریف کنید؟	۰/۵									
	۳- جدول زیر را کامل کنید.	۱/۵									
	<table border="1"> <thead> <tr> <th>انواع سیارات</th> <th>مدار گردش</th> <th>جنس</th> </tr> </thead> <tbody> <tr> <td>درونی</td> <td>.....</td> <td>سطوح سنگی و جامد دارند</td> </tr> <tr> <td>.....</td> <td>بزرگ‌تر</td> <td>.....</td> </tr> </tbody> </table>	انواع سیارات	مدار گردش	جنس	درونی	سطوح سنگی و جامد دارند	بزرگ‌تر	
انواع سیارات	مدار گردش	جنس									
درونی	سطوح سنگی و جامد دارند									
.....	بزرگ‌تر									
فصل دوم	۴- گازهایی که دور تا دور کره زمین را فرا گرفته‌اند کدامیک از محیط‌های کره زمین را می‌سازند؟ الف) لیتوسفر <input type="checkbox"/> ب) اتمسفر <input type="checkbox"/> ج) هیدروسفر <input type="checkbox"/> د) بیوسفر <input type="checkbox"/>	۰/۵									
	۵- افراد زیادی به قله اورست صعود کرده‌اند، اما تعداد افرادی که به عمق گودال ماریانا رفته‌اند بسیار کم است. چرا؟ دو دلیل بنویسید. ۱- ۲-	۱									
	۶- دو پیامد ناخوشایند گرم شدن کره زمین را بنویسید. ۱- ۲-	۱									
فصل سوم	۷- ویژگی‌های زیر مربوط به کدام زیست‌بوم است؟ (یک مورد اضافه است) <table border="1"> <tr> <td>بیابان</td> <td>ساوان</td> <td>تایگا</td> <td>توندر</td> </tr> </table> الف) ناحیه‌ای که دارای زمستان‌های طولانی و بسیار سرد و تابستان‌های کوتاه می‌باشد. ب) دارای آب و هوایی گرم در تمام طول سال است و در آن دو فصل خشک و مرطوب وجود دارد. ج) در این منطقه در شش ماه از سال میانگین دما کمتر از صفر درجه است و زمین همیشه مرطوب است.	بیابان	ساوان	تایگا	توندر	۰/۷۵					
	بیابان	ساوان	تایگا	توندر							
	۸- دلایل تنوع زیست‌بوم‌ها را نام ببرید. (سه مورد)	۰/۷۵									
۹- دو راهکار صحیح و خردمندانه استفاده از منابع طبیعی را بنویسید.	۱										
فصل چهارم	۱۰- علت اصلی رشد فوق‌العاده جمعیت در دو قرن اخیر چیست؟ الف) کاهش مرگ‌ومیر <input type="checkbox"/> ب) تولید مواد غذایی <input type="checkbox"/> ج) افزایش موالید <input type="checkbox"/> د) پیشرفت وسایل ارتباطی <input type="checkbox"/>	۰/۵									
	۱۱- برای هر یک از انواع مهاجرت‌های زیر یک مثال بنویسید. الف) داخلی: ب) اجباری:	۱									
	۱۲- دو مورد از علل داخلی نابرابری جهانی را بنویسید. ۱- ۲-	۱									





۰/۷۵	<p>۱۳- هر یک از اقدامات زیر مربوط به کدام پادشاه صفوی است؟ گزینهٔ مرتبط را به یکدیگر وصل کنید.</p> <p>(الف) رسمی کردن مذهب شیعه (ب) تثبیت و تحکیم حکومت صفوی (ج) تشکیل سپاه جدید از افراد غیر قزلباش</p> <p>(۱) شاه عباس (۲) شاه اسماعیل (۳) شاه سلطان حسین (۴) شاه تهماسب (اول)</p>	فصل پنجم
۰/۷۵	<p>۱۴- دلایل رونق تجارت داخلی و خارجی در زمان صفویه چه بود؟ (سه مورد)</p> <p>۱- ۲- ۳-</p>	
۱	<p>۱۵- به سؤالات زیر در ارتباط با جنگ چالدران پاسخ دهید.</p> <p>(الف) علت وقوع جنگ چه بود؟ (ب) علت شکست سپاه ایران چه بود؟</p>	
۰/۵	<p>۱۶- او کیست؟ «به جای عنوان پادشاه لقب وکیل‌الرعا یا را برای خود برگزید.»</p>	
۱/۵	<p>۱۷- نمودار زیر را کامل کنید.</p> <div style="display: flex; align-items: center; justify-content: center;"> <div style="border: 1px solid black; padding: 5px; margin-right: 20px;"> <p>قطع نفوذ و دخالت‌های روسیه و انگلستان</p> </div> <div style="margin-right: 20px;"> </div> <div style="border: 1px solid black; padding: 5px; margin-right: 20px;"> <p>.....</p> </div> <div style="border: 1px solid black; padding: 5px; margin-right: 20px;"> <p>.....</p> </div> <div style="border: 1px solid black; padding: 5px;"> <p>.....</p> </div> </div>	فصل ششم
۰/۵	<p>۱۸- در دور دوم جنگ‌های ایران و روسیه در زمان سلطنت فتحعلی شاه قاجار سپاه ایران متحمل شکست شد و مجبور به بستن چه قراردادی شد؟</p>	
<p>بخش اجباری: دانش‌آموز عزیز لطفاً به همه سؤالات فصل هفتم تا دوازدهم پاسخ دهید.</p>		
۰/۵	<p>۱- انقلاب مشروطه در زمان کدام شاه قاجار رخ داد؟</p> <p>(الف) آقا محمدخان <input type="checkbox"/> (ب) ناصرالدین شاه <input type="checkbox"/> (ج) مظفرالدین شاه <input type="checkbox"/> (د) محمدعلی شاه <input type="checkbox"/></p>	
۰/۵	<p>۲- بهانهٔ متفقین برای اشغال ایران در جنگ جهانی دوم چه بود؟</p>	فصل هفتم
۱/۵	<p>۳- درست یا نادرست بودن هر عبارت را مشخص کنید.</p> <p>(الف) مهم‌ترین خواستهٔ مردم در نخستین قیام مشروطه تأسیس عدالت‌خانه بود. <input type="checkbox"/> ص <input type="checkbox"/> غ</p> <p>(ب) رهبران نهضت ملی شدن صنعت نفت، آیت‌الله مدرس و دکتر مصدق بودند. <input type="checkbox"/> ص <input type="checkbox"/> غ</p> <p>(ج) مجلس مؤسسان به‌طور رسمی حکومت را به رضاخان و خانوادهٔ او واگذار کرد. <input type="checkbox"/> ص <input type="checkbox"/> غ</p>	
۰/۵	<p>۴- علت قیام ۱۵ خرداد سال ۱۳۴۲ چه بود؟</p> <p>(الف) اعتراض به تبعید امام خمینی(ره) <input type="checkbox"/> (ب) مخالفت امام خمینی(ره) با کاپیتولاسیون <input type="checkbox"/></p> <p>(ج) اعتراض به دستگیری امام خمینی(ره) <input type="checkbox"/> (د) مخالفت با مقاله توهین‌آمیز به امام خمینی(ره) <input type="checkbox"/></p>	فصل هشتم
۱	<p>۵- نام دو نهاد از مهم‌ترین نهادهایی که پس از پیروزی انقلاب اسلامی به فرمان امام خمینی(ره) شکل گرفتند را بنویسید.</p>	
۱	<p>۶- هدف آمریکا از ایجاد تغییرات در امور اجتماعی و اقتصادی ایران چه بود؟ (دو مورد)</p>	





فصل نهم

فصل دهم

فصل یازدهم

فصل دوازدهم

۰/۵	۷- شکل زیر را کامل کنید. (الف) (ب)																
۱	۸- کامل کنید. (الف) نماد یعنی: (ب) فرهنگ یعنی:																
۱	۹- هر یک از ویژگی‌های زیر مربوط به کدام نوع از انواع هویت به شمار می‌رود؟ (یک مورد اضافه است)	<table border="1" style="margin-left: auto; margin-right: auto;"> <tr> <td>اجتماعی</td> <td>روانی</td> <td>جسمانی</td> </tr> </table>	اجتماعی	روانی	جسمانی												
اجتماعی	روانی	جسمانی															
۰/۵	۱۰- بنیان خانواده بر چه چیزی استوار است؟ (الف) محبت <input type="checkbox"/> (ب) مراقبت <input type="checkbox"/> (ج) فرزند آوری <input type="checkbox"/> (د) ازدواج <input type="checkbox"/>																
۱	۱۱- دو مورد از فواید صلح ارحام برای خانواده را بنویسید. ۱- ۲-																
۱	۱۲- دو مورد از پیامدهای نامطلوب تک‌فرزندی را بنویسید.																
۰/۷۵	۱۳- جدول زیر را کامل کنید. (الف) مهم‌ترین رکن حکومت جمهوری اسلامی ایران است. (ب) به معنای سرپرستی است. (ج) یکی از حقوق شهروندی که بر اساس آن شهروندان حق دادخواهی دارند.	<table border="1" style="margin-left: auto; margin-right: auto;"> <tr> <td>الف</td> <td>ر</td> <td></td> <td></td> <td></td> </tr> <tr> <td>ب</td> <td>و</td> <td></td> <td></td> <td></td> </tr> <tr> <td>ج</td> <td>ق</td> <td></td> <td></td> <td></td> </tr> </table>	الف	ر				ب	و				ج	ق			
الف	ر																
ب	و																
ج	ق																
۰/۷۵	۱۴- هر یک از موارد زیر وظیفه کیست؟ گزینه مرتبط را به یکدیگر وصل کنید. (یک مورد اضافه است). (الف) فرماندهی کل نیروهای مسلح (ب) دفاع از کشور در زمان صلح و جنگ (ج) برقراری نظم و امنیت و رسیدگی به اختلافات و شکایات (د) شورای اسلامی شهر و روستا	<p>۱) حکومت</p> <p>۲) شهروندان</p> <p>۳) رهبر</p> <p>۴) شوراهای اسلامی شهر و روستا</p>															
۱	۱۵- چرا حق حاکمیت بر انسان از آن خداست؟																
۰/۵	۱۶- محور اصلی اقتصاد مقاومتی چیست؟ (الف) بهره‌وری <input type="checkbox"/> (ب) افزایش تولید <input type="checkbox"/> (ج) کاهش هزینه <input type="checkbox"/> (د) جلوگیری از اتلاف انرژی <input type="checkbox"/>																
۱	۱۷- دو راهکار مهم برای افزایش بهره‌وری را در زندگی فردی و اجتماعی بنویسید. ۱- ۲-																
۱	۱۸- بهره‌وری سبز یعنی چه؟																





آزمون پایانی نوبت دوم - نمونه ۳ «هماهنگ استانی خردادماه ۹۵ کردستان»

ردیف

بارم

بخش اجباری: دانش‌آموز عزیز لطفاً به همه سؤالات فصل هفتم تا دوازدهم پاسخ دهید.

فصل هفتم

- ۱- کدامیک از گزینه‌های زیر در مورد انقلاب مشروطه درست نمی‌باشد.
- الف) انقلاب مشروطیت جنبشی سیاسی اجتماعی بود.
- ب) انقلاب مشروطیت قدرت و اختیارات پادشاه را بر اساس قانون محدود می‌کرد.
- ج) این انقلاب در دوره حکومت ناصرالدین شاه رخ داد.
- د) بر اساس این انقلاب اداره کشور در اختیار نهادهایی مانند مجلس شورا و هیئت‌وزیران قرار می‌گرفت.

- ۲- در دوران حکومت قاجار، واگذاری امتیازهای زیاد به انگلیسی‌ها و روس‌ها مربوط به کدامیک از زمینه‌های انقلاب مشروطه بود.
- الف) زمینه‌های سیاسی و اقتصادی
- ب) زمینه‌های داخلی فکری و فرهنگی
- ج) زمینه‌های خارجی فکری و فرهنگی
- د) زمینه‌های نظامی

- ۳- جدول مقابل را با توجه به سؤالات خواسته شده پر کنید.
- در جریان جنگ جهانی دوم این دو کشور به آلمان پیوستند و دولت‌های محور را تشکیل دادند.
- دو تن از رهبران مشروطه‌خواه مردم تبریز.
- | دو رهبر | دو کشور |
|---------|---------|
| | |
| | |

- ۴- طبق قرارداد ۱۹۱۹ که وثوق‌الدوله با دولت این کشور منعقد کرد اداره امور نظامی و مالی در ص غ
- اختیار مستشاران آمریکایی قرار می‌گرفت.

- ۵- قیام ۱۹ دی‌ماه ۱۳۵۶ مردم قم در اعتراض به انتشار مقاله توهین‌آمیز روزنامه اطلاعات به امام ص غ
- بود.

- ۶- حکومت پهلوی در قانون انجمن‌های ایالتی و ولایتی تغییراتی ایجاد کرد که با مخالفت امام رو به رو شد، اساسی‌ترین این تغییرات کدامند؟

- ۷- علت قیام ۱۵ خرداد ۱۳۴۲ کدامیک از گزینه‌های زیر است؟
- الف) اعتراض به تبعید امام به ترکیه
- ب) اعتراض و مخالفت با اصول شش‌گانه
- ج) اعتراض و مخالفت با کاپیتولاسیون
- د) دستگیری امام، بعد از سخنرانی در مدرسه فیضیه قم

- ۸- دو مورد از توطئه‌ها و دسیسه‌های دشمنان پس از پیروزی انقلاب اسلامی را نام ببرید.

- ۹- تصویر زیر کدامیک از لایه‌های فرهنگ غنی قوم کرد را نشان می‌دهد؟
- الف) هنجارها
- ب) نماد
- ج) ارزش‌ها
- د) شخصیت



- ۱۰- هر کدام از گزینه‌های سمت راست را به عبارت مناسب سمت چپ وصل کنید. (یک مورد اضافی است)

- الف) عنصر مهمی که در تکوین هویت ملی نقش دارد.
- ب) سه ضلع فرهنگ، تاریخ، سرزمین، عمده‌ترین عناصر هویت یک ملتند.
- ج) در گروه‌های کم درآمد و حاشیه‌نشین بیماری‌های عفونی بیشتر دیده می‌شود.
- د) قواعد و شیوه‌های مورد قبول یک جامعه برای انجام دادن کارهای مختلف
- ۱- تأثیر ابعاد هویت بر هم
- ۲- زبان مشترک
- ۳- هویت ملی
- ۴- ارزش
- ۵- هنجار

فصل نهم





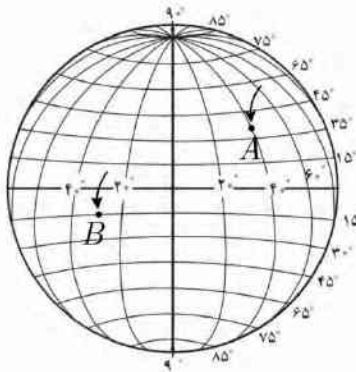
۰/۵	۱۱- فرآیند اجتماعی شدن نخست در مدرسه رخ می‌دهد. ص <input type="checkbox"/> غ <input type="checkbox"/>	فصل دهم
۰/۵	۱۲- اخیراً دو نفر از دانش‌آموزان استان کردستان با تلاش و پشتکار به تیم ملی فوتبال نوجوانان پسران کشور پیوسته‌اند، یک هویت فردی و یک ویژگی اکتسابی برای این عزیزان بیان کنید.	
۰/۵	۱۳- دو مورد از کارکردهای خانواده را نام ببرید.	
۰/۵	۱۴- اگر پدر و مادری دلایل خوبی و بدی رفتارها را برای فرزندان خود بازگو کنند و عقاید و ارزش‌های جامعه را تشریح کنند از کدام شیوهی اجتماعی استفاده کرده‌اند؟ الف) تنبیه <input type="checkbox"/> ب) گفت‌وگو <input type="checkbox"/> ج) تشویق <input type="checkbox"/> د) هیچ‌کدام <input type="checkbox"/>	
۱	۱۵- برخی از کارهایی که به سازگاری زن و شوهر کمک می‌کند را بیان کنید. (دو مورد کافی است)	
۰/۵	۱۶- موقعیت‌سازی: از عوامل و دلایل ناسازگاری بین والدین و فرزندان می‌تواند گزینه‌های زیر باشد، شما نیز یک مورد یا موقعیت ذکر کنید. - عدم همخوانی در لباس پوشیدن نوجوان با والدین - نارضایتی والدین از نوع درست کردن موی سر، وضعیت ظاهر، حجاب و غیره -	فصل یازدهم
۱	۱۷- برخی از مهم‌ترین وظایف حکومت‌ها کدام‌اند؟ (ذکر دو مورد کافی است)	
۰/۵	۱۸- آزاد بودن استفاده از زبان‌های قومی و محلی در مطبوعات و رسانه‌های گروهی و تدریس ادبیات آن‌ها در مدارس در کنار زبان فارسی، به کدامیک از حقوق شهروندی ما اشاره دارد؟ الف) حق برخورداری از عدالت قضایی <input type="checkbox"/> ب) حق برخورداری از تأمین و رفاه اجتماعی <input type="checkbox"/> ج) حق مشارکت سیاسی <input type="checkbox"/> د) حقوق فرهنگی <input type="checkbox"/>	
۰/۵	۱۹- تعیین سیاست‌های کلی نظام و نظارت بر حسن اجرای آن‌ها از وظایف و اختیارات کدامیک از شخصیت‌های زیر است؟ الف) رئیس‌جمهور <input type="checkbox"/> ب) رهبر <input type="checkbox"/> ج) رئیس قوه قضائیه <input type="checkbox"/> د) رئیس مجلس شورای اسلامی <input type="checkbox"/>	
۰/۵	۲۰- رعایت قوانین و مقررات و دفاع از کشور، از مهم‌ترین حقوق شهروندی فرد می‌باشد. ص <input type="checkbox"/> غ <input type="checkbox"/>	
۰/۵	۲۱- در اقتصاد، بهره‌وری را نسبت ستانده‌ها به داده‌ها تعریف کرده‌اند. ص <input type="checkbox"/> غ <input type="checkbox"/>	فصل دوازدهم
۰/۵	۲۲- اگر کشاورزی در مزرعه و یا مهندسی در کارخانه تولید خود را، با حفظ منابع و آگاهانه و بدون آسیب زدن به محیط‌زیست بالا ببرد به کدامیک از گزینه‌های زیر بیشتر توجه کرده است؟ الف) بهره‌وری <input type="checkbox"/> ب) بهره‌وری سبز <input type="checkbox"/> ج) فرآیند تولید <input type="checkbox"/> د) هیچ‌کدام <input type="checkbox"/>	
۱	۲۳- منظور از نهاد اقتصاد چیست؟	
۰/۵	۲۴- بهره‌وری در کشور ما ایران را با کشورهای پیشرفته و یا در حال پیشرفت جهان مقایسه کنید.	





بخش اختیاری: لطفاً در این بخش از شش فصل فقط دو فصل انتخاب کنید و به سؤالات همان دو فصل پاسخ دهید.

- ۰/۵ ۱- این تعریف به کدام یک از گزینه‌های زیر اختصاص دارد؟ (فاصله هر مکان با مدار استوا بر حسب درجه)
 الف) طول جغرافیایی ب) نصف‌النهارها ج) عرض جغرافیایی د) مدارها
- ۰/۵ ۲- پدید آمدن شب و روز و اختلاف ساعت بر اثر کدام یک از گزینه‌های زیر ایجاد می‌شود؟
 الف) حرکت انتقالی ب) حرکت وضعی ج) حرکت ظاهری د) هیچ‌کدام
- ۰/۵ ۳- با توجه به شکل زیر مختصات نقاط مشخص شده را بنویسید.



فصل اول

- ۰/۵ ۴- در اول این ماه در نیمکره‌ی شمالی، خورشید به مدار رأس‌السرطان به‌طور عمود می‌تابد، در این هنگام طولانی‌ترین روز در این نیمکره است.
 الف) اول تیر- انقلاب تابستانی ب) اول دی- انقلاب زمستانی
 ج) اول دی- انقلاب تابستانی د) اول تیر- انقلاب زمستانی
- ۰/۵ ۵- مبنای ساعت واقعی، موقعیت خورشید در آسمان است.
 ص غ

- ۰/۵ ۶- تشکیل ابرها و بسیاری از تغییرات آب و هوایی در لایه‌ی تروپوسفر صورت می‌گیرد.
 ص غ
- ۰/۵ ۷- دو عامل مؤثر بر آب‌وهوای جهان کدامند؟

- ۱ ۸- برای هر یک از عبارتهای زیر از بین کلمات زیر مورد مناسب را انتخاب کنید. (یک مورد اضافی است)
 کوه‌های گنبدی شکل - چین‌خوردگی - گسل - زمین‌لرزه - آتشفشان
 الف) فشار بر لایه‌های رسوبی به‌گونه‌ای است که پوسته‌ی زمین را دچار شکستگی می‌کند.
 ب) مواد مذاب از پوسته راهی به بیرون پیدا می‌کند و نوعی از کوهها بر اثر این پدیده به وجود می‌آید.
 ج) بخش زیرین یک ورقه به زیر ورقه‌ی دیگر می‌رود و لایه‌ی رسوبی را به سمت بالا دچار خمیدگی می‌کند.
 د) اگر مواد مذاب درون زمین فوران نکند و لایه‌ی پوسته بالا بیاید این نوع کوهها به وجود می‌آیند

فصل دوم

- ۰/۵ ۹- همه‌ی ما می‌دانیم کره‌ی زمین در حال گرم شدن است دو مورد از پیامدهای ناخوشایند این مسئله را بنویسید.

- ۱ ۱۰- از مهم‌ترین عواملی که باعث از بین رفتن پوشش گیاهی، نابودی گونه‌های جانوری و آلودگی آب‌و‌خاک و هوا می‌شوند دو مورد را ذکر کنید.

- ۰/۵ ۱۱- کدام یک از عوامل زیر بیشترین تأثیر را در تنوع زیست‌بوم‌های جهان دارد.
 الف) میزان ارتفاع زمین ب) آب‌وهوا ج) ناهمواری د) جنس خاک

فصل سوم

- ۱ ۱۲- هر یک از ویژگی‌های زیر مربوط به کدام زیست‌بوم می‌باشد؟
 الف) این زیست‌بوم دارای دو فصل خشک و مرطوب می‌باشد. (.....)
 ب) در این منطقه هوا همیشه گرم و میزان بارندگی سالیانه ۲۵۰۰ میلی‌متر می‌باشد. (.....)
 ج) از گسترده‌ترین زیست‌بوم‌هاست در ۶ ماه از سال میانگین دما کمتر از صفر است. (.....)
 د) این ناحیه زمستان‌های طولانی دارد، سرمای هوا بسیار شدید، با گیاهانی چون خزه و گل‌سنگ. (.....)





فصل چهارم

فصل پنجم

فصل ششم

۰/۵	۱۳- کدامیک از موارد زیر از ملاک‌های شاخص توسعه انسانی نیست؟ (الف) درآمد و رفاه <input type="checkbox"/> (ب) امید به زندگی یا متوسط طول عمر <input type="checkbox"/> (ج) فقر و بی‌عدالتی <input type="checkbox"/> (د) سواد و آموزش <input type="checkbox"/>
۰/۵	۱۴- مهاجرت میلیونی مردم سوریه به کشورهای اروپایی نوعی مهاجرت اختیاری است. ص <input type="checkbox"/> غ <input type="checkbox"/>
۰/۵	۱۵- دو مورد از عوامل داخلی نابرابری در جهان را بیان کنید.
۱	۱۶- از عوامل طبیعی جذب جمعیت، عامل معادن و ذخایر را توضیح دهید.
۰/۵	۱۷- کدامیک از پادشاهان صفوی پایتخت را از تبریز به قزوین انتقال داد؟ (الف) شاه اسماعیل <input type="checkbox"/> (ب) شاه سلطان حسین <input type="checkbox"/> (ج) شاه تهماسب <input type="checkbox"/> (د) شاه عباس <input type="checkbox"/>
۰/۵	۱۸- پر سودترین کالای صادراتی دوران صفویه که در انحصار شاه عباس بود. (الف) ابریشم <input type="checkbox"/> (ب) پنبه <input type="checkbox"/> (ج) اسلحه <input type="checkbox"/> (د) قالیچه و فرش <input type="checkbox"/>
۰/۵	۱۹- در آستانه تأسیس حکومت صفوی کدامیک از کشورهای زیر جزایر و سواحل جنوبی ایران را تصرف کرد؟ (الف) فرانسه <input type="checkbox"/> (ب) انگلیس <input type="checkbox"/> (ج) پرتغال <input type="checkbox"/> (د) اسپانیا <input type="checkbox"/>
۱	۲۰- اوضاع سیاسی ایران هنگام تأسیس حکومت صفوی چگونه بود؟
۰/۵	۲۱- به موجب عهدنامه گلستان سرزمین‌های ایرانی شمال رود ارس به تصرف روسیه درآمد. ص <input type="checkbox"/> غ <input type="checkbox"/>
۰/۵	۲۲- یکی از اهداف استعماری این کشور از حمله به ایران، رسیدن به آب‌های آزاد و گرم خلیج فارس و اقیانوس هند بود. (الف) انگلیس <input type="checkbox"/> (ب) فرانسه <input type="checkbox"/> (ج) عثمانی <input type="checkbox"/> (د) روسیه <input type="checkbox"/>
۱	۲۳- هر یک از عبارتهای سمت راست را به گزینه مناسب سمت چپ وصل کنید. <i>(یک مورد اضافی است)</i> (الف) آخرین فرمانروای زندیه (ب) واگذاری امتیاز خرید و فروش تنباکوی ایران به مدت پنجاه سال (ج) دومین پادشاه قاجار (د) لقب این پادشاه وکیل‌الرعا یا بود. ۱- کریم‌خان زند ۲- فتحعلی شاه ۳- لطفعلی‌خان زند ۴- ناصرالدین شاه ۵- نادرشاه افشار
۰/۵	۲۴- عهدنامه پاریس که در سال ۱۲۷۳ قمری بسته شد و به موجب آن افغانستان از ایران جدا شد میان کدام کشورها منعقد شد؟ (الف) ایران و فرانسه <input type="checkbox"/> (ب) ایران و انگلیس <input type="checkbox"/> (ج) ایران و روسیه <input type="checkbox"/> (د) ایران و افغانستان <input type="checkbox"/>





؟		آزمون پایانی نوبت دوم- نمونه ۴ «هماهنگ استانی خردادماه ۹۵ لرستان»	؟
ردیف	بخش اجباری: دانش آموز عزیز لطفاً به همه سؤالات فصل هفتم تا دوازدهم پاسخ دهید.	بارم	
الف	درست یا نادرست بودن هر عبارت را مشخص کنید. ۱- اجتماعی شدن هم نیاز فرد و هم نیاز جامعه است. ۲- فرهنگ پدیده‌ای آموختنی نیست و از طریق ژن به ارث می‌رسد. ۳- نهاد بسیج مستضعفان باهدف دفاع از آرمان‌های انقلاب اسلامی و مرز و بوم کشور تشکیل شد. ۴- پس از لغو کاپیتولاسیون شاه اعلام کرد اصول شش‌گانه (انقلاب سفید) را به همه‌پرسی خواهد گذاشت.	۱	<input type="checkbox"/> ص <input type="checkbox"/> غ <input type="checkbox"/> ص <input type="checkbox"/> غ <input type="checkbox"/> ص <input type="checkbox"/> غ <input type="checkbox"/> ص <input type="checkbox"/> غ
ب	گزینه درست را با علامت (x) مشخص کنید. ۱- بر طبق قانون اساسی، مهم‌ترین رکن حکومت جمهوری اسلامی آن است. الف) قوه مقننه ب) رهبری ج) قوه قضاییه د) قوه مجریه ۲- اولین شرط بقای هر جامعه‌ای کدام است؟ الف) پیشرفت‌های اقتصادی ب) خودباوری ج) جمعیت د) رفع نیازهای مادی افراد ۳- مدیر یک کارخانه بیسکویت‌سازی قصد دارد با یک اقدام به بهره‌وری سبز کمک کند، کدام فعالیت برای این موضوع مناسب است؟ الف) میزان شکر بیسکویت‌ها را افزایش دهد. ب) پاداش کارگران را زیاد کند تا تولید بیشتر شود. ج) دستگاه پیشرفته‌ای بخرد که تعداد بیشتری در ساعت تولید کند. د) در بسته‌بندی تغییر ایجاد کند تا پلاستیک و کاغذ کمتری مصرف شود. ۴- مهم‌ترین خواسته مشروطه خواهان چه بود؟ الف) تأسیس عدالت‌خانه ب) آزادی مشروطه خواهان ج) برکناری مظفرالدین شاه د) برقراری نظم و امنیت در کشور	۲	
ج	به سؤالات زیر پاسخ دهید. ۱- از دیدگاه قرآن مهم‌ترین هدف ازدواج چیست؟ ۲- بهانه متفقین در شهریور ۱۳۲۰ برای اشغال ایران چه بود؟ ۳- دو مورد از مهم‌ترین ویژگی‌های مشترک جامعه ایرانی را نام ببرید. ۴- خانواده‌ها با چه روش‌هایی اعضای خود را اجتماعی می‌کنند؟ (دو مورد) ۵- رضاخان در جهت نوسازی ایران دست به چه اقداماتی زد؟ (۲ مورد) ۶- آثار و پیامدهای سیاسی و اجتماعی جنگ جهانی اول را در ایران بنویسید. (۲ مورد) ۷- دو مورد از مهم‌ترین وظایف و اختیارات رهبر جمهوری اسلامی را نام ببرید.	۰/۵ ۰/۵ ۰/۵ ۰/۵ ۰/۵ ۱ ۱	

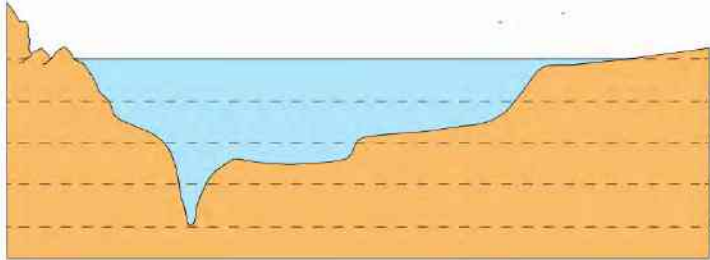




۱	۸- اساسی‌ترین تغییرات تصویب‌نامه انجمن‌های ایالتی و ولایتی را در زیر بنویسید. (الف) (ب)	
۱	۹- در جریان تسخیر سفارت آمریکا در ایران، شرایط دانشجویان برای آزادی گروگان‌ها چه بود؟	
۱	۱۰- ویژگی‌های انتسابی و اکتسابی هویت را با یکدیگر مقایسه کنید؟	
۱	۱۱- منظور از اقتصاد مقاومتی چیست؟ توضیح دهید.	
۱	۱۲- بر اساس قانون همه افراد حق انتخاب شغل دلخواه و کسب درآمد دارند، اگر فردی بخواهد در شهر و در حیاط یا پارکینگ خود دام پرورش دهد، به نظر شما آیا او مجاز به این کار هست؟ چرا؟	
۱	۱۳- از راهکارهای مهم بهره‌وری در زندگی فردی و خانوادگی دو مورد نام ببرید؟	
۰/۵	۱۴- رابطه بین گزینه‌ها را پیدا کرده و با خطی به هم وصل کنید. * قوانین و مقررات، آداب و رسوم * راستگویی خوب و دروغ‌گویی بد است * ارزش * نماد * هنجار	
۱	۱۵- چگونه می‌توان از بروز ناسازگاری‌ها در بین زن و مرد جلوگیری کرد؟ (دو مورد)	
بخش اختیاری: دانش‌آموزان عزیز لطفاً در این بخش از شش فصل فقط دو فصل انتخاب کنید و به سؤالات همان دو فصل پاسخ دهید.		
۰/۵	۱- درست یا نادرست بودن هر عبارت را مشخص کنید. (الف) سیاره‌های درونی منظومه خورشیدی از گازهای مختلف تشکیل شده‌اند. (ب) نیم‌دایره‌های فرضی که از قطب شمال تا قطب جنوب کشیده شده‌اند، نصف‌النهار نام دارند. صحیح <input type="checkbox"/> غلط <input type="checkbox"/> صحیح <input type="checkbox"/> غلط <input type="checkbox"/>	فصل اول
۰/۵	۲- اگر مسافری از تهران به نیویورک (کشور آمریکا) سفر کند، باید ساعت خود را جلو بکشد یا عقب؟ چرا؟	
۰/۵	۳- حرکت وضعی زمین چه نتیجه‌ای به همراه دارد؟	
۱	۴- سال کبیسه با سال رسمی چه تفاوتی دارد؟	
۰/۵	۵- تشکیل ابر و بسیاری از تغییرات آب و هوایی در کدام لایه هوا کره صورت می‌گیرد؟ (الف) استراتوسفر <input type="checkbox"/> (ب) تروپوسفر <input type="checkbox"/> (ج) مزوسفر <input type="checkbox"/> (د) اگزوسفر <input type="checkbox"/>	فصل دوم
۰/۵	۶- دو مورد از پیامدهای ناخوشایند گرم شدن کره زمین را بنویسید.	
۰/۵	۷- گسل چگونه بوجود می‌آید؟	



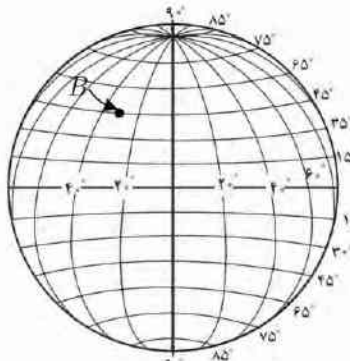


۱	<p>۸- بر روی تصویر زیر:</p> <p>- گودال اقیانوسی، شیب قاره و فلات قاره را با علامت (x) مشخص کنید و بنویسید.</p> <p>- در کدامیک از این سه منطقه منابع نفت و گاز زیادی وجود دارد؟</p> 	
۱	<p>۹- به نظر شما برای استفاده صحیح و خردمندانه از منابع طبیعی (در موضوع جنگل‌های استوایی) چه نکاتی را باید رعایت کنیم؟ (دو مورد)</p>	فصل سوم
۱/۵	<p>۱۰- من چه زیست بومی هستم:</p> <p>(الف) در این ناحیه فقط گیاهان خزه و گل‌سنگ می‌تواند بروید.</p> <p>(ب) آب و هوا در طول سال گرم است و درختان باثواب از گونه‌های مشهور این ناحیه است.</p> <p>(ج) در این منطقه هوا همیشه گرم و رطوبت حدود ۸۰ درصد و میزان بارش سالانه ۲۵۰۰ میلی‌متر است.</p>	
۱	<p>۱۱- عوامل داخلی نابرابری در جهان را نام ببرید؟ (۴ مورد)</p>	فصل چهارم
۱/۵	<p>۱۲- مهاجرت داخلی چه تفاوتی با مهاجرت خارجی دارد؟ برای هر مورد مثالی بزنید.</p>	
۰/۵	<p>۱۳- درست یا نادرست بودن هر عبارت را مشخص کنید.</p> <p>(الف) شاه تهماسب پایتخت خود را از تبریز به اصفهان انتقال داد.</p> <p>(ب) شکست ایران در جنگ چالدران در زمان شاه اسماعیل صفوی اتفاق افتاد.</p>	فصل پنجم
۱	<p>۱۴- دو مورد از اقدامات شاه اسماعیل پس از تاجگذاری را بنویسید.</p>	
۱	<p>۱۵- دلایل گسترش تجارت داخلی و خارجی در دوره صفویه چه بوده است؟ (دو مورد)</p>	
۰/۵	<p>۱۶- در مورد کریم‌خان به سؤالات زیر پاسخ دهید؟</p> <p>(الف) چه سلسله‌ای را تأسیس کرد؟</p> <p>(ب) به جای عنوان پادشاه خود را چه نامید؟</p>	فصل ششم
۱	<p>۱۷- چرا ناصرالدین شاه مجبور شد امتیاز تنباکو را که به شرکت انگلیسی واگذار کرده بود، لغو کند؟</p>	
۱	<p>۱۸- چرا امیرکبیر مدرسه دارالفنون را تأسیس کرد؟</p>	





آزمون پایانی نوبت دوم- نمونه ۵ «آزمون هماهنگ استانی خردادماه ۹۵ خراسان رضوی»

ردیف	بخش انتخابی: لطفاً ۲ فصل از این بخش را انتخاب کرده و به سؤالات همان فصل جواب دهید.	بارم			
فصل اول	۱- درستی یا نادرستی جملات زیر را با علامت (x) مشخص کنید. الف) مدارهای کره زمین بین ۰ تا ۹۰ درجه شرقی و غربی تقسیم شده‌اند. ب) کشور ایران با توجه به نصف‌النهار مبدأ، در نیمکره شمالی قرار دارد. ج) زمین جزو سیارات درونی منظومه شمسی محسوب می‌شود.	۱/۵			
	۲- اختلاف ساعت در نصف‌النهارهای کره زمین، در نتیجه کدام مورد است؟ الف) حرکت وضعی زمین <input type="checkbox"/> ب) وجود ساعات رسمی <input type="checkbox"/> ج) نزدیکی به خط استوا <input type="checkbox"/> د) مایل بودن محور قطبها <input type="checkbox"/>	۰/۵			
	۳- مختصات جغرافیایی نقطه (B) را با استفاده از شکل زیر مشخص کنید و علائم اختصاری آن را بنویسید.  عرض جغرافیایی نقطه B:	۰/۵			
فصل دوم	۴- واژگان درست را از جدول زیر انتخاب کرده و در مقابل تعریف‌های داده شده بنویسید. (یک واژه اضافه است) <table border="1" data-bbox="518 1159 1125 1202"> <tr> <td>سنگ‌کره</td> <td>فلات</td> <td>گسل</td> </tr> </table> الف) بخش خارجی کره زمین که حالت جامد دارد. ب) شکستگی‌های لایه‌های رسوبی که با اختلاف همراه است.	سنگ‌کره	فلات	گسل	۱
	سنگ‌کره	فلات	گسل		
	۵- اقیانوس‌ها به‌طور غیرمستقیم، منبع تأمین آب شیرین برای ساکنان جهان هستند. ص <input type="checkbox"/> غ <input type="checkbox"/>	۰/۵			
۶- چرا در نواحی مرتفع، دما پایین‌تر از نواحی پست است؟	۱				
فصل سوم	۷- بخش عمده‌ای از بیابان‌های گرم و خشک جهان، در مجاورت مدار رأس‌السرطان و رأس‌الجدی واقع شده‌اند. ص <input type="checkbox"/> غ <input type="checkbox"/>	۰/۵			
	۸- با توجه به توضیحات زیر، نام زیست‌بوم هر مورد را از جدول انتخاب کرده و در مقابل آن بنویسید. (یک مورد اضافه است) <table border="1" data-bbox="454 1596 1189 1649"> <tr> <td>سوان</td> <td>تایگا</td> <td>جنگل‌های بارانی استوایی</td> </tr> </table> الف) در این منطقه هوا همیشه گرم است و بیشترین تنوع زیستی در جهان دارد. ب) درختان بائوباب از گونه‌های گیاهی مشهور این زیست‌بوم است.	سوان	تایگا	جنگل‌های بارانی استوایی	۱
	سوان	تایگا	جنگل‌های بارانی استوایی		
۹- عمل جنگل‌زدایی، چه نقشی در گرم‌تر شدن کره زمین دارد؟	۱				
فصل چهارم	۱۰- برای محاسبه شاخص رشد اقتصادی، کدام مورد زیر اندازه‌گیری می‌شود؟ الف) درصد شهرنشینی <input type="checkbox"/> ب) درآمد سرانه <input type="checkbox"/> ج) سواد و آموزش <input type="checkbox"/> د) رشد طبیعی جمعیت <input type="checkbox"/>	۰/۵			
	۱۱- اصطلاح (امید به زندگی) در شاخص‌های توسعه انسانی، به چه معناست؟ و نشان‌دهنده چه چیزی در جامعه است؟	۱			
	۱۲- تحلیل کنید بحران‌های سیاسی و جنگ‌ها، چه تأثیری بر شاخص توسعه انسانی دارد.	۱			





فصل پنجم					
۰/۵	۱۳- هنگام به قدرت رسیدن صفویان، چه کسانی از ماوراءالنهر به مرزهای ایران حمله می‌کردند؟ (الف) شروانشاهان <input type="checkbox"/> (ب) ازبک‌ها <input type="checkbox"/> (ج) عثمانی‌ها <input type="checkbox"/> (د) آق قویونلوها <input type="checkbox"/>				
۱	۱۴- شاه تهماسب پایتخت صفویان را به کدام شهر انتقال داد؟ علت این اقدام وی را توضیح دهید.				
۱	۱۵- شاه عباس اول چگونه توانست جزایر ایران را از پرتغالی‌ها پس بگیرد؟				
۱	۱۶- در جدول زیر اقدامات میرزا تقی‌خان امیرکبیر در زمینه‌های داده شده، بنویسید. <table border="1" style="width: 100%; border-collapse: collapse;"> <tr> <td style="width: 50%; text-align: center;">(الف) سیاست خارجی</td> <td style="width: 50%;"></td> </tr> <tr> <td style="width: 50%; text-align: center;">(ب) توسعه علمی و فرهنگی</td> <td style="width: 50%;"></td> </tr> </table>	(الف) سیاست خارجی		(ب) توسعه علمی و فرهنگی	
(الف) سیاست خارجی					
(ب) توسعه علمی و فرهنگی					
فصل ششم					
۱	۱۷- با توجه به توضیحات زیر، نام هر قرارداد و امتیاز را مقابل آن بنویسید. (یک مورد اضافه است) <table border="1" style="width: 100%; border-collapse: collapse;"> <tr> <td style="width: 33%; text-align: center;">تالبوت</td> <td style="width: 33%; text-align: center;">ترکمان چای</td> <td style="width: 33%; text-align: center;">گلستان</td> </tr> </table> (الف) ایران از کشتیرانی در دریای مازندران محروم گردید. (ب) به سبب فتوای آیت‌الله میرزا حسن شیرازی لغو شد.	تالبوت	ترکمان چای	گلستان	
تالبوت	ترکمان چای	گلستان			
۰/۵	۱۸- من کیستم؟ (فعالیت‌های علمی و فرهنگی را در شهر شیراز رونق دادم. با مردم به مهربانی رفتار می‌کردم و به آسایش عمومی اهمیت می‌دادم و با استفاده از شیوه‌های مسالمت‌آمیز از شورش‌های داخلی جلوگیری کردم.)				
بخش اجباری: دانش‌آموز عزیز در (بخش اجباری)، به تمام سوالات از سؤال ۱۹ تا ۳۳ به‌طور کامل پاسخ دهید.					
۰/۵	درستی یا نادرستی جملات زیر را با علامت (x) مشخص کنید. ۱۹- ویژگی‌های انتسابی هویت هر فرد، همیشه ثابت هستند. ص <input type="checkbox"/> غ <input type="checkbox"/>				
۰/۵	۲۰- امام خمینی (ره) به علت مخالفت با کدام تصویب‌نامه، به ترکیه تبعید شد؟ (الف) انجمن‌های ایالتی ولایتی <input type="checkbox"/> (ب) قرارداد ۱۹۱۹ <input type="checkbox"/> (ج) کاپیتولاسیون <input type="checkbox"/> (د) اصول شش‌گانه <input type="checkbox"/>				
۰/۵	۲۲- کدام مورد از وظایف و اختیارات رهبر جمهوری اسلامی ایران نیست؟ (الف) فرماندهی کل نیروهای مسلح <input type="checkbox"/> (ب) تعیین سیاست‌های کلی نظام <input type="checkbox"/> (ج) عفو یا تخفیف مجازات محکومان <input type="checkbox"/> (د) تصویب اصول برنامه‌های فرهنگی <input type="checkbox"/>				
۰/۵	۲۲- مطابق قانون اساسی، در انتخابات کدام مورد، مردم به‌طور غیرمستقیم رأی می‌دهند؟ (الف) رئیس‌جمهور <input type="checkbox"/> (ب) نمایندگان مجلس شورای اسلامی <input type="checkbox"/> (ج) رهبری <input type="checkbox"/> (د) اعضای مجلس خبرگان <input type="checkbox"/>				
۱	موارد مرتبط باهم را با کشیدن یک خط به یکدیگر وصل کنید. (یک مورد اضافه است) ۲۳- هرکدام از وقایع زیر در چه تاریخی اتفاق افتاده است؟ <table style="width: 100%;"> <tr> <td style="width: 50%;"> <ul style="list-style-type: none"> • نتیجه همه‌پرسی تعیین نظام سیاسی • اعتراض به انتشار مقاله توهین‌آمیز روزنامه اطلاعات </td> <td style="width: 50%;"> <ul style="list-style-type: none"> • قیام ۱۹ دی قم • ۱۲ فروردین ۱۳۵۸ • ۱۷ شهریور ۱۳۵۷ </td> </tr> </table>	<ul style="list-style-type: none"> • نتیجه همه‌پرسی تعیین نظام سیاسی • اعتراض به انتشار مقاله توهین‌آمیز روزنامه اطلاعات 	<ul style="list-style-type: none"> • قیام ۱۹ دی قم • ۱۲ فروردین ۱۳۵۸ • ۱۷ شهریور ۱۳۵۷ 		
<ul style="list-style-type: none"> • نتیجه همه‌پرسی تعیین نظام سیاسی • اعتراض به انتشار مقاله توهین‌آمیز روزنامه اطلاعات 	<ul style="list-style-type: none"> • قیام ۱۹ دی قم • ۱۲ فروردین ۱۳۵۸ • ۱۷ شهریور ۱۳۵۷ 				
۲	۲۴- هرکدام از مثال‌های زیر مربوط به کدام واژه است؟ <table style="width: 100%;"> <tr> <td style="width: 50%;"> <ul style="list-style-type: none"> • برگزاری جشن عید نوروز در ایران • آموزش نحوه سلام و احوال‌پرسی توسط پدر و مادر • رنگ قرمز چراغ راهنمایی و رانندگی • صرفه‌جویی در مصرف آب </td> <td style="width: 50%;"> <ul style="list-style-type: none"> • ارزش • عقاید • نماد • جامعه‌پذیری • فرهنگ </td> </tr> </table>	<ul style="list-style-type: none"> • برگزاری جشن عید نوروز در ایران • آموزش نحوه سلام و احوال‌پرسی توسط پدر و مادر • رنگ قرمز چراغ راهنمایی و رانندگی • صرفه‌جویی در مصرف آب 	<ul style="list-style-type: none"> • ارزش • عقاید • نماد • جامعه‌پذیری • فرهنگ 		
<ul style="list-style-type: none"> • برگزاری جشن عید نوروز در ایران • آموزش نحوه سلام و احوال‌پرسی توسط پدر و مادر • رنگ قرمز چراغ راهنمایی و رانندگی • صرفه‌جویی در مصرف آب 	<ul style="list-style-type: none"> • ارزش • عقاید • نماد • جامعه‌پذیری • فرهنگ 				





۱/۵	موارد خواسته شده را در جدول بنویسید.		
	۲۵- در هر زمینه، یک مورد از علل وقوع انقلاب مشروطه را در جدول زیر بنویسید.		
	سیاسی	اقتصادی	فرهنگی
۱	۲۶- هرکدام از توضیحات زیر مربوط به کدام شخصیت داده شده است؟ (یک مورد اضافه است) (ستارخان - رئیس‌علی دلواری - عین الدوله) الف) فرمانده دلبران تنگستانی بود. (.....) ب) بازرگانان را به چوب بست. (.....)		
۱	به سؤالات زیر پاسخ کوتاه بدهید. ۲۷- در ارتباط با جنگ جهانی دوم به سؤالات زیر پاسخ کوتاه بدهید. الف) کشورهای انگلیس، فرانسه، شوروی و آمریکا به چه نامی خوانده می‌شدند؟ ب) هدف اشغال ایران توسط کشور آلمان چه بود؟		
۱/۵	۲۸- درباره حکومت جمهوری اسلامی ایران، به سؤالات زیر پاسخ کوتاه بدهید. الف) کلمه جمهوری، نشان‌دهنده ویژگی این حکومت است؟ ب) زمامداران آن باید متعهد به اجرای چه چیزی باشند؟ ج) اصل پنجم قانون اساسی، سرپرستی جامعه را بر عهده چه کسی می‌داند؟		
۱	به سؤالات زیر پاسخ کامل بدهید. ۲۹- هنجار را تعریف کنید و یک مورد از دلایل پیروی از آن‌ها را بنویسید.		
۱	۳۰- اولین شرط بقای هر جامعه چیست؟ علت آن را توضیح دهید.		
۱	۳۱- خانم غلامی شاغل است و باید ساعاتی را بیرون منزل باشد، اما همسر وی با این موضوع مخالفت می‌کند. توضیح دهید کدام عامل باعث این ناسازگاری شده است و چگونه می‌توان از بروز آن جلوگیری کرد؟		
۱	۳۲- دو مورد از وظایف حکومت‌ها را بنویسید.		
۱	۳۳- آقای هدایتی یک مزرعه گندم دارد. چگونه می‌تواند با مصرف آب کمتر، بهره‌وری را در کشاورزی بیشتر کند؟		





پاسخ آزمون شماره «۱»

بخش اجباری:

- ۱- گزینه ب
- ۲- الف) (ب)
- ۳- ایران را میان خود تقسیم کردند.
- ۴- الف) مجبور کردن مردم که لباس یکسانی به تن کنند. (ب) گذاشتن کلاه لبه‌داری (مشهور به کلاه پهلوی) (ج) محدودیت برای انجام مراسم مذهبی از جمله عزاداری امام حسین (ع) (د) کشف حجاب
- ۵- گزینه الف
- ۶- الف) وابستگی به بیگانگان (ب) نفوذ و دخالت کشورهای خارجی به‌ویژه آمریکا در امور ایران (ج) استبداد و سرکوب (د) رعایت نکردن حقوق ملت (ج) نادیده گرفتن اصول قانون اساسی مشروطه
- ۷- استقلال، آزادی، جمهوری اسلامی
- ۸- الف) ایجاد شورش و ناامنی (ب) ترور شخصیت‌ها و مردم انقلابی (پ) اقدامات نظامی
- ۹- الف) ارزش (ب) نماد (ج) هنجار (د) فرهنگ
- ۱۰- انتسابی: مکان تولد، جنسیت - اکتسابی: صفات اخلاقی، ثروت
- ۱۱- به ترتیب: سرزمین یا مکان - زبان مشترک - دین یا مسلمان بودن - فرهنگ یا تاریخ
- ۱۲- فرزند آوری و تجدید نسل - محبت - مراقبت - رفع نیازهای مادی - جامعه‌پذیری - تربیت
- ۱۳- مراجعه به مشاور مدرسه، ترتیب دادن جلسه با روانشناس و...
- ۱۴- مهر و محبت میان خویشاوندان بیشتر می‌شود - از حال همدیگر باخبر می‌شویم - رفع مشکلات مالی خویشاوندان
- ۱۵- گفت‌وگو - تشویق - تنبیه
- ۱۶- رهبری
- ۱۷- الف) (ب)
- ۱۸- مالیات مبلغی است که شهروندان بر اساس قانون و به‌صورت بلاعوض به دولت پرداخت می‌کنند تا صرف هزینه‌های عمومی کشور شود؛ اما عوارض مبلغی است که شهروندان در مقابل دریافت خدمتی از دستگاه‌های اداری و دولتی به آن‌ها می‌پردازند. برای مثال پولی که بابت امتیاز کنترل آب و برق پرداخت می‌شود.
- ۱۹- شرکت در انتخابات - عضویت و همکاری در احزاب و انجمن‌های سیاسی - شرکت در راهپیمایی‌ها و تظاهرات
- ۲۰- برای نمونه: عدم برگزاری مجالس و جشن‌های پر هزینه در تالار - رفتن به ماه‌عسل به‌جای برگزاری جشن عروسی
- ۲۱- استفاده مناسب از وقت و زمان - نظم، ترتیب و انضباط در کارها - اصلاح عادت‌های غلط مصرفی - انجام دادن کارها از روی آگاهی - تنظیم جدول بودجه
- ۲۲- اقتصاد مقاومتی یعنی در شرایط سخت بتوانیم کمترین اتلاف هزینه را داشته باشیم، روی پای خود بایستیم، از تولید ملی حمایت کنیم، از اسراف بپرهیزیم و از منابع و امکانات حداکثر استفاده را بکنیم.
- ۲۳- گزینه د

بخش اختیاری:

- ۱- گزینه د
- ۲- در یک ثانیه ۳۰ کیلومتر است. پس در یک دقیقه که ۶۰ ثانیه است می‌شود: $۳۰ \times ۶۰ = ۱۸۰۰$
یک ساعت نیز ۶۰ دقیقه است پس: $۱۸۰۰ \times ۶۰ = ۱۰۸۰۰۰$
- ۳- الف) صحیح (ب) صحیح
- ۴- جهت انجام فرایض دینی نشان دادن اوقات شرعی مثل نماز خواندن و... کاربردهای محلی و مذهبی دیگر مانند: شروع ماه بر اساس استهلال واقعی
- ۵- الف: طول: ۶۰ درجه شرقی ب: عرض: ۱۵ درجه جنوبی.
- ۶- گزینه الف
- ۷- از صید بی‌رویه و انبوه ماهی‌ها خودداری کنیم - از ریختن زباله‌های سمی، پلاستیک و... به اقیانوس‌ها خودداری کنیم و...
- ۸- ۱- فشار زیاد آب ۲- تاریکی اعماق آب ۳- عدم وجود تجهیزات کافی





- ۹- به ترتیب: حرکات کوهزایی - بر اثر شکستگی یا گسل - بالا آمدن مواد مذاب
- ۱۰- الف) تایگا (ب) ساوان (ج) بیابان (د) جنگل‌های استوایی
- ۱۱- باید بین استفاده اقتصادی از منابع جنگل‌ها و فرصت بازسازی آن‌ها تعادل به وجود بیاید. کشاورزی و دامپروری با روش‌های علمی و جدید، که کمترین آسیب را به محیط زیست می‌رسانند، به کشاورزان این منطقه آموزش بدهند. با ایجاد پارک‌های وحش از گونه‌های جانوری و گیاهی در معرض خطر مراقبت کنند تا نسل آن‌ها منقرض نشود.
- ۱۲- دما و بارش
- ۱۳- ایجاد پارک‌های وحش - برخورد شدید و مجازات شکارچیان فیل جهت جلوگیری از تکرار توسط افراد دیگر و...
- ۱۴- با تولید ناخالص داخلی و درآمد سرانه
- ۱۵- در مهاجرت اختیاری، افراد با میل و تصمیم خود برای دستیابی به زندگی بهتر به جای دیگری مهاجرت می‌کنند. یکی از عظیم‌ترین مهاجرت‌های بشر در قرن نوزدهم و بیستم مهاجرت اختیاری بیش از صد میلیون نفر از مردم قاره اروپا به سرزمین‌های جدید، یعنی آمریکای شمالی و جنوبی و استرالیا و سکونت در آنجا برای دستیابی به منابع بیشتر و فرصت‌های بهتر زندگی بوده است. در مهاجرت اجباری، افراد بدون میل خود و به دلیل عواملی چون قحطی، خشک‌سالی و دیگر حوادث طبیعی و یا جنگ‌ها و درگیری‌های سیاسی مجبور به ترک محل زندگی خود می‌شوند؛ مانند مهاجرت اجباری مردم فلسطین از سرزمین‌های اشغالی یا مهاجرت گروهی از افغان‌ها یا عراقی‌ها به کشورهای همسایه به دلیل شرایط جنگ و اشغال نظامی
- ۱۶- جنگ‌های تحمیلی داخلی - سوءتغذیه - کمبود آب آشامیدنی - کمبود پزشک و دارو
- ۱۷- اعطای جایزه و کمک‌های مالی به خانواده‌هایی که صاحب فرزند می‌شوند - واگذاری مسکن - مرخصی زایمان
- ۱۸- الف) (ب) (ج)
- ۱۹- یکپارچه بودن سرزمین ایران - وجود نظم و امنیت - ایجاد شبکه وسیعی از راه‌ها و کاروانسراها در سراسر ایران - اقامت رایگان بازرگانان و مسافران در کاروانسراها - رفتار پسندیده مأموران راهداری با مسافران و...
- ۲۰- سیاسی: وجود دشمن مشترک یعنی دولت عثمانی بین ایران و اروپا - اقتصادی: شرکت‌های بزرگ تجاری اروپایی تمایل داشتند که روابط تجاری خود را با ایران گسترش دهند.
- ۲۱- گزینه الف
- ۲۲- پس از اینکه ناصرالدین شاه به خواسته مخالفان اعتنایی نکرد، آیت‌الله میرزا حسن شیرازی، مرجع تقلید شیعیان در سامرا، در حمایت از نهضت، استفاده از توتون و تنباکو را حرام اعلام کرد. این حکم شرعی سبب شد که مردم و حتی کارکنان کاخ ناصرالدین شاه قلیان‌ها را بشکنند و مقدار زیادی توتون و تنباکو را به آتش بکشند. با اوج گرفتن نهضت، ناصرالدین شاه مجبور به لغو امتیاز شد.
- ۲۳- با تشکیل دولت افغانستان بهتر بتواند از مستعمره خود یعنی هندوستان حفاظت کند و مانع نفوذ کشورهای رقیب (روسیه و فرانسه) از طریق ایران به هندوستان شوند.
- ۲۴- امیر کبیر

پاسخ آزمون شماره «۲»

بخش اجباری:

- ۱- گزینه د
- ۲- زمین در هر ۲۴ ساعت یک بار به دور محور خود می‌چرخد که به آن حرکت وضعی می‌گویند.
- ۳- انواع سیارات: بیرونی مدار گردش: کوچکتر جنس: گازهای مختلف
- ۴- گزینه ب
- ۵- به دلیل فشار بسیار زیاد آب - تاریکی و دمای کم در اعماق آب و نبودن وسایل و تجهیزات پیشرفته
- ۶- ذوب شدن یخ‌های قطبی، بالا آمدن آب دریا، به زیر آب رفتن نواحی ساحلی و جزیره‌ها یا وقوع خشک‌سالی در نواحی گرم و خشک و...
- ۷- الف) توندرا (ب) ساوان (ج) تایگا
- ۸- آب‌وهوا، شکل ناهمواری‌ها، میزان ارتفاع و جنس خاک
- ۹- ۱- باید بین استفاده اقتصادی از جنگل‌ها و فرصت بازسازی آن‌ها تعادل به وجود آید. ۲- کشاورزی و دامپروری با روش‌های علمی و جدید به کشاورزان آموزش داده شود. ۳- با ایجاد پارک‌های وحش از گونه‌های جانوری و گیاهی در معرض خطر مراقبت کنند تا نسل‌های آنان منقرض نشود.
- ۱۰- گزینه الف
- ۱۱- الف) داخلی: مهاجرت روستاییان شهرها یا مهاجرت کارگران فصلی در داخل یک کشور
ب) اجباری: مهاجرت اجباری مردم فلسطین - مهاجرت گروهی از افغان‌ها یا عراقی‌ها به کشورهای همسایه





۱۲- جنگ‌ها و کشمکش‌های داخلی- فرهنگ و باورها غلط- بی‌سوادی و ناآگاهی مردم- غفلت از استعدادها و فرهنگ خود- نداشتن ایمان و پشتکار و اراده برای تغییر وضع - نبودن وحدت و مشارکت بین مردم.

۱۳- الف) مورد ۲ «شاه اسماعیل» ب) مورد ۴ شاه تهماسب «(اول)» ج) مورد ۱ «شاه عباس»

۱۴- یکپارچه بودن سرزمین ایران- وجود نظم و امنیت در سراسر کشور- ایجاد راه‌ها و کاروانسراها

۱۵- الف) ناخشنودی سلطان عثمانی با شکل‌گیری سلسله قدرتمند و شیعه مذهب

ب) استفاده عثمانی‌ها از سلاح‌های آتشین مانند توپ و تفنگ

۱۶- کریم‌خان زند

۱۷- برقراری امنیت و آرامش در کشور- مبارزه با فساد اقتصادی- تأسیس مدرسه دارالفنون- استخدام معلمان از کشورهایی به جز روسیه و انگلستان برای تدریس در دارالفنون

۱۸- عهدنامه ترکمان چای

بخش اختیاری:

۱- گزینه ج

۲- متفقین حضور تعدادی آلمانی را در ایران بهانه قرار دادند و کشور ما را به اشغال خود در آوردند.

۳- الف) صحیح ب) غلط ج) صحیح

۴- گزینه ج

۵- سپاه پاسداران- بسیج مستضعفان

۶- از بین بردن زمینه‌های قیام‌های مردمی- حفظ حکومت پهلوی

۷- الف) تاریخ (زمان) ب) سرزمین (مکان)

۸- الف) نماد: نشانه یا نماینده یک پدیده دیگر است. ب) فرهنگ: شیوه مشترک زندگی در یک جامعه

۹- الف) اجتماعی ب) روانی

۱۰- گزینه د

۱۱- دید و بازدید و اطلاع از حال دیگران- افزایش طول عمر- کاهش مشکلات خانواده‌های نیازمند در بین اقوام و نزدیکان - همفکری و استفاده از تجربیات خانواده‌ها در امور مختلف

۱۲- کودکان از داشتن هم‌بازی محروم می‌شوند- رقابت و بازی‌ها و دعواهای کودکانه و الگوبرداری از رفتارهای خواهر و برادر شکل نمی‌گیرد-. کودکان همواره با افراد بزرگ‌سال در ارتباط‌اند.

۱۳- الف) رهبری ب) ولایت ج) قضایی

۱۴- الف) رهبر ب) شهروندان ج) حکومت

۱۵- چون فقط خداوند بر همه استعدادها و توانایی‌های انسان آگاه است و خود آن‌ها را خلق کرده، پس فقط اوست که می‌تواند بر انسان‌ها حکومت کند، چون مالک کل هستی است.

۱۶- گزینه الف

۱۷- استفاده مناسب از وقت و زمان- نظم، ترتیب و انضباط در کارها- اصلاح عادت‌های غلط مصرفی- انجام دادن کارها از روی آگاهی- تنظیم جدول بودجه اقتصادی

۱۸- یعنی استفاده از ابزارها، روش‌ها و فناوری‌های مختلف به‌طوری که تأثیرات مضر و منفی فعالیت‌های صنعتی و اقتصادی بر محیط‌زیست به حداقل ممکن برسد.

پاسخ آزمون شماره «۳»

بخش اجباری:

۱- گزینه ج

۲- گزینه الف

۳- دو رهبر: ستارخان و باقرخان- دو کشور: ایتالیا و ژاپن

۴- در اختیار مستشاران انگلیسی قرار می‌گرفت.

۵-

۶- لغو شرط مسلمان بودن برای انتخاب کنندگان و انتخاب شوندگان - لغو سوگند به قرآن برای انتخاب شوندگان و تبدیل آن به سوگند به کتاب آسمانی





۷- گزینه د

۸- ایجاد شورش و ناامنی- ترور شخصیت‌ها و مردم انقلابی - جنگ تحمیلی

۹- گزینه ب

۱۰- الف) زبان مشترک - ب) هویت ملی - ج) تأثیر ابعاد هویت بر هم - د) هنجار

۱۱-

۱۲- هویت فردی: قد که یک هویت جسمانی است - ویژگی اکتسابی: استفاده از هویت فردی در شکل‌دهی به هویت اجتماعی، جسمانی و روانی

۱۳- فرزند آوری و تجدید نسل - حمایت و مراقبت عاطفی و اقتصادی - جامعه‌پذیری و تربیت اعضای خانواده

۱۴- گزینه ب

۱۵- آموزش خانواده قبل از ازدواج - مشاوره قبل از انتخاب همسر- رعایت اخلاق و آداب همسررداری از سوی زن و شوهر - گفتگوی صمیمانه زن و شوهر با یکدیگر برای حل مشکلات و پیدا کردن راه‌حل مناسب و...

۱۶- عمل نکردن به فرایض دینی- رفت‌وآمدهای با دوستانه‌های نه‌چندان مناسب و...

۱۷- وضع قوانین و مقررات لازم در امور مختلف - اجرای قوانین - برقراری نظم و امنیت - رسیدگی به اختلافات و شکایت‌ها - تعلیم و تربیت - حفظ میراث فرهنگی- سیاست‌گذاری فرهنگی- عمران و آبادانی کشور- دفاع از کشور- مدیریت منابع طبیعی و ثروت‌های عمومی- حمایت از گروه‌های خاص و نیازمند

۱۸- گزینه د

۱۹- گزینه ب

۲۰- رعایت قوانین یکی از تکالیف است.

۲۱-

۲۲- گزینه ب

۲۳- مجموعه فعالیت‌ها و روابطی که حول تولید و مصرف کالاها و خدمات و بر اساس قواعد و مقررات خاص در یک جامعه شکل می‌گیرد، نهاد اقتصاد را به وجود می‌آورد.

۲۴- کشور ما در مقایسه با برخی از کشورها از نظر بهره‌وری وضعیت چندان مطلوبی ندارد.

بخش اختیاری:

۱- گزینه ج

۲- گزینه ب

۳- نقطه A: ۴۰ درجه شرقی - نقطه B: ۱۵ درجه جنوبی

۴- گزینه الف

۵-

۶-

۷- زاویه تابش خورشید و عرض جغرافیایی- دوری و نزدیکی به اقیانوس‌ها و دریاها - ارتفاع از سطح زمین- فشار هوا و جریان باد

۸- الف) گسل ب) آتشفشان ج) چین‌خوردگی د) کوه‌های گنبدی شکل

۹- پیامدهایی مانند: ذوب شدن یخ‌های قطبی- بالا آمدن آب دریا- به زیر آب رفتن نواحی ساحلی و جزیره‌ها- افزایش و طولانی شدن دوره‌های خشک‌سالی افزایش سیلاب و...

۱۰- ایجاد و گسترش شهرها و روستاها، ساختن پل، جاده، ساختمان‌ها و سد‌ها بدون برنامه‌ریزی و توجه به جنبه‌های زیست‌محیطی- فعالیت‌های صنعتی و تولید انبوه کالاها در کارخانه‌ها - مصرف‌گرایی و تولید انبوه زباله - شکار و تجارت اعضای بدن حیوانات

۱۱- گزینه ب

۱۲- الف) ساوان ب) جنگل‌های بارانی استوایی ج) تایگا د) توندرا

۱۳- گزینه ج

۱۴- این نوع مهاجرت اجباری است.

۱۵- حکومت‌های وابسته و ستمگر- جنگ‌ها و کشمکش‌های داخلی- فرهنگ و باورهای غلط- بی‌سوادی و ناآگاهی مردم غفلت از استعدادها و فرهنگ خود- نداشتن ایمان و پشتکار و اراده برای تغییر وضع - نبودن وحدت و مشارکت بین مردم

۱۶- نواحی دارای معادن و ذخایر زیر زمینی مانند زغال‌سنگ، نفت و گاز و آهن و مس به دلیل اینکه قابلیت گسترش صنایع وابسته به این معادن را دارند، جاذب جمعیت‌اند.

۱۷- گزینه ج

۱۸- گزینه الف





۱۹- گزینه ج

۲۰- هنگام به قدرت رسیدن صفویان، کشور ما حکومت واحد و قدرتمندی نداشت و دچار تفرقه و تجزیه شده بود. در آن زمان، حاکمان بخش‌های مختلف ایران باهم در جنگ بودند. به همین دلیل امنیت و آرامش از بین رفته و امور کشور مختل شده بود. همچنین عثمانی‌ها و ازبک‌ها نیز به مرزها ایران می‌تاختند.

۲۱- - بر اساس عهدنامه ترکمن‌چای

۲۲- گزینه د - صفحه ۷۴

۲۳- الف) لطفعلی‌خان (ب) ناصرالدین شاه (ج) فتحعلی شاه (د) کریم‌خان زند

۲۴- گزینه ب

پاسخ آزمون شماره «۴»

بخش اجباری:

الف) ۱-

۲-

۳-

۴-

ب) ۱- گزینه «۲»

۲- گزینه «۳»

۳- گزینه «۴»

۴- گزینه «۱»

ج)

۱- برقراری آرامش و محبت بین زن و مرد

۲- حضور شماری از آلمان‌ها در ایران

۳- ما در سرزمین ایران زندگی می‌کنیم- ما مسلمانیم- ما تاریخ طولانی و میراث فرهنگی غنی داریم - زبان مشترک ما فارسی است - انقلاب اسلامی نمایانگر آرمان‌ها والای جامعه ماست.

۴- گفت‌وگو- تشویق- تنبیه

۵- نوسازی تشکیلات نظامی- گسترش مدارس و مراکز آموزشی در شهرهای مختلف- دانشگاه تهران را بنیان نهاد- توسعه راه‌های شوسه- احداث راه‌آهن- به وجود آوردن مراکز صنعتی و مؤسسات متعدد در کشور

۶- موجب بی‌ثباتی و آشفتگی بیشتر ایران شد. دولت مرکزی به نهایت ضعف و درماندگی رسید و تسلط خود را بر امور کشور از دست داد، نافرمانی و سرپیچی از فرمان حکومت مرکزی گسترش یافت، امنیت و آسایش مردم از بین رفت. ایران دچار بلایا و مصیبت‌های بزرگ‌تر مانند قحطی، گرسنگی، شیوع بیماری‌های واگیردار شد. افراد زیادی جان خود را از دست دادند. ۴ مورد کافی است.

۷- فرماندهی کل نیروهای مسلح - تعیین سیاست‌های کلی نظام و نظارت بر حسن اجرای آن‌ها- عفو یا تخفیف مجازات محکومان در حدود موازین اسلامی - نصب و عزل و قبول استعفاى فقهای شورای نگهبان، رئیس قوه قضاییه، صداوسیما و... (۲ مورد کافی است)

۸- الف) لغو شرط مسلمان بودن برای انتخاب‌کنندگان و انتخاب شوندگان

ب) لغو سوگند به قرآن از سوی انتخاب شوندگان و تبدیل آن به سوگند به کتب آسمانی

۹- چنانچه آمریکا شاه را تحویل دهد و متعهد شود در امور داخلی ایران دخالت نکند.

۱۰- ویژگی‌های هویتی مانند جنسیت، مکان تولد، پدر و مادر که ما در پیدایش آن‌ها نقشی نداریم انتسابی و ویژگی‌های هویتی که خود فرد در به وجود آمدن آن‌ها نقش دارد مانند صفات اخلاقی یا ویژگی‌های اجتماعی را اکتسابی می‌گویند.

۱۱- یعنی در شرایط سخت بتوانیم کمترین هزینه را داشته باشیم، روی پای خود بایستیم. از تولید حمایت کنیم. از اسراف بپرهیزیم و از منابع و امکانات حداکثر استفاده را بکنیم.

۱۲- خیر، این کار موجب ضرر رساندن به بهداشت و سلامت ساکنان محله می‌شود. (یا مفاهیم مشابه)

۱۳- استفاده مناسب از وقت و زمان- نظم، ترتیب و انضباط در کارها- اصلاح عادت‌های غلط مصرفی- انجام دادن کارها از روی آگاهی، تنظیم جدول بودجه اقتصادی (۲ مورد کافی است)

۱۴- * قوانین و مقررات، آداب‌ورسوم = هنجار * راست‌گویی خوب و دروغ‌گویی بد است = ارزش

گذراندن آموزش‌های خانواده قبل از ازدواج - مشاوره با افراد دارای صلاحیت در زمینه همسرگزینی - رعایت اخلاق و ادب همسر داری مثل خوش‌خلقی و... - گفت‌وگوی صمیمانه زن و شوهر برای حل مشکلات.





بخش اختیاری:

- ۱- الف) (ب)
- ۲- عقب - چون نیویورک در نیمکره غربی واقع است و تهران در نیمکره شرقی
- ۳- پدید آمدن شب و روز و اختلاف ساعت
- ۴- سال رسمی ۳۶۵ روز است ولی سال کبیسه ۳۶۶ روز
- ۵- گزینه ۲
- ۶- ذوب شدن یخ‌های قطب- بالا آمدن آب دریاها - به زیر آب رفتن نواحی ساحلی و جزیره‌ها - وقوع خشکسالی در نواحی گرم و خشک (۲ مورد)
- ۷- اگر فشار به لایه‌های رسوبی به‌گونه‌ای باشد که پوسته را دچار شکستگی کند گسل به وجود می‌آید.
- ۸- به ترتیب از راست به چپ: فلات قاره - شیب قاره
- ۹- باید بین استفاده اقتصادی از جنگل‌ها و فرصت بازسازی آن‌ها تعادل به وجود بیاید، میزان قطع درختان باید قاعده و قانون داشته باشد- کشاورزی و دامپروری با روش علمی و جدید را که کمترین آسیب به محیط زیست می‌رساند به کشاورزان این منطقه آموزش بدهند- با ایجاد پارک‌های وحش از گونه‌های جانوری و گیاهان در معرض خطر مراقبت کنند تا نسل آن‌ها منقرض نشود.
- ۱۰- الف) توندرا (ب) ساوان (ج) جنگل‌های بارانی استوایی
- ۱۱- جنگ‌ها و شمشک‌های داخلی، فرهنگ و باورهای غلط، بی‌سوادی و ناآگاهی مردم، غفلت از استعدادها و فرهنگ خود، نداشتن ایمان و اراده برای تغییر وضع و نبود وحدت و مشارکت بین مردم (۴ مورد)
- ۱۲- مهاجرت در داخل مرزهای کشور را مهاجرت داخلی گویند. مثل مهاجرت روستاییان به شهر * مهاجرت خارجی از کشوری به کشور دیگر صورت می‌گیرد مثل مهاجران افغانی که به ایران آمده‌اند و ...
- ۱۳- الف) (ب)
- ۱۴- رسمی کردن مذهب شیعه - شکست ازبکان و از میان برداشتن حاکمان نواحی مختلف- وسعت قلمرو را مانند زمان ساسانیان کرد. (۲ مورد)
- ۱۵- یکپارچه بودن سرزمین ایران و وجود نظم و امنیت در سراسر کشور، وجود شبکه وسیعی از راه‌ها و کاروانسراها در سراسر ایران (۲ مورد)
- ۱۶- الف) زندیه (ب) وکیل‌الرعايا
- ۱۷- وقتی آیت‌الله میرزا حسن شیرازی مرجع شیعیان در سامرا در حمایت از نهضت استفاده از توتون و تنباکو را حرام اعلام کرد، این حکم سبب شد که مردم حتی کارکنان کاخ شاه قلیان‌ها را شکستند و مقدار زیادی توتون و تنباکو را به آتش بکشند. با اوج گرفتن نهضت شاه مجبور به لغو امتیاز شد.
- ۱۸- وی فرستادن دانشجو را به اروپا کافی نمی‌دانست از این رو تصمیم گرفت مدرسه‌ای به سبک اروپایی در ایران تأسیس کند تا تعداد بیشتری از ایرانیان علوم و فنون جدید را در داخل کشور بیاموزند.

پاسخ آزمون شماره «۵»

- ۱- الف) (ب) (ج)
- ۲- الف) حرکت وضعی زمین
- ۳- ۴۵ درجه شمالی (N)
- ۴- الف) سنگ‌کره (ب) گسل
- ۵-
- ۶- زیرا در لایه وردسپهر (تروپوسفر)، هر چه از سطح زمین بالاتر می‌رویم دمای هوا کم می‌شود، بنابراین در مناطقی که ارتفاع آن بیشتر باشد دما کاهش می‌یابد
- ۷-
- ۸- الف) جنگل‌های بارانی استوایی (ب) ساوان
- ۹- وقتی درختان سوزانده یا قطع می‌شوند، دی‌اکسید کربن بیشتر وارد جو می‌شود و اثرات گازه‌های گلخانه‌ای بیشتر و زمین گرم‌تر می‌شود.
- ۱۰- ب) درآمد سرانه
- ۱۱- یعنی تعداد سال‌هایی که انتظار می‌رود کودکی که در آن کشور به دنیا آمده است، عمر کند و زنده بماند و نشان دهنده وضعیت سلامت و بهداشت در آن جامعه است.
- ۱۲- ۱۲- کشورهایی که دچار بحران سیاسی و جنگ‌های داخلی هستند نه‌تنها رشد اقتصادی مطلوبی ندارند، بلکه تولید و درآمد در آن‌ها کاهش می‌یابد.
- ۱۳- ب) ازبک‌ها
- ۱۴- از تبریز به قزوین انتقال داد، زیرا تبریز همواره در معرض هجوم سپاه عثمانی بود.





- ۱۵- شاه عباس اول از رقابت انگلیسی‌ها و پرتغالی‌ها استفاده کرد و به کمک کشتی‌های جنگی انگلستان، پرتغالی‌ها را از سواحل بیرون راند.
- ۱۶- الف) توجه ویژه‌ای به حفظ استقلال کشور داشت و درصدد قطع نفوذ روسیه و انگلستان بود.
- ۱۷- تأسیس مدرسه دارالفنون و استخدام معلمانی از کشورهایی مانند اتریش
- ۱۸- الف) ترکمان‌چای ب) تالبوت
- ۱۹- کریم‌خان زند یا وکیل‌الرعايا
- ۲۰-
- ۲۱- ج) کاپیتولاسیون
- ۲۲- تصویب اصول برنامه‌های فرهنگی
- ۲۳- ج) رهبری
- ۲۴- نتیجه همه‌پرسی تعیین نظام سیاسی ← ۱۲ فروردین ۱۳۵۸
- اعتراض به انتشار مقاله توهین‌آمیز روزنامه اطلاعات ← قیام ۱۹ دی قم
- برگزاری جشن عید نوروز در ایران ← فرهنگ
- آموزش نحوه سلام و احوال‌پرسی توسط پدر و مادر ← جامعه‌پذیری
- رنگ قرمز چراغ راهنمایی و رانندگی ← نماد
- صرفه‌جویی در مصرف آب ← ارزش
- ۲۵- سیاسی: واگذاری امتیاز به روش و انگلیس اقتصادی: سختگیری مأموران مالیاتی و فقر فرهنگی: آموزه‌های اسلام و شیعه و ظلم‌ستیزی
- ۲۶- الف) رئیس‌علی دلواری ب) عین الدوله
- ۲۷- الف) متفقین ب) استفاده از امکانات و منابع ایران
- ۲۸- الف) حق انتخاب و مشارکت مردم به رسمیت شناخته می‌شود.
- ب) معتقد به اسلام و متعهد به اجرای آن
- ج) در زمان غیبت امام زمان (عج) بر عهده ولی‌فقیه است.
- ۲۹- اولین شرط بقای هر جامعه جمعیت است زیرا بدون جمعیت کافی، فعالیت‌ها دچار اختلال شده و جامعه نابود می‌گردد.
- ۳۰- تعرض بین نقش‌ها باعث به وجود آمدن این مشکل شده است.
- گفتگوی صمیمانه زن و شوهر و تقسیم کار و همکاری بین اعضای خانواده زمانی که مادر شاغل است.
- ۳۱- وضع قوانین و مقررات لازم در امور مختلف و اجرای قانون * برقراری نظم و امنیت و رسیدگی به اختلاف‌ها و شکایت‌ها و...
- ۳۲- اولین شرط بقای هر جمعیت است زیرا بدون جمعیت کافی، فعالیت‌ها دچار اختلال شده و جامعه نابود می‌گردد.
- ۳۳- به‌جای آبیاری باغ به روش‌های سنتی از روش‌های جدید و کم‌مصرف، مانند آبیاری قطره‌ای استفاده کرده و از اتلاف آب جلوگیری کند.



۱- ثبت نام کنید



ثبت نام در گاما بسیار ساده است. کافی است اطلاعات مختصری را وارد کنید و عضو شوید. در انتخاب نوع کاربری خود دقت کنید:

- دانش آموز (یا والدین) هستم
- معلم هستم
- مدیر مدرسه هستم



۲- وارد شوید



با وارد کردن ایمیل و رمز عبور خود می‌توانید وارد صفحه اختصاصی خود شوید و از خدمات متنوع گاما استفاده کنید و لذت ببرید.
اگر شماره تلفن همراه شما تأیید شده باشد، می‌توانید برای ورود به جای ایمیل از شماره تلفن همراه استفاده کنید.

۳- به اشتراک بگذارید



نمونه سؤالات امتحانی:



شما می‌توانید نمونه سؤالات امتحانی که خودتان طراحی کرده‌اید را برای استفاده همکاران دیگر و دانش‌آموزان داخل سایت ثبت کنید. این آزمون‌ها به نام خودتان ثبت می‌شوند و بخشی از درآمد حاصل از فروش آنها به شما تعلق می‌گیرد.

فایل‌های آموزشی:



اگر فیلم آموزشی، پاورپوینت تدریس، مباحث کتاب‌های درسی، پاورپوینت تحقیق از مفاهیم کتاب‌های درسی، فایل‌های آموزش تعاملی، اپلیکیشن‌های اندروید و برنامه‌های اجرایی تولید کرده‌اید، به اشتراک بگذارید.

آزمون آنلاین:



ما بستری بسیار حرفه‌ای و مدرن برای برگزاری هر نوع آزمون تستی که تصور کنید، فراهم کرده‌ایم. دبیران عزیز هر موقع که اراده کنند می‌توانند سؤالات تستی خود را همراه با پاسخ آنها ثبت کنند تا دانش‌آموزانشان در آزمون شرکت کنند.

پرسش و پاسخ:



در سامانه پرسش و پاسخ شما می‌توانید اشکالات درسی و مشاوره‌های تحصیلی مورد نیاز خود را به صورت یک پرسش در معرض دید سایر کاربران قرار بدهید تا هر کسی که تمایل داشت به پرسش شما پاسخ بدهد.

۱

۲

۳

۴



گنجینه آموزشی مدارس ایران

از تولیدات آموزشی گاما لذت ببرید

انواع آزمون‌ها و نمونه سؤالات امتحانی را دانلود کنید:



- آزمونک، ارزشیابی مستمر و آزمون عملکردی
- آزمون نوبت اول و نوبت دوم
- آزمون‌های پیشرفت تحصیلی، ورودی مدارس تیزهوشان، نمونه دولتی و...

محتوای آموزش الکترونیکی را از دست ندهید:



- پاورپوینت‌های درسی
- ویدئوها و محتوای آموزش تعاملی
- کتابهای دیجیتال و...

در آزمون آنلاین شرکت کنید:



- آزمونک‌های تستی منظم دوره‌ای
- آزمون‌های سنجش بنیهای علمی با صدور کارنامه آنی و تعیین رتبه در بین شرکت کنندگان



پاسخ پرسش‌های خود را دریافت کنید:

- رفع اشکال مباحث درسی
- مشاوره تحصیلی
- اشتراک تجربه‌ها

آزمون آنلاین

آزمون‌های خودسنجی
تستی دوره‌ای و
آزمون‌های بنیہ علمی



پرسش و پاسخ

رفع اشکال درسی و
مشاوره تحصیلی در
محیطی تخصصی



نمونه سؤالات امتحانی

مجموعه‌ای متنوع و بی‌نظیر
از انواع آزمون‌های مدارس
ایران با امکان ویرایش



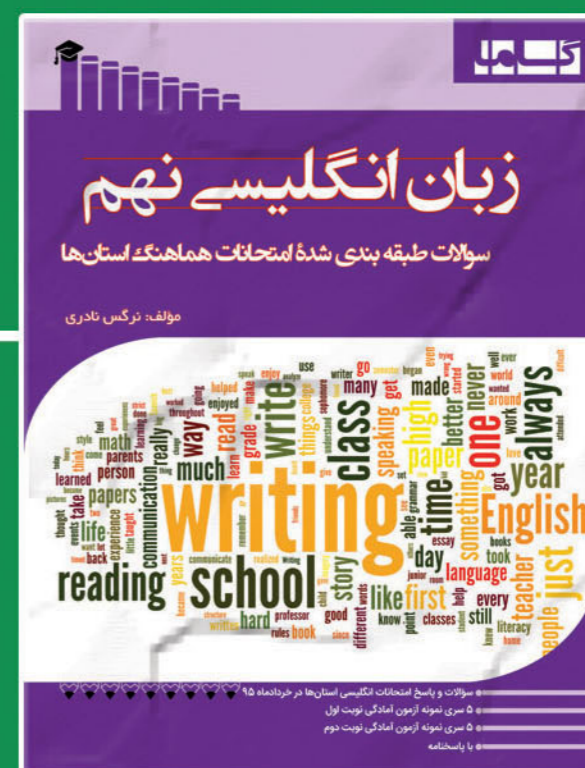


www.gama.ir

محتوای آموزشی دیجیتال

پاورپوینت، فیلم، محتوای
تعاملی، اپلیکیشن اندروید
و کتاب‌های دیجیتال



گاما منتشر کرد...



ارتباط با مرکز پخش



www.gama.ir



info@gama.ir



۰۳۱-۳۶۶۵۱۴۶۰



اصفهان، سه‌راه حکیم نظامی، ابتدای خیابان ارتش
چاپ و نشر کنکاش ۰۳۱-۳۶۲۵۸۰۴۹

ISBN:978-600-136-325-2



786001

363252